



XUNTA DE GALICIA

CONSELLERÍA DE CULTURA, EDUCACIÓN
E ORDENACIÓN UNIVERSITARIA



UNIÓN EUROPEA
Fondo Social Europeo

"O FSE inviste no teu futuro"



GOBIERNO
DE ESPAÑA

MINISTERIO
DE EDUCACIÓN, CULTURA
Y DEPORTE

Probas de acceso a ciclos formativos de grao medio

CMPS003

Ciencias sociais

Parte sociolingüística. Ciencias sociais



1. Formato da proba

Formato

- A proba consta de vinte cuestións tipo test.
- As cuestións tipo test teñen tres posibles respostas, das que soamente unha é correcta.

Puntuación

- 0,50 puntos por cuestión tipo test correctamente contestada.
- Cada cuestión tipo test incorrecta restará 0,125 puntos.
- Polas respostas en branco non se descontará puntuación.
- No caso de marcar máis dunha resposta por pregunta considerarase como unha resposta en branco.

Duración

- Este exercicio terá unha duración máxima de: 40 minutos.

Materiais e instrumentos que se poden empregar durante a proba

- Bolígrafo con tinta negra ou azul.



2. Exercicio

1. As características estilísticas desta catedral, coa presenza de rosetón, contrafortes, arcos apuntados, etc., indican que foi construída no estilo:

Las características estilísticas de esta catedral, con la presencia de rosetón, contrafuertes, arcos apuntados, etc., indican que fue construida en estilo:

- A Renacentista.
- B Gótico.
- C Mudéjar.
Mudéjar.



2. Sinala a secuencia correcta dos seguintes feitos históricos.

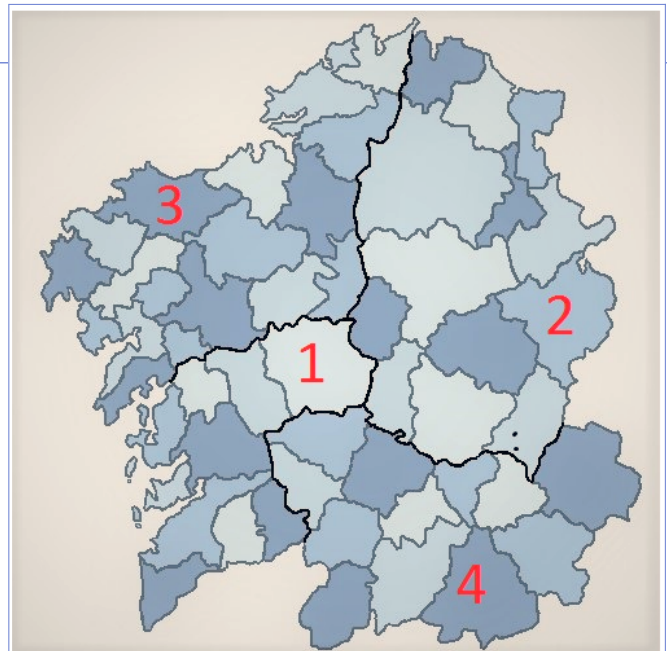
Señale la secuencia correcta de los siguientes hechos históricos.

- A Dieta de Worms - Tratado de Versalles - Concilio de Trento.
- B Tratado de Versalles - Dieta de Worms - Concilio de Trento.
- C Dieta de Worms - Concilio de Trento - Tratado de Versalles.

3. Identifique correctamente as comarcas de Galicia indicadas.

Identifique correctamente las comarcas de Galicia indicadas.

- A 1: Bergantiños. 2: Deza.
3: Verín. 4: Ancares.
- B 1: Deza. 2: Ancares.
3: Bergantiños. 4: Verín.
- C 1: Ancares. 2: Bergantiños.
3: Deza. 4: Verín.





4. Sinale cal das seguintes institucións forma parte da Administración autonómica de Galicia.

Señale cuál de las siguientes instituciones forma parte de la Administración autonómica de Galicia.

- A** Deputación Provincial de Pontevedra.
Diputación Provincial de Pontevedra.
- B** Real Academia Galega.
Real Academia Gallega.
- C** Tribunal Superior de Xustiza de Galicia.
Tribunal Superior de Justicia de Galicia.

5. Sinale a afirmación historicamente correcta sobre o proceso coñecido como Revolución Industrial:

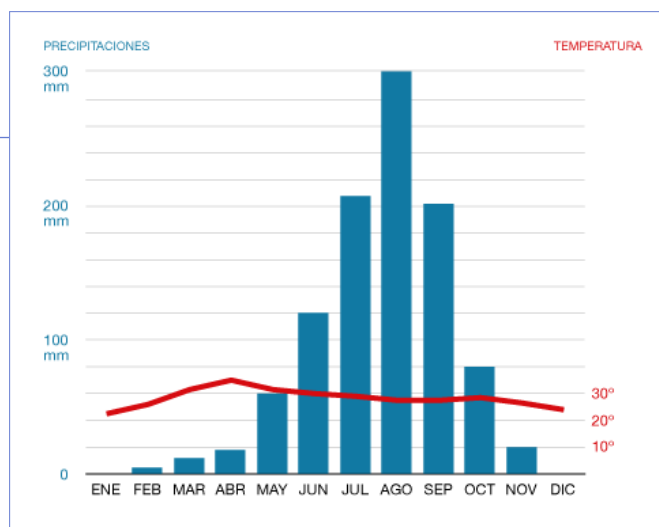
Señale la afirmación históricamente correcta sobre el proceso conocido como Revolución Industrial:

- A** Comezou en Inglaterra co desenvolvemento do sector metalúrxico.
Comenzó en Inglaterra con el desarrollo del sector metalúrgico.
- B** Comezou en Inglaterra co desenvolvemento do sector algodonero.
Comenzó en Inglaterra con el desarrollo del sector algodonero.
- C** Comezou en Inglaterra co desenvolvemento do sector químico.
Comenzó en Inglaterra con el desarrollo del sector químico.

6. Tendo en conta o réxime anual de precipitacións e temperaturas que reflicte o climograma proposto, sinale a que tipo de clima corresponde.

Teniendo en cuenta el régimen anual de precipitaciones y temperaturas que refleja el climograma propuesto, señale a qué tipo de clima corresponde.

- A** Tropical con estación seca.
- B** Oceánico.
- C** Mediterráneo.





7. Dentro do pensamento socialista da segunda metade do século XIX, que ideoloxía defendía a supresión de calquera forma de Estado?

Dentro del pensamiento socialista de la segunda mitad del siglo XIX, ¿qué ideología defendía la supresión de cualquier forma de Estado?

- A** Comunistas.
- B** Nihilistas.
- C** Anarquistas.

8. En que ano entraron en circulación en España os billetes e moedas de euro?

¿En qué año entraron en circulación en España los billetes y monedas de euro?

- A** 1998
- B** 2002
- C** 2007

9. Cal dos seguintes organismos internacionais dependentes da ONU está relacionado coa atención ás persoas desprazadas sen fogar?

¿Cuál de los siguientes organismos internacionales dependientes de la ONU está relacionado con la atención a las personas desplazadas sin hogar?

- A** UNICEF.
- B** FAO.
- C** ACNUR.

10. Identifique cal destas afirmacións **NON é unha das causas da primeira Guerra Mundial.**

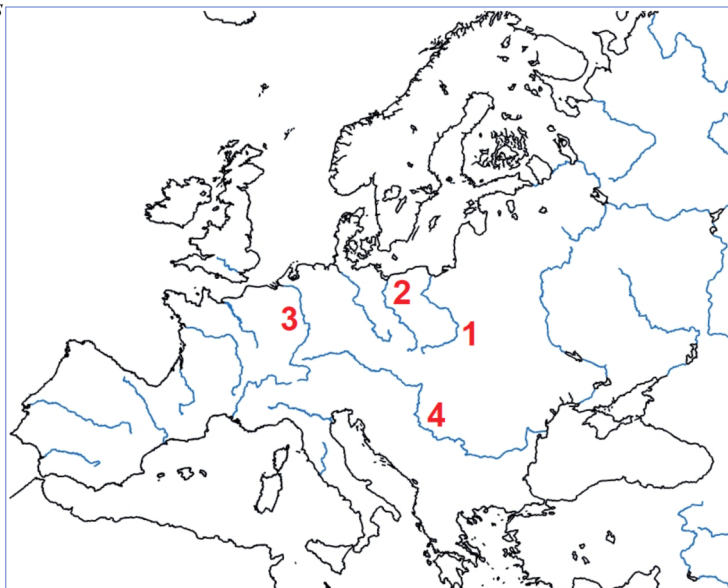
*Identifique cual de las siguientes afirmaciones **NO** es una de las causas de la primera Guerra Mundial.*

- A** A redacción do Tratado de Versalles.
La redacción del Tratado de Versalles.
- B** A grave situación política que se vivía nos Balcáns.
La grave situación política que se vivía en los Balcanes.
- C** A carreira imperialista.
La carrera imperialista.

11. Identifique correctamente os ríos europeos sinalados con números.

Identifique correctamente los ríos europeos señalados con números.

- A** 1: Vístula. 2: Oder. 3: Rin.
4: Danubio.
- B** 1: Oder. 2: Vístula. 3: Rin.
4: Danubio.
- C** 1: Danubio. 2: Oder. 3: Vístula.
4: Rin.

**12.** Sinala cal é, entre as propostas, unha tendencia pictórica característica do último Renacemento.


Señale cuál es, entre las propuestas, una tendencia pictórica característica del último Renacimiento.

- A** Tenebrismo.
- B** Manierismo.
- C** Expresionismo.

13. O uso da “pedra puída” como instrumental lítico xorde no período prehistórico coñecido como:

El uso de la “piedra pulimentada” como instrumental lítico surge en el período prehistórico conocido como:

- A** Paleolítico.
Paleolítico.
- B** Magdaleniano.
Magdalenense.
- C** Neolítico.
Neolítico.





14. Sinale a frase que defina correctamente o concepto de "polis".

Señale la frase que defina correctamente el concepto de "polis".

- A** O Imperio Grego antigo.
El Imperio Griego antiguo.
- B** Cidades-estado gregas, que xurdiron a partir do século VIII a. C.
Ciudades-estado griegas, que surgieron a partir del siglo VIII a. C.
- C** Entidades políticas propias do antigo Imperio Persa.
Entidades políticas propias del antiguo Imperio Persa.

15. Sinale a frase que identifica correctamente o réxime demográfico de España.

Señale la frase que identifica correctamente el régimen demográfico de España.

- A** España ten unha taxa de natalidade alta e unha elevada esperanza de vida, o que implica un crecemento vexetativo positivo.
España tiene una tasa de natalidad alta y una elevada esperanza de vida, lo que implica un crecimiento vegetativo positivo.
- B** España ten unha taxa de natalidade alta e unha baixa esperanza de vida, o que implica un crecemento vexetativo de tipo neutro.
España tiene una tasa de natalidad alta y una baja esperanza de vida, lo que implica un crecimiento vegetativo de tipo neutro.
- C** España ten unha taxa de natalidade baixa e unha elevada esperanza de vida, o que implica un crecemento vexetativo xeralmente negativo.
España tiene una tasa de natalidad baja y una elevada esperanza de vida, lo que implica un crecimiento vegetativo generalmente negativo.

16. A obra escultórica de Gian Lorenzo Bernini, en composición aberta e con marcadas diagonais, é característica do estilo:

- A** Barroco.
- B** Manierista.
- C** Renacentista.

La obra escultórica de Gian Lorenzo Bernini, en composición abierta y con marcadas diagonales, es característica del estilo:





17. Cal é a secuencia cronolóxica correcta de acontecementos da Historia Contemporánea?

¿Cuál es la secuencia cronológica correcta de acontecimientos de la Historia Contemporánea?

- A** Guerra Fría - Revolución Rusa - 1ª Guerra Mundial.
- B** Revolución Rusa - 1ª Guerra Mundial - Guerra Fría.
- C** 1ª Guerra Mundial - Revolución Rusa - Guerra Fría.

18. O artigo 1.2 da Constitución de 1978 di: "A soberanía nacional reside no pobo español, do que emanan os poderes do Estado". Que dereito se outorga deste xeito ao pobo español?

El artículo 1.2 de la Constitución de 1978 dice: "La soberanía nacional reside en el pueblo español, del que emanan los poderes del Estado". ¿Qué derecho se otorga de esta manera al pueblo español?

- A** O dereito a elixir os seus representantes políticos.
El derecho a elegir a sus representantes políticos.
- B** O dereito a percibir un salario digno.
El derecho a percibir un salario digno.
- C** O dereito a non sermos discriminados por razón de sexo.
El derecho a no ser discriminados por razón de sexo.

19. Señale a cronoloxía correcta correspondente ao Trienio Liberal, que tivo lugar en España tras o pronunciamento de Rafael de Riego.

Señale la cronología correcta correspondiente al Trienio Liberal, que tuvo lugar en España tras el pronunciamiento de Rafael de Riego.

- A** 1868-1870
- B** 1820-1823
- C** 1871-1874

20. Polo seu xeito innovador de pintar ao aire libre, traballando a incidencia da luz sobre a paisaxe, a obra de Claude Monet enmárcase no estilo:

Por su manera innovadora de pintar al aire libre, trabajando la incidencia de la luz sobre el paisaje, la obra de Claude Monet se enmarca en el estilo:

- A** Impresionista.
- B** Iluminista.
- C** Expresionista.





3. Solución para as preguntas tipo test

Nº	A	B	C	
1		X		
2			X	
3		X		
4			X	
5		X		
6	X			
7			X	
8		X		
9			X	
10	X			
11	X			
12		X		
13			X	
14		X		
15			X	
16	X			
17			X	
18	X			
19		X		
20	X			
N. de respostas correctas (C)				
N. de respostas incorrectas (Z)				
Puntuación do test= $C \times 0,5 - Z \times 0,125$				

Nas preguntas de test, por cada resposta incorrecta descontaranse 0,125 puntos. As respostas en branco non descontarán puntuación.