

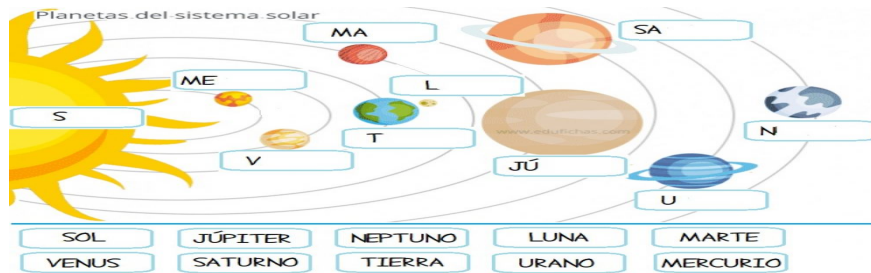
RECUPERACIÓN_1ºESO_CCSS_IES A SARDIÑEIRA_DTO XªHª_22_23

NOME: _____ APELIDOS: _____ DATA: _____

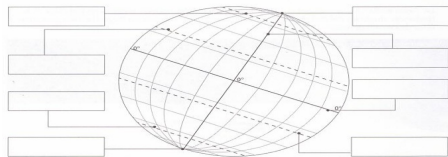
AVALIACIÓN FINAL (INDÍCASE O TRABALLO QUE SE DEBE REALIZAR POR CADA AVALIACIÓN NON SUPERADA)

1ª AVALIACIÓN

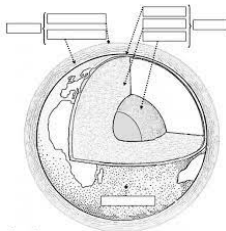
1. Pon o nome aos planetas e á estrela do Sistema Solar:



2. Sinala na esfera terrestre as principais liñas da terra cos graos que ten cada unha: ECUADOR, MERIDIANO DE GREENWICH, TRÓPICO DE CÁNCER, TRÓPICO DE CAPRICORNIO, CÍRCULO POLAR ÁRTICO, CÍRCULO POLAR ANTÁRTICO, POLO NORTE, POLO SUR.



3. Pon o nome ás distintas capas da Terra: XEOSFERA, HIDROSFERA, LITOSFERA, CODIA, MANTO, NÚCLEO INTERNO, NÚCLEO EXTERNO, ATMOSFERA, TROPOSFERA, CAPA DE OZONO



4. Que clima é?

DESIERTO CÁLIDO

Se encuentran localizados principalmente en el trópico de Cáncer y en el de Capricornio. Alguno de los desiertos conocidos al trópico de Cáncer son el desierto de Alacama y el de Sonora y California en el trópico de Capricornio encontramos el desierto de Mojave y el desierto del Sahara.

Los desiertos se caracterizan por tener pocas precipitaciones, altas temperaturas, largos periodos de sequía y poca humedad.

Los desiertos están distribuidos entre latitudes altas y bajas.

Los desiertos tienen una media de precipitación de 250 a 500 mm anuales.

Zonas sin casi precipitaciones anuales de

1) Localización e área climática, 2) Temperatura, 3) Precipitacións, 4) Vexetación e Seres humanos


2ª AVALIACIÓN

5. DEFINE E EXPLICA QUE SON AS 3 R e PON 1 EXEMPLO :

- RECICLAR :
- REUTILIZAR :
- REDUCIR :

HISTORIA

6. Describe todo o que saibas do Paleolítico DE HAI 1,8 MILLÓNS DE ANOS.



- Cando comeza o Paleolítico? Cando comeza o Neolítico?
- Dentro de que lugares vivían no Paleolítico?
- Que tarefas facían para alimentarse no Paleolítico? Que tarefas facían para alimentarse no Neolítico?
- Que ferramentas tiñan no Paleolítico? Que ferramentas tiñan no Neolítico?
- Por que o ser humano foi NÓMADE SE ÍA DE COVA EN COVA? E por que era SEDENTARIO se quedaba nun mesmo sitio?

7. Explica que foi o Megalitismo ATLÁNTICO DE GRANDES PEDRAS, A CULTURA CASTREXA e MESOPOTAMIA.

- Megalitismo significa: Grandes..... de GRANDES.....
- Sinala como foron as culturas dos Castrexos.

A cultura CASTREXA apareceu no N.....da Península Ibérica entre os anos Os CASTREXOS vivían en con murallas e en casas con forma..... Os CASTREXOS non coñecían: nin Os CASTREXOS adicábanse ao intercambiando SAL e LÁMINAS DE METAIS, e tamén se adicaban á cuidando aos animais. Na Arte, os CASTREXOS fixeron grandes figuras de pedra de para poñer á entrada dos CASTROS.

- En MESOPOTAMIA HOUBO DIFERENTES Inventos: Tipo de Escritura..... Xorde a Escritura no ano..... Os edificios que construían con arcos e bóvedas eran os Zig..... Tamén fixeron a Porta de Ishtar de Babilonia. Outros inventos e

descubrimentos: a Ro....., as Le....., os Ofi....., o Comer....., as hor..... e os dí....., os carros de, os días da se....., os plan.....

3a AVALIACIÓN

8. EXIPTO.

LE E RESPONDE:

Exipto é como un regalo do Nilo. (...) Non teñen o traballo de facer sucos na terra co arado, nin sachar (...) pois, desbordándose o río do seu leito sen obra humana e retirado dos campos despois de regalos, o traballo queda reducido a sementar e metera nas terras os rabaños para que cubran a sementa coas súas pisadas.

HERODOTO. Historias. Século V aC.

- a) Por que Herodoto dicía que Exipto era un regalo do Nilo? SULIÑAAS FRASES MÁIS IMPORTANTES
b) Cales eran os símbolos e os poderes do Faraón en Exipto? Para que servían as pirámides?

9. GRECIA e ROMA.

a) CONTESTA:

- Quen non tiña dereitos coma cidadáns en Grecia? AS MU....., OS ESCR..... E OS ESTRANX.....
- En que se parecen e se diferenzan a Democracia Grega da actual no noso país? HOXE TODOS TEMOS PORQUE TODOS SOMOS CIDAD.....

b) UNE CO SEU CORRESPONDENTE

Guerras Médicas	Enfrontaron a Atenenses e Espartanos entre o 431-404 aC. Esparta gañou a Atenas o dominio da Hélade.
Guerras do Peloponeso	Enfrontaron a Gregos e Persas entre o 500-479 aC.
Pericles	Dirixente de Atenas que edificou a acrópole cos máis grandes artistas e construíu murallas para defenderse dos persas.
Fidias	Templo adicado a Atenea
Partenón	Arquitecto e escultor do Partenón
Ostracismo	Poder do pobo
Democracia	Sistema de discriminación dos maxistrados de Atenas
Oligarquía	Goberno dunhas poucas familias
Monarquía	Goberno de 2 reis típico de Esparta
Diarquía	Goberno de 1 rei
Alexandre Magno	Emperador grego que expandiu o helenismo entre o 336 e o 30 aC, chegou a China e India e venceu aos persas.

c) ARTE GREGA. CONTESTA ÁS SEGUINTE PREGUNTAS:

- Sinala cal das seguintes imaxes corresponden aos 3 estulos arquitectónicos gregos: Dórico, Xónico e Corintio.
- Indica os nomes dos diferentes chapiteis: LISO, VOLUTAS E FOLLAS DE ACANTO




a) Une co seu correspondente:

Monarquía Romana	509-27 aC
República Romana	750-509 aC
Imperio Romano	27aC-476 dC

b) Contesta ás seguintes preguntas ao ler os textos e ver o mapa:

4► Analiza e comenta este mapa. Entre que datas tivo lugar a fase de maiores conquistas? Cando alcanzou Roma a súa máxima expansión territorial? Que consecuencias se derivaron deste dominio?

- Cando chegan os Romanos a Hispania e por que? *218 aC tras os cartaxineses nas guerras púnicas/Xulio Cesar-Augusto-Décimo Xunio Bruto no ano 5*
- En que datas e que lugares conquistaron os romanos segundo o mapa?
 - c) Ponlle o nome a estas imaxes da arte en Roma: ANFITEATRO, TEATRO, TEMPLO E ARCO DE TRIUNFO



10. MAPAS FÍSICOS:EUROPA, ESPAÑA e GALICIA: SINALA 2 CORDILLEIRAS, 2 MARES, 2 PENÍNSULAS, 2 ILLAS e 2 RÍOS en cada mapa.

