

RECUPERACIÓN_1ºESO_CCSS_I.E.S. A SARDIÑEIRA_DTO XªHª_22_23

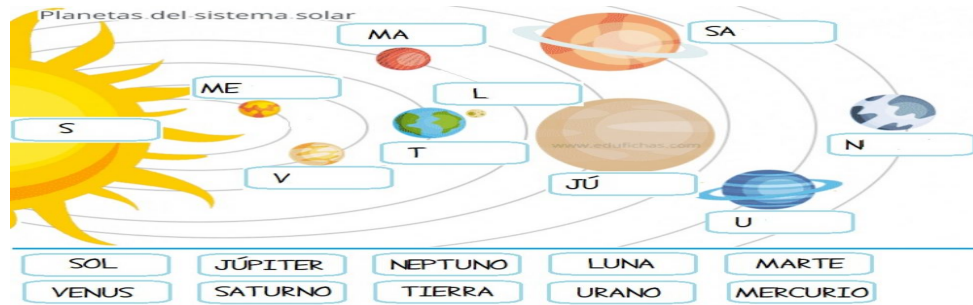
NOME:

APELIDOS:

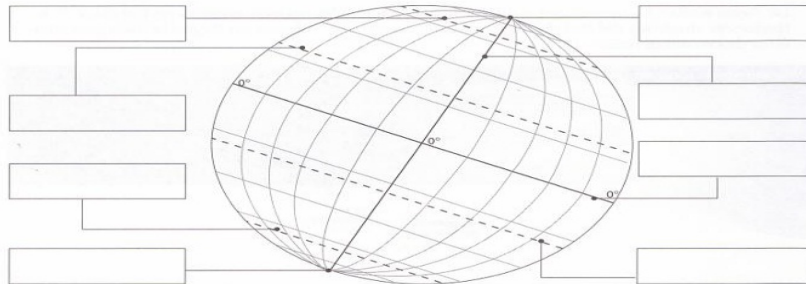
DATA:

1ª AVALIACIÓN

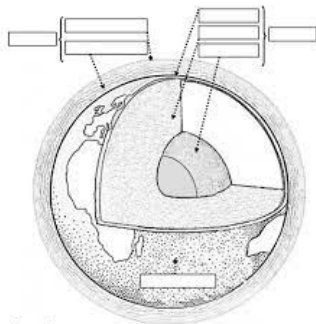
1. Pon o nome aos planetas e á estrela do Sistema Solar:



2. Señala na esfera terrestre as principais liñas da terra cos graos que ten cada unha: ECUADOR, MERIDIANO DE GREENWICH, TRÓPICO DE CÁNCER, TRÓPICO DE CAPRICORNIO, CÍRCULO POLAR ÁRTICO, CÍRCULO POLAR ANTÁRTICO, POLO NORTE, POLO SUR.



3. Pon o nome ás distintas capas da Terra: XEOSFERA, HIDROSFERA, LITOSFERA, CODIA, MANTO, NÚCLEO INTERNO, NÚCLEO EXTERNO, ATMOSFERA, TROPOSFERA, CAPA DE OZONO



4. Por que a ATMOSFERA é importante para que haxa VIDA NA TERRA?

Hai vida na Terra porque na

Atmosfera _____

5. Señala a diferenza entre TEMPO e CLIMA.

- TEMPO:

- CLIMA:

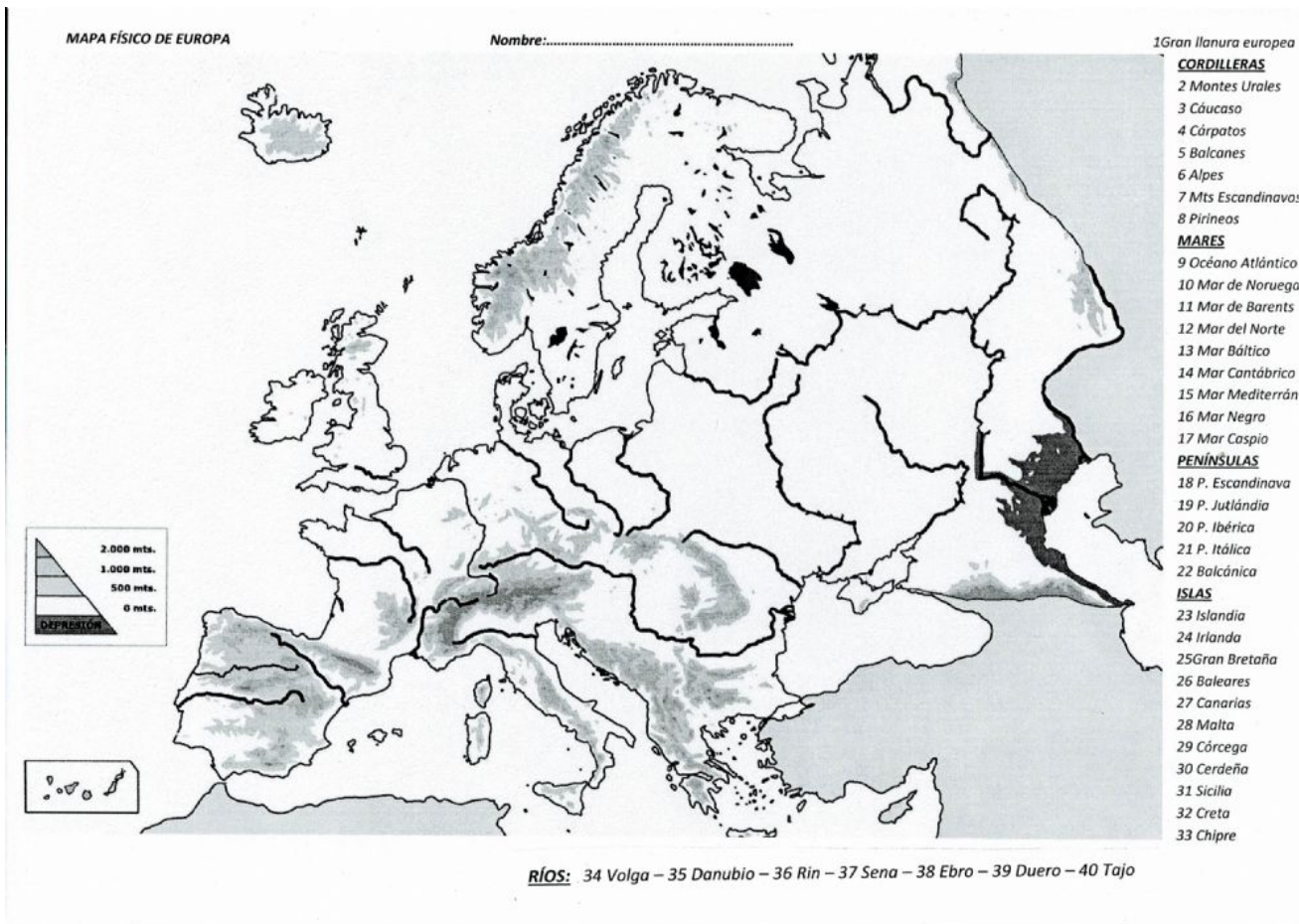
7. Que clima é?



- 1) Localización e área climática, 2) Temperatura, 3) Precipitacións, 4) Vexetación e Seres humanos

1a AVALIACIÓN
 MAPAS:

1. MAPA FÍSICO DE EUROPA



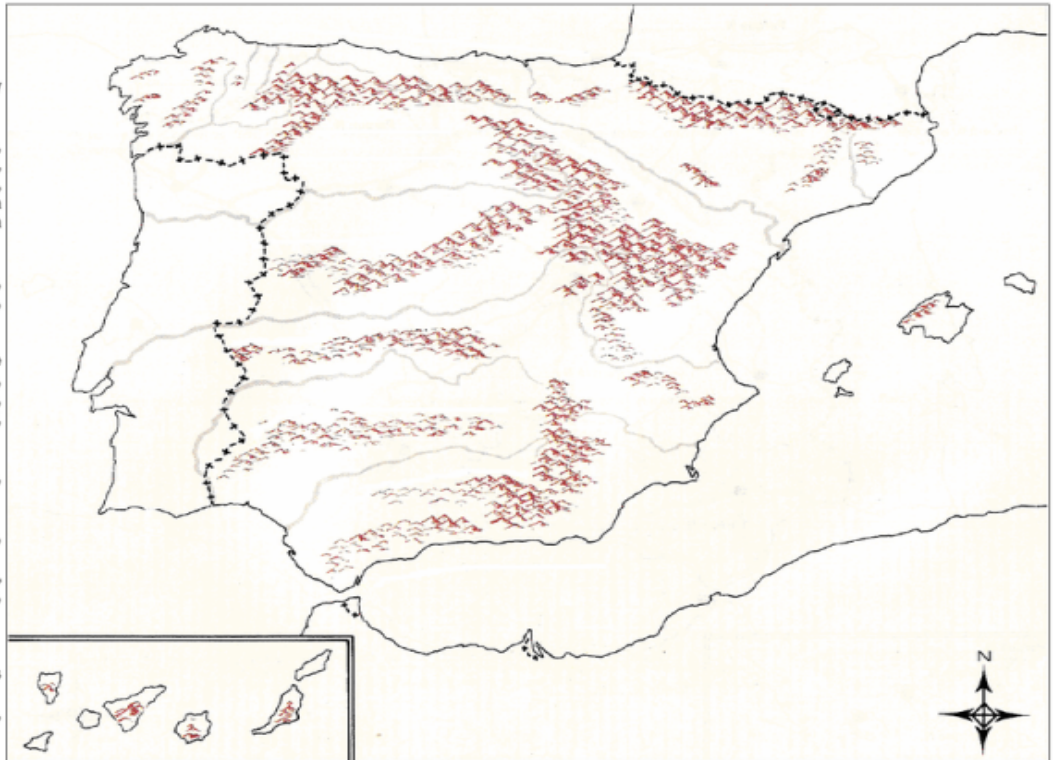


2. MAPA FÍSICO DE ESPAÑA

MAPA FÍSICO DE ESPAÑA

Colorea y coloca en el mapa:

- A) OCÉANOS Y MARES:** (color celeste)
 - ∞ Mar Cantábrico, Mar Mediterráneo y Océano Atlántico.
- B) SISTEMAS MONTAÑOSOS:** (marrón)
 - ∞ Cordillera Cantábrica, Macizo Galaico, Montes de León, Sistema Central, Montes de Toledo, Sierra Morena, Cordillera Subbética, Cordillera Penibética, Sistema Ibérico, Cordillera Costero Catalana, Pirineos.
- C) RIOS:** (repásalos con azul)
 - ∞ Miño, Duero, Tajo, Guadiana, Guadalquivir, Segura, Júcar, Ebro, Llobregat.
- D) CABOS:**
 - ∞ Machichaco, Ajo, Peñas, Estaca de Bares, Ortegá, Finisterre, Roca, Espichel, San Vicente, Santa María, Trafalgar, Punta de Tarifa, Sacratif, Gata, Palos, La Nao, Creus.
- E) GOLFOS:**
 - ∞ Vizcaya, Cádiz, Almería, Valencia, Rosas, Golfo de León.
- F) ISLAS:**
 - ∞ **BALEARES:** Mallorca, Menorca, Ibiza, Formentera, Cabrera.
 - ∞ **CANARIAS:** Gran Canaria, Lanzarote, Fuerteventura, Tenerife, La Plama, Gomera, Hierro.
- G) Sitúa las ciudades autónomas de:**
 - ∞ Ceuta y Melilla.
- H) Escribe con letras mayúsculas las naciones fronterizas con España:**
 - ∞ FRANCIA, PORTUGAL, ANDORRA, MARRUECOS, ARGELIA.



Idro Burgos Ramos

3. MAPA FÍSICO DE GALICIA

