

RECUPERACIÓN_1ºESO_CCSS_IES A SARDIÑEIRA_DTO XªHª_21_22

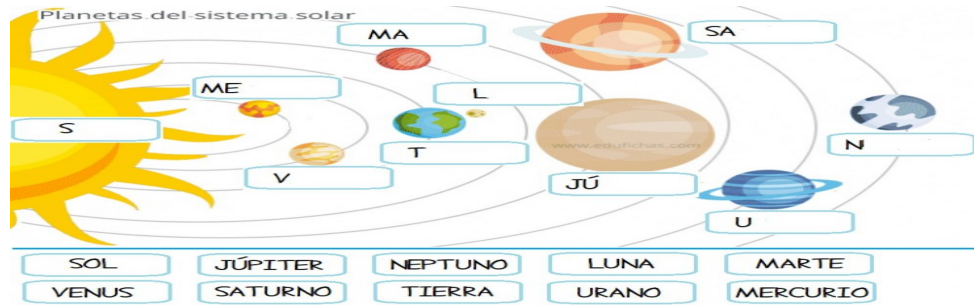
NOME:

APELIDOS:

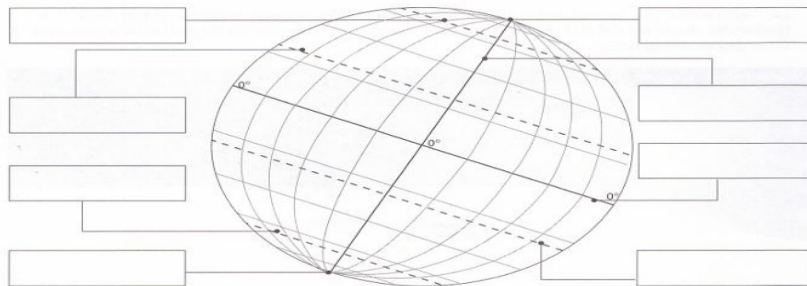
DATA:

1ª AVALIACIÓN

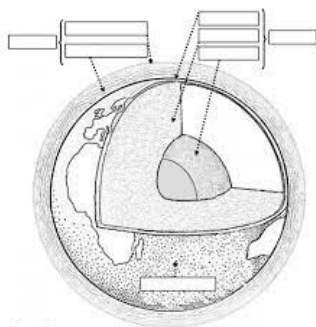
1. Pon o nome aos planetas e á estrela do Sistema Solar:



2. Sinála na esfera terrestre as principais liñas da terra cos graos que ten cada unha: ECUADOR, MERIDIANO DE GREENWICH, TRÓPICO DE CÁNCER, TRÓPICO DE CAPRICORNIO, CÍRCULO POLAR ÁRTICO, CÍRCULO POLAR ANTÁRTICO, POLO NORTE, POLO SUR.



3. Pon o nome ás distintas capas da Terra: XEOSFERA, HIDROSFERA, LITOSFERA, CODIA, MANTO, NÚCLEO INTERNO, NÚCLEO EXTERNO, ATMOSFERA, TROPOSFERA, CAPA DE OZONO



4. Por que a ATMOSFERA é importante para que haxa VIDA NA TERRA?

Hai vida na Terra porque na

Atmosfera _____

5. Sinála a diferenza entre TEMPO e CLIMA.

- TEMPO:

- CLIMA:

7. Que clima é?



- 1) Localización e área climática, 2) Temperatura, 3) Precipitacións, 4) Vexetación e Seres humanos

2ª AVALIACIÓN

8. Define :

- Vaga de calor :
- Smog ou contaminación industrial nas cidades:
- WWF para os animais:
- Greenpeace para mares e océanos:


9. DEFINE E EXPLICA QUE SON AS 3 R e PON 1 EXEMPLO :

- RECICLAR :
- REUTILIZAR :
- REDUCIR :

HISTORIA

3a AVALIACIÓN

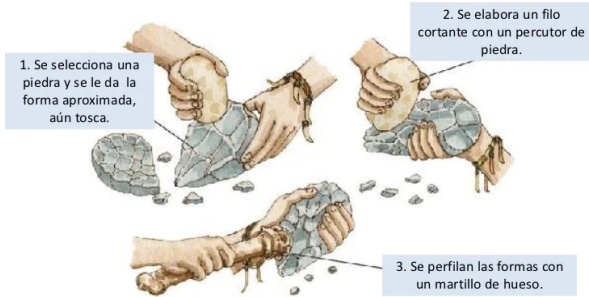
1. Describe todo o que saibas do Paleolítico DE HAI 1,8 MILLÓNS DE ANOS.



- Cando comeza o Paleolítico?
- Dentro de que lugares vivían no Paleolítico?
- Que tarefas facían para alimentarse no Paleolítico?

- Que ferramentas tiñan no Paleolítico? EXPLICA A IMAXE

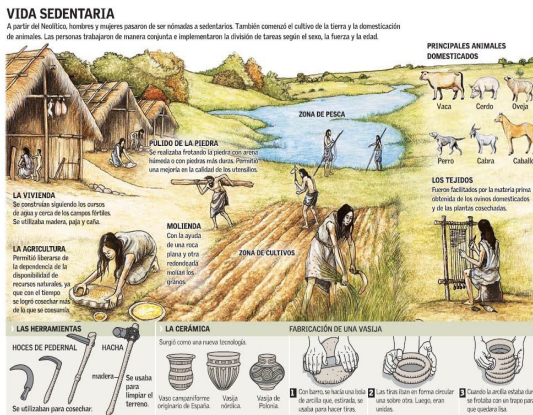
INSTRUMENTOS DE PIEDRA



- Por que o ser humano foi NÓMADE SE ÍA DE COVA EN COVA?
- Que tipo de Arte houbo no Paleolítico? EXPLICA O QUE VES NA IMAXE



- 2. Describe o Neolítico DO ANO 3500 a.C e sinala todo o que saibas.



- Cando comeza o Neolítico?
- En que lugares vivían no Neolítico?
- Que tarefas facían para alimentarse no Neolítico?
- Que ferramentas tiñan no Neolítico?
- Por que o ser humano foi SEDENTARIO SÓ VIVINDO NAS CABANAS e AGRICULTOR/GANDEIRO no Neolítico?
- Que tipo de Arte houbo no Neolítico? EXPLICA O QUE VES NA IMAXE.



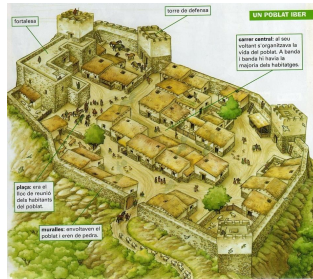
3. Explica que foi o Megalitismo ATLÁNTICO DE GRANDES PEDRAS.

MENHIR	DOLMEN	CRÓMLECH
Gran pedra clavada verticalmente sobre el suelo. Podía tener una función conmemorativa o ser una marca territorial.	Cámara funeraria formada por grandes pedras verticais que sostienen unas losas de cobertura. Servía de sepultura funeraria colectiva..	Conjunto de pedras verticales y losas horizontales dispuestas en círculo, construídas posiblemente con finalidade relixiosa a modo de santuarios.



- Megalitismo significa: Grandes..... de GRANDES.....
- Menhir: construción relixiosa que era unha pedra...
- Dolmen: construción funeraria ou tumba que estaba feita...
- Crómlech: construción relixiosa dun conxunto de pedras que estaban en círculo.....
- O Megalitismo apareceu na costa do Océano Atl..... cara o 3500 aC

4. Sinala como foron as culturas dos Iberos e dos Castrexos.



COMPLETA COAS PALABRAS QUE FALTAN: Sur, século VII aC, Cidades, cadrada, moeda e escritura, tear, Baza, Dama, muíño.

A cultura **IBERA** apareceu no S.....da Península Ibérica no século Os **IBEROS** vivían en con murallas e en casas con forma..... Os **IBEROS** coñecían: e Os **IBEROS** comerciaban, cultivaban, tiñan

animais e tamén utilizaban o para moer o trigo e o para facer teas.
 Na Arte, os IBEROS fixeron a Dama de e a de Elxe.

COMPLETA COAS PALABRAS QUE FALTAN: Norte, 3500 e 1000 aC, circular, CASTROS, moeda, escritura, gandería, guerreiros castrexos.

A cultura CASTREXA apareceu no N.....da Península Ibérica entre os anos Os CASTREXOS vivían en con murallas e en casas con forma..... Os CASTREXOS non coñecían: nin Os CASTREXOS adicábanse ao intercambiando SAL e LÁMINAS DE METAIS, e tamén se adicaban á coidando aos animais. Na Arte, os CASTREXOS fixeron grandes figuras de pedra de para poñer á entrada dos CASTROS.

5. Explica como foi a cultura de Mesopotamia DO ANO 3500 aC.



- Data: Mesopotamia xorde no ano
- Lugar, ríos, significado de MESOPOTAMIA: Cre..... fér....., Tig..... e Eu..... MESOPOTAMIA é a Terr..... entre dous rí.....
- 3 Cidades: U....., U....., B.....
- Inventos: Tipo de Escritura..... Xorde a Escritura no ano..... Os edificios que construían con arcos e bóvedas eran os Zig..... Tamén fixeron a Porta de Ishtar de Babilonia.
- Outros inventos e descubrimentos: a Ro....., as Le....., os Ofi....., o Comer....., as hor..... e os dí....., os carros de, os días da se....., os plan.....

INVESTIGA... L'escritura cuneiforme

L'inici de l'escritura

Les primeres formes d'escritura eren pictogràfiques, és a dir, es dibuixava un símbol (pictograma) que representava un objecte o un concepte.

Més endavant, van sorgir els ideogrames, que representaven accions o conceptes més generals. Amb el temps, els signes es van anar simplificant i van donar lloc a l'escritura cuneiforme.

Com es feia l'escritura cuneiforme

Aquesta escritura consistia a fer incisions amb punxons sobre tauletes d'argila humida, en les quals quedaven impresos els signes. Després es deixaven assecar al sol perquè s'endurissin.

Era difícil arribar a conèixer tots els signes, per això aquesta tasca era reservada a uns especialistes: els **escribes**.

Aquest dibuix mostra com s'escriu en una tauleta de fang.

Així quedava la tauleta quan ja s'havia assecat.



1. EXIPTO.

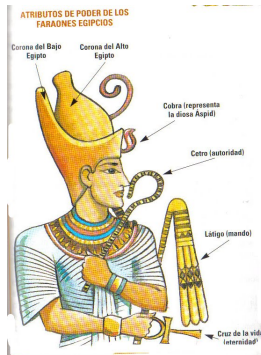
LE E RESPONDE:

Exipto é como un regalo do Nilo. (...) Non teñen o traballo de facer sucos na terra co arado, nin sachar (...) pois , desbordándose o río do seu leito sen obra humana e retirado dos campos despois de regalos, o traballo queda reducido a sementar e metera nas terras os rabaños para que cubran a sementa coas súas pisadas.

Cando o Nilo inunda o país, unicamente as cidades poden verse por riba das augas (...). Cando isto sucede, xa non navegan seguindo o curso do río, senon a través da chaira.

HERODOTO. Historias. Século V aC.

- Por que dicimos que Herodoto foi un Historiador cando nos fixamos no título da súa obra?
- Quen é o autor do texto e en que século o escribe?
- Por que Herodoto dicía que Exipto era un regalo do Nilo? **SULIÑAAS FRASES MÁIS IMPORTANTES**
- Cales eran os símbolos e os poderes do Faraón en Exipto?
- Para que servían as pirámides? Pon os nomes a pirámide de Kefren e á Esfinxe na foto.



2. GRECIA.

a) DEFINE:

- Hélade: CONXUNTO DE PO.....
- Polis:CIDA..... ESTA.....

b) Sinala se é Verdadeiro ou Falso (V/F):

A COLONIZACIÓN GREGA FOI NECESARIA PORQUE...

- Había moita poboación en Grecia no século VIII aC e tiñan barcos de vela e remos
- Grecia era moi montañosa e rochosa e xa non se podía cultivar máis
- Zeus botara un meigallo sobre os gregos
- Necesitaban recursos e materias primas para sobrevivir

c) CONTESTA:

- Por que a democracia non era igual en Atenas e Esparta? ATENAS: DEMO.... ESPARTA: 2 RE....
- Quen non tiña dereitos coma cidadáns en Grecia? AS MU....., OS ESCR..... E OS ESTRANX.....
- En que se parecen e se diferenzan a Democracia Grega da actual no noso país? HOXE TODOS TEMOS PORQUE TODOS SOMOS CIDAD.....

d) UNE CO SEU CORRESPONDENTE

Guerras Médicas Enfrontaron a Atenienses e Espartanos entre o 431-404 aC. Esparta gañou a Atenas o dominio da Hélade.

Guerras do Peloponeso Enfrontaron a Gregos e Persas entre o 500-479 aC.


Pericles	Dirixente de Atenas que edificou a acrópole cos máis grandes artistas e construíu murallas para defenderse dos persas.
Fidias	Templo adicado a Atenea
Partenón	Arquitecto e escultor do Partenón
Ostracismo	Poder do pobo
Democracia	Sistema de discriminación dos maxistrados de Atenas
Oligarquía	Goberno dunhas poucas familias
Monarquía	Goberno de 2 reis típico de Esparta
Diarquía	Goberno de 1 rei
Alexandre Magno	Emperador grego que expandiu o helenismo entre o 336 e o 30 aC, chegou a China e India e venceu aos persas.

e) ARTE GREGA. CONTESTA ÁS SEGUINTE PREGUNTAS:

- Sinala cal das seguintes imaxes corresponde aos 3 estulos arquitectónicos gregos: Dórico, Xónico e Corintio.
- Indica os nomes dos diferentes chapiteis: LISO, VOLUTAS E FOLLAS DE ACANTO



- Que 3 estilos de escultura houbo en Grecia? Ar..., Clás... e Helen.....
- Indica o estilo de cada unha das esculturas.



3. ROMA

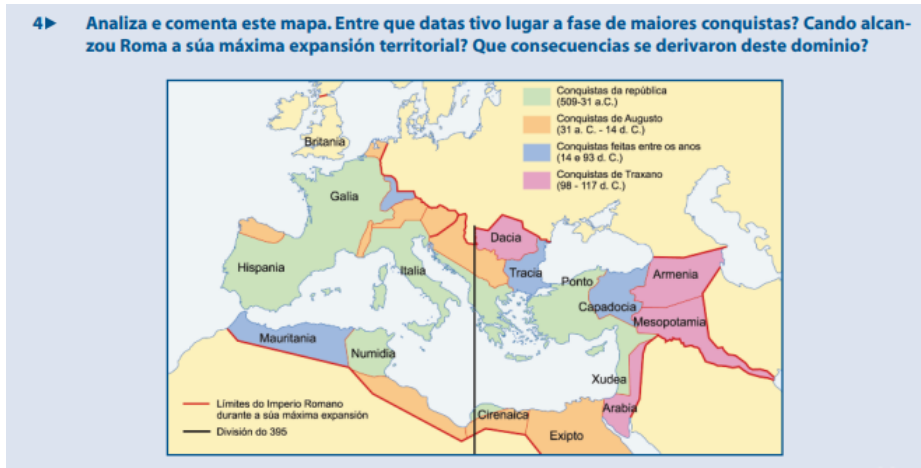
- a) Quen fundou Roma segundo a lenda e cando? ELIXE A OPCIÓN CORRECTA:
- Rómulo Rómulo e Remo Remo no 753 aC

- b) Une co seu correspondente:

Monarquía Romana	509-27 aC
República Romana	750-509 aC
Imperio Romano	27aC-476 dC

c) Contesta ás seguintes preguntas ao ler os textos e ver o mapa:

218 aC tras os cartaxineses nas guerras púnicas, Xulio Cesar-Augusto-Décimo Xunio Bruto, 5, Mediterráneo, organización indíxena-Conventus Lucensis, económicas-políticas-militares-sociais, Imperio Bizantino-Constantinopla, 476-pobos bárbaros como os Suevos e Visigodos, 395 porque herdán 2 fillos de Teodosio.



- Cando chegan os Romanos a Hispania e cando?
- En que datas e que lugares conquistaron os romanos segundo o mapa?

d) Completa as frases:

- As cidades romanas tiñan: mur.... dende o século III ante a chegada dos bárbaros, cos que os romanos pactaron creando así o dereit... romano.
- Tamén construíron arcos de triunf... e column.... para conmemorar guerras e victorias. Por outra banda, organizaban o imperio con vías: maríti..., calza.... terrestres, pont... e acued... Tamén far... como a Torre de Hér... de A Coruña (patrimonio da Humanidade en 2009).
- Os escravos creceron por pobreza e conquistas, chegando a ser 2 ou 3 mill... ao final do imperio, e había propietarios que tiñan máis de mi..Os había púb... do Estado, priv... no Campo, e lib... que compraban a súa liberdade. O escravo Euno reuniu a máis de 200.000 es.... no 136 aC, e Espar..... no 73 aC. Máis de 30.000 escravos foron cruci.....
- No mundo romano os homes eran os pater fa.... e as mulleres tiñan menor rango. Podían ser vend... ou enviadas a outras fam... se así o consideraba o seu pa..., o seu fill... ou o varón da familia. De aí xurdiron logo, 20 séculos despois, a figura do padr..... da mafia.
- A economía romana funcionou grazas a: os escr... porque era man de obra gratuita, porque o Est... o controlaba todo, porque había diversid... e especializ.... agraria, pola explotación das min.... ou ruina montium (en Galicia as Médulas), pola moed.... imperial, polo arad.... con rella de ferro para o campo, polo sistema de latif.... e de propiedade. No campo se cultivaba a TRILOXÍA MEDIT....: TRI...., VID.... E OLIV..... Tamén había gand... ovina e bovina, artesanía con vasillas de Terra Sig...., a mina.... de ouro, prata e chumbo, comer.... de seda e especias ata a Chin... e de our... e marf.... de Áfri.... Chegou a haber máis de 80.000 km de vías que deron paso ás nosas carr... actuais. En vez de contar en KM, os romanos contaban 1000 pasos dando lugar ás MILL...ao final das cales se poñía un MILIA.... co nome do emperador. Tamén había Lares Viar.... como en Cangas do Morrazo-Galicia, ou Aras..... En Galicia se adicaron tamén á Salg... de Peixe.
- Na relixión destacou: a lob... capitolina, a tríade cap.... que eran Minerv... Xúp.... e Xuñ..., os aug... ou sacerdotes que indicaban se as festas eran fast... ou nef..... Na casa, os lar.... coidaban do lar, os penat... das provisións e os man... para os mortos.

e) Ponlle o nome a estas imaxes da arte en Roma: ANFITEATRO, TEATRO, TEMPLO E ARCO DE TRIUNFO



f) Indica cales destes elementos nos deixou o Imperio Romano na actualidade:

- Latín
- Fala Romano
- Dereito Romano (Leis das 12 táboas, avogados, fiscais, xuristas)
- A lei de ollo por ollo e dente por dente (Lei do Talión)
- Os días e os meses da semana
- Creación Literaria
- Virxilio poeta, Cicerón cómico, Plinio e Estrabón historiadores e Plauto teatro.
- Contos orais
- Ianuarius, Februarius, Martius, Aprilis, Maius, Iunius, Iulius, Augustus, September, October, November, December
- Solis Dies-Dies Dominicus, Lunae Dies-Feira II, Martis Dies-Feira III, Mercurii Dies-Feira IV, Iovis Dies-Feira V, Veneris Dies-Feira VI, Saturnii Dies-Sabbath
- Mosaico e pinturas murais con perspectiva e realismo

g) Une co seu correspondente:

DIVINIDADES GRIEGAS Y ROMANAS

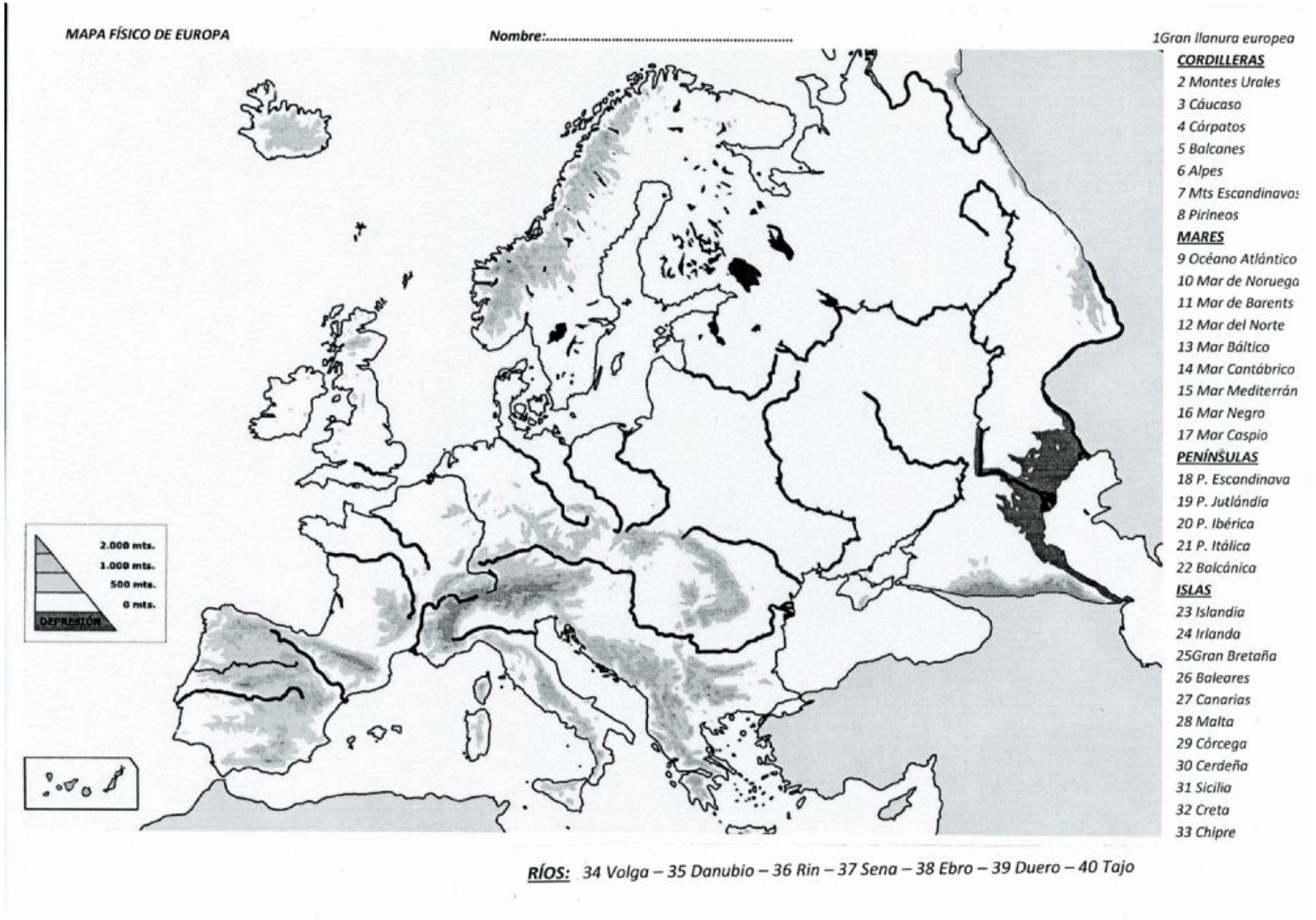
Une con flechas el dios o héroe **GRIEGO** con su correspondiente **ROMANO**.

ZEUS	NEPTUNO
HERA	BACO
POSEIDÓN	ESCULAPIO
HADES	JUNO
DEMÉTER	MERCURIO
PERSÉFONE	JÚPITER
ATENEA	ULISES
ARES	VESTA
ASCLEPIO	APOLO
AFRODITA	PROSERPINA
HEFESTO	VENUS
APOLO	SALUS
ARTEMISA	FAUNO
HERMES	MINERVA
HIGÍA	DIANA
DIONISOS	VULCANO
HESTIA	CERES
PAN	MARTE
ODISEO	PLUTÓN



2a AVALIACIÓN
 MAPAS:

1. MAPA FÍSICO DE EUROPA



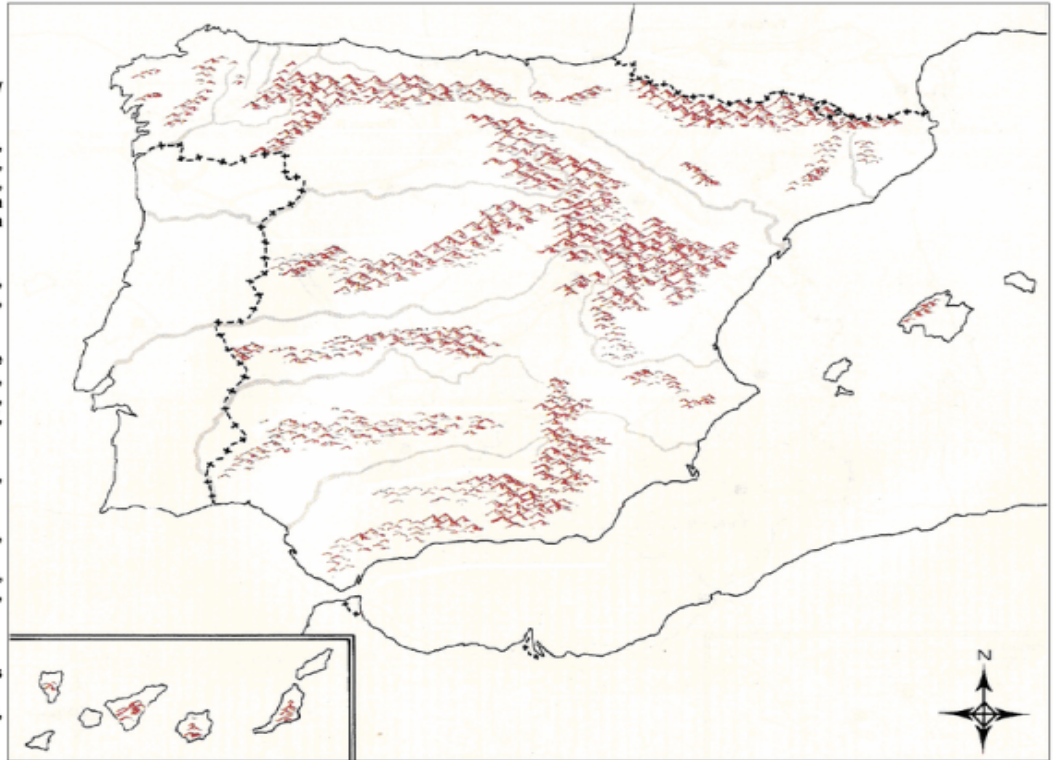


MAPA FÍSICO DE ESPAÑA

MAPA FÍSICO DE ESPAÑA

Colorea y coloca en el mapa:

- A) OCEÁNOS Y MARES: (color celeste)
 - ∞ Mar Cantábrico, Mar Mediterráneo y Océano Atlántico.
- B) SISTEMAS MONTAÑOSOS: (marrón)
 - ∞ Cordillera Cantábrica, Macizo Galaico, Montes de León, Sistema Central, Montes de Toledo, Sierra Morena, Cordillera Subbética, Cordillera Penibética, Sistema Ibérico, Cordillera Costero Catalana, Pirineos.
- C) RIOS: (repásalos con azul)
 - ∞ Miño, Duero, Tajo, Guadiana, Guadalquivir, Segura, Júcar, Ebro, Llobregat.
- D) CABOS:
 - ∞ Machichaco, Ajo, Peñas, Estaca de Bares, Ortegal, Finisterre, Roca, Espichel, San Vicente, Santa María, Trafalgar, Punta de Tarifa, Sacratif, Gata, Palos, La Nao, Creus.
- E) GOLFOS:
 - ∞ Vizcaya, Cádiz, Almería, Valencia, Rosas, Golfo de León.
- F) ISLAS:
 - ∞ BALEARES: Mallorca, Menorca, Ibiza, Formentera, Cabrera.
 - ∞ CANARIAS: Gran Canaria, Lanzarote, Fuerteventura, Tenerife, La Plama, Gomera, Hierro.
- G) Sitúa las ciudades autónomas de:
 - ∞ Ceuta y Melilla.
- H) Escribe con letras mayúsculas las naciones fronterizas con España:
 - ∞ FRANCIA, PORTUGAL, ANDORRA, MARRUECOS, ARGELIA.



Isidro Burgos Ramos



2. MAPA FÍSICO DE GALICIA

