

DEBUXO TÉCNICO II

PREGUNTA 1. Resolva este ejercicio de **GEOMETRÍA PLANA: CURVAS CÓNICAS**

(3 puntos)

Debuxe a elipse coñecidos os seus focos F e F' e un punto P dela. Indique os seus eixos.

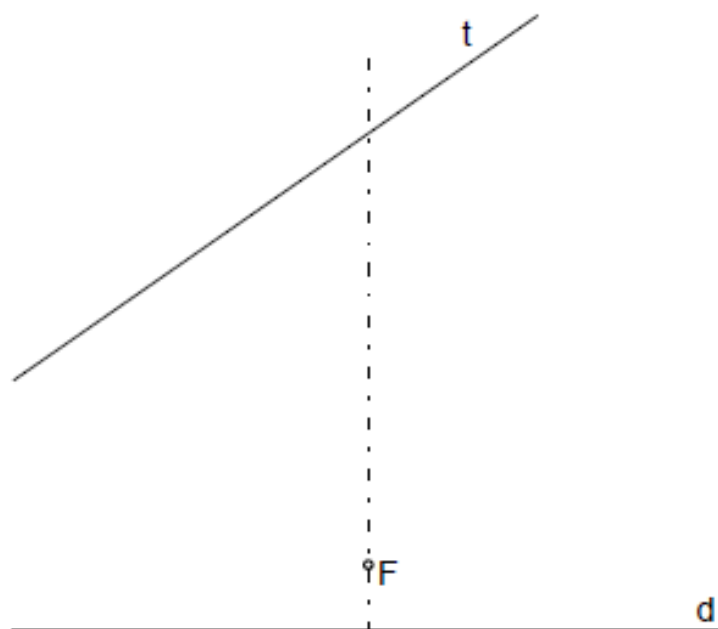
PREGUNTA 1. Resuelva este ejercicio de **GEOMETRÍA PLANA: CURVAS CÓNICAS**

(3 puntos)

Dibuje la elipse conocidos sus focos F y F' y un punto P de ella. Indique sus ejes.



Debuxa a parábola de directriz d e foco F . Traza unha recta tanxente á mesma, paralela á recta dada t .

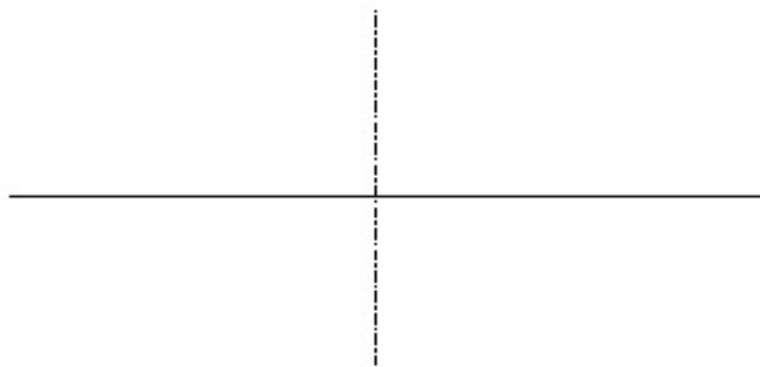


DEBUXO TÉCNICO II**OPCIÓN B****B1.- CURVAS CÓNICAS**

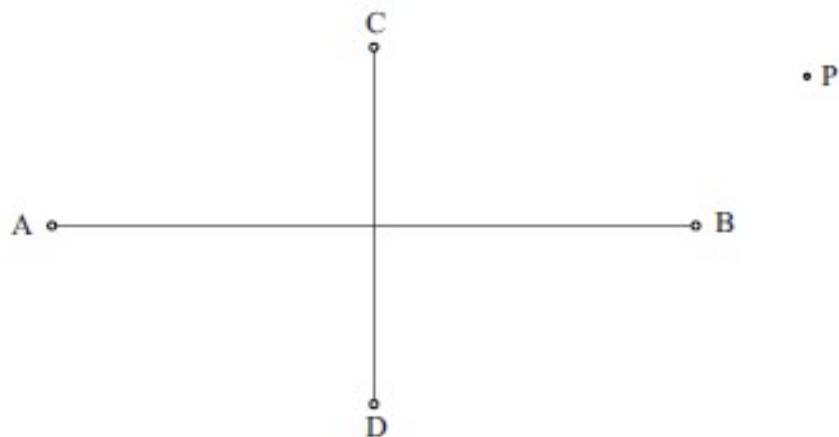
Cualificación / Calificación: 3,00 puntos

Debuxa unha hipérbola e as súas asíntotas, coñecidos o eixo real AB 40 mm e o eixo imaxinario CD 50 mm.

Dibuja una hipérbola y sus asíntotas, conocidos el eje real AB 40 mm y el eje imaginario CD 50 mm.

*Debuxa a elipse de eixos AB e CD e traza polo punto P as tanxentes á mesma.*

Dibuja la elipse de ejes AB Y CD y traza por el punto P las tangentes a la misma.



XUÑO 2011

DEBUXO TÉCNICO II

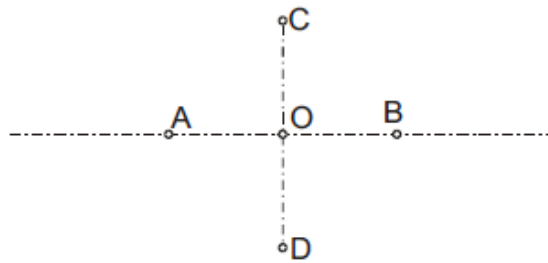
El alumno deberá **elegir una** de las dos opciones planteadas, A o B
O alumno deberá **elixir unha** das dúas opcións presentadas, A ou B

OPCIÓN **B**

1B Dibuja una hipérbola de ejes AB y CD.

Debuxa unha hipérbole de eixos AB e CD.

CUALIFICACIÓN MÁXIMA : 3 puntos



Debuxa unha parábola coñecidos o vértice V e a directriz.

