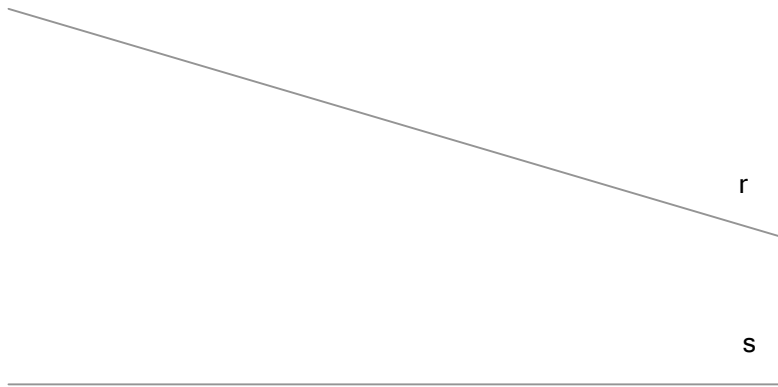
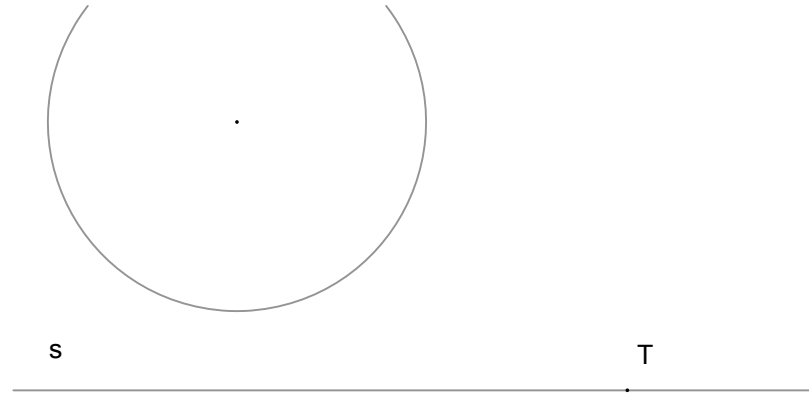


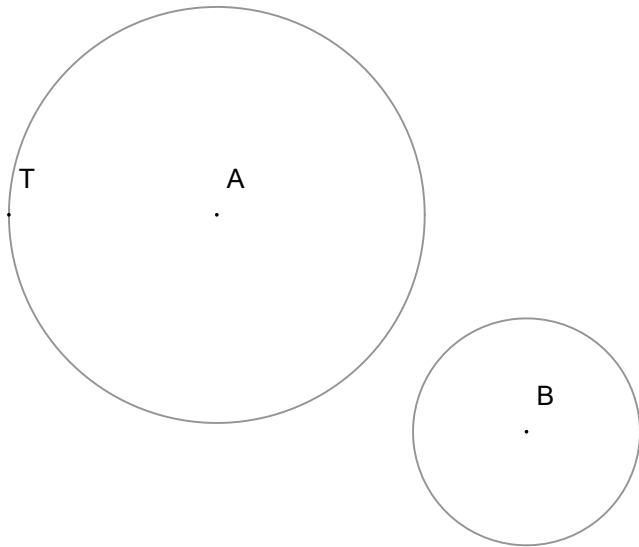
Dadas las rectas r y s dibuja una circunferencia tangente a ellas con radio 15 mm y otra tangente a esta y a las rectas (PAAU 6-2013)



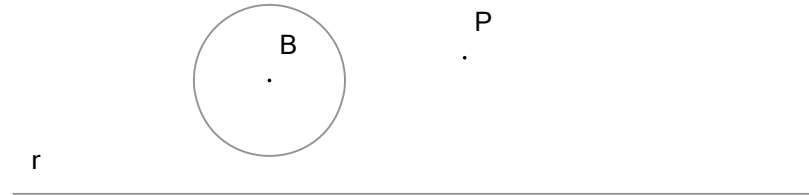
Circunferencia tangente a la recta en T y a otra circunferencia (PAAU 6-2008)



Dibuja las circunferencias tangentes a otras dos de centros A y B, conociendo el punto de tangencia T. (PAAU 9-2013)

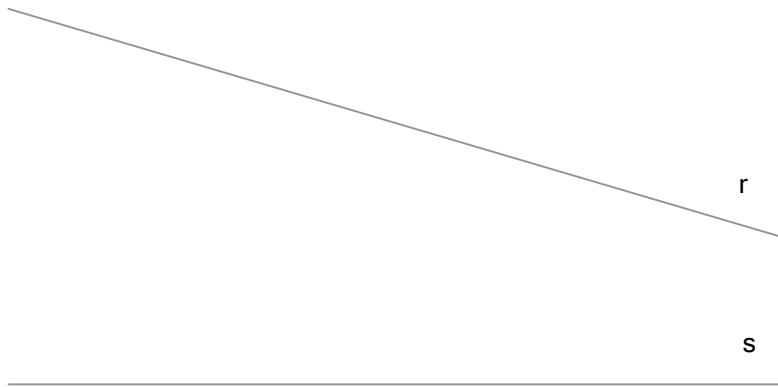


Dibuja las circunferencias tangentes a la de centro B y que pasen por P y tengan su centro en la recta r (ABAU 9-2017)

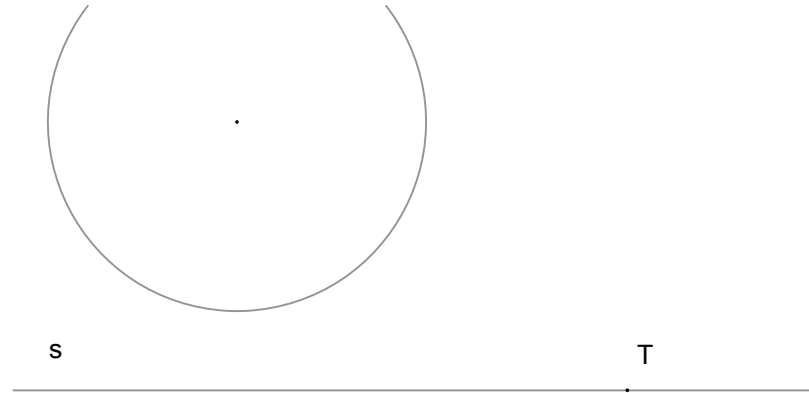


NOMBRE	CURSO	NUMERO

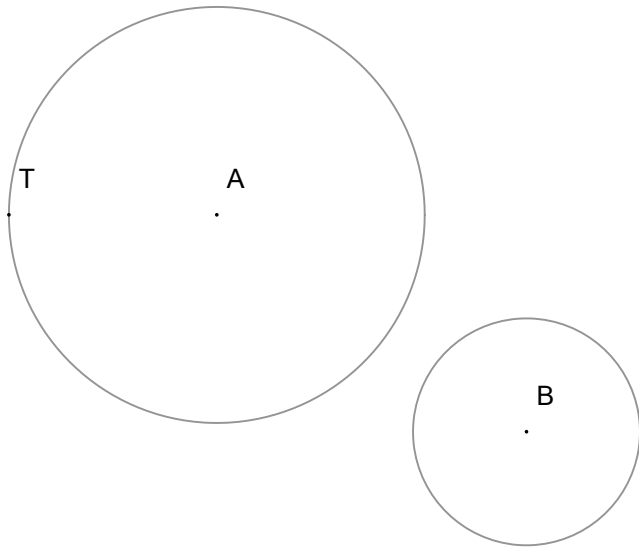
Dadas las rectas r y s dibuja una circunferencia tangente a ellas con radio 15 mm y otra tangente a esta y a las rectas (PAAU 6-2013)



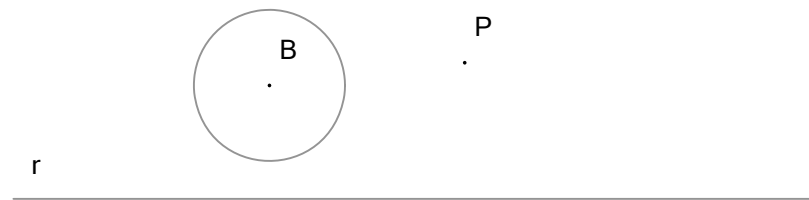
Circunferencia tangente a la recta en T y a otra circunferencia (PAAU 6-2008)



Dibuja las circunferencias tangentes a otras dos de centros A y B, conociendo el punto de tangencia T. (PAAU 9-2013)



Dibuja las circunferencias tangentes a la de centro B y que pasen por P y tengan su centro en la recta r (ABAU 9-2017)



Traza el eje radical de las circunferencias de centros A y B en los siguientes casos (PAAU 9-2008 y 6-2002)

