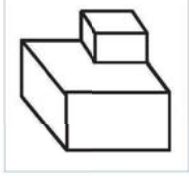


A	B	C

En que tipo de perspectiva está debuxada a seguinte figura?



- A** Cónica
- B** Cabaleira.  
Caballera.
- C** Isométrica.

1

O conxunto de normas que regulan a realización dos debuxos técnicos coñécese como:

*El conjunto de normas que regulan la realización de los dibujos técnicos se conoce como:*

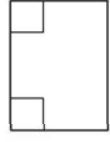
- A** ISO 9000.
- B** Normalización.
- C** UNE.

2

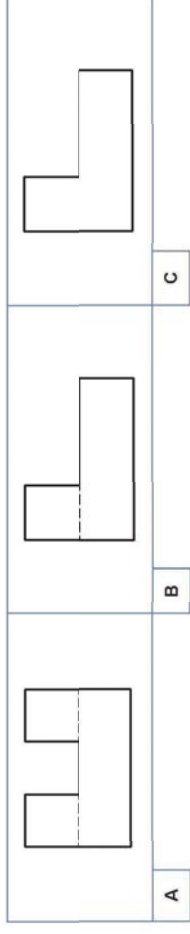
Dados o alzado e a planta deste obxecto, das posibilidades que se ofrecen, cal podería ser o seu perfil?



Dados el alzado y la planta de este objeto, de las posibilidades que se ofrecen, ¿cuál podría ser su perfil?



3



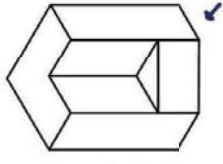
En qué escala as medidas lineais do debuxo serán maiores que as medidas reais do obxecto?

*¿En qué escala las medidas lineales del dibujo serán mayores que las medidas reales del objeto?*

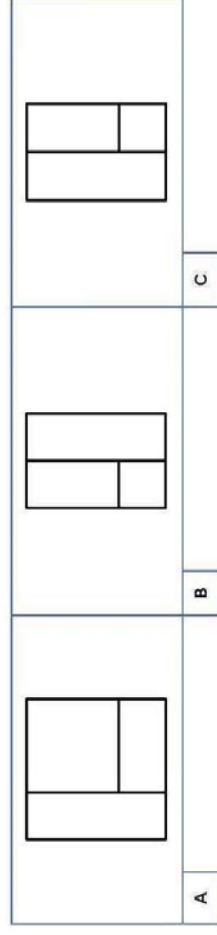
- A** 2:1
- B** 2:2
- C** 1:2

4

Tendo en conta a peza que aparece a continuación, e na que se sinala o alzado, indique, das posibilidades que se ofrecen, cal podería ser o seu perfil.



*Teniendo en cuenta la pieza que aparece a continuación, y en la que se señala el alzado, indique, de las posibilidades que se ofrecen, cuál podría ser su perfil.*



5

Calendario de matricula para las pruebas de acceso a ciclo medio: 27 febrero / 10 de marzo

NOMBRE	CURSO	NUMERO

A	B	C
		1
		2
		3
		4

A	B	C
		8
		9
		10
		11

A	B	C
		15
		16
		17

A	B	C
		5
		6
		7

A	B	C
		12
		13
		14

A	B	C
		18
		19
		20

Puntuación:

- + 0,5 cada respuesta correcta
  - 0,125 resta por cuestión incorrecta
- las respuestas en blanco no descuentan

NOMBRE	CURSO	NUMERO