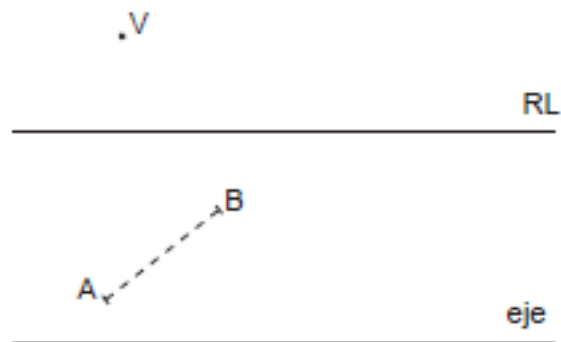


Dibuja el segmento homólogo del AB conociendo la recta límite RL, el centro V y el eje de la homología.

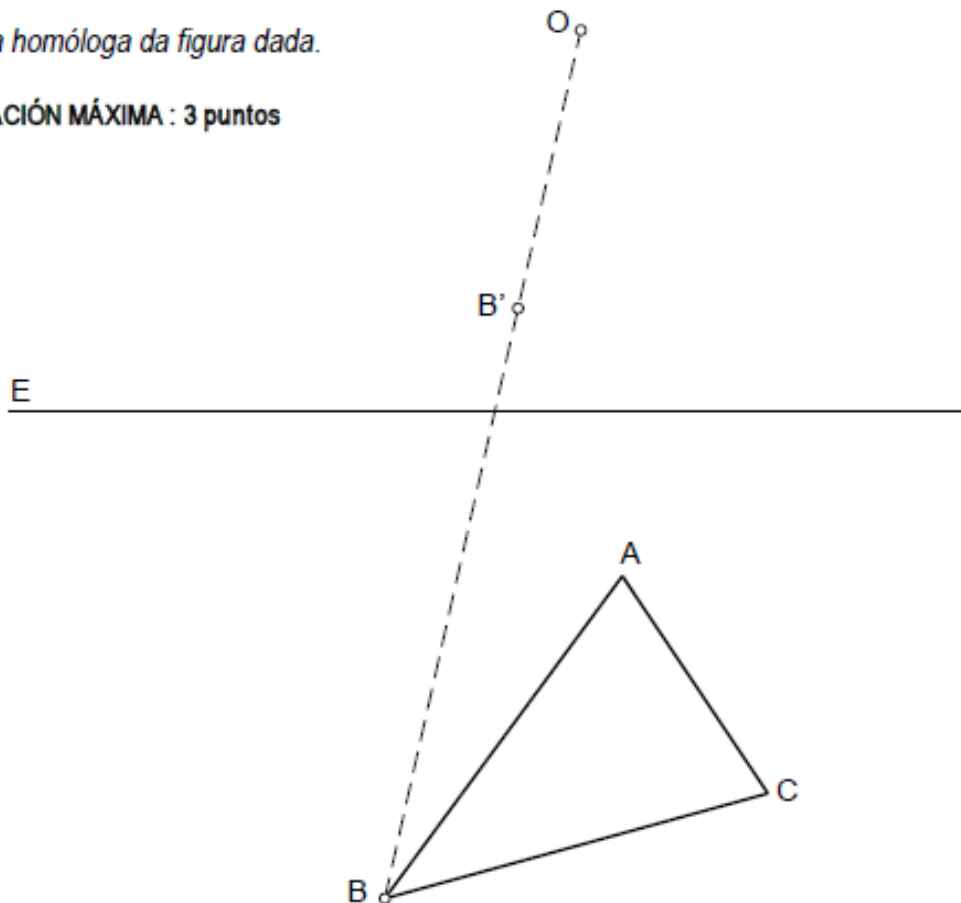
Debuxa o segmento homólogo do AB coñecendo a recta límite RL, o centro V e o eixe da homoloxía.



Dibuja la homóloga de la figura dada.

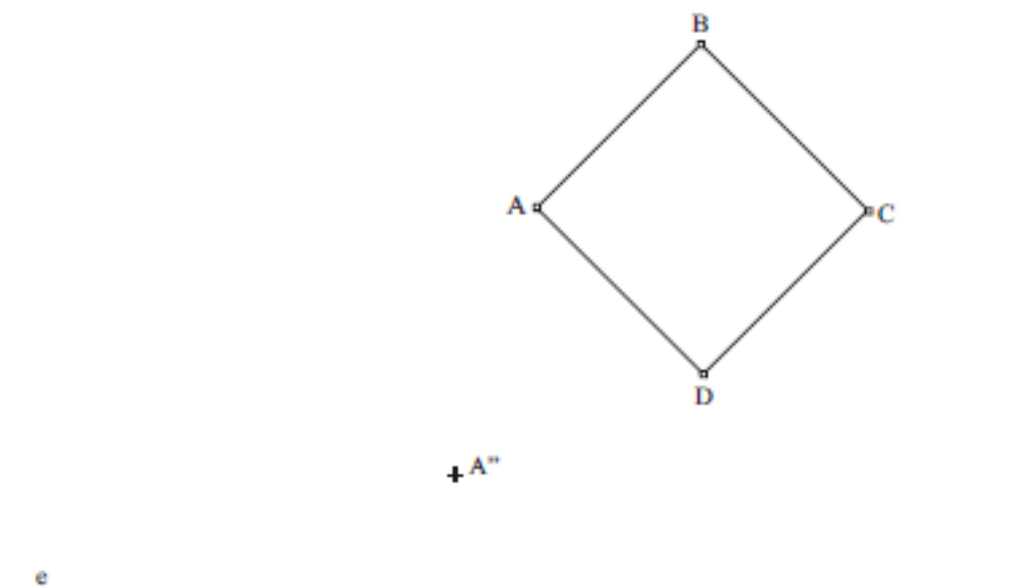
Debuxa a homóloga da figura dada.

CUALIFICACIÓN MÁXIMA : 3 puntos



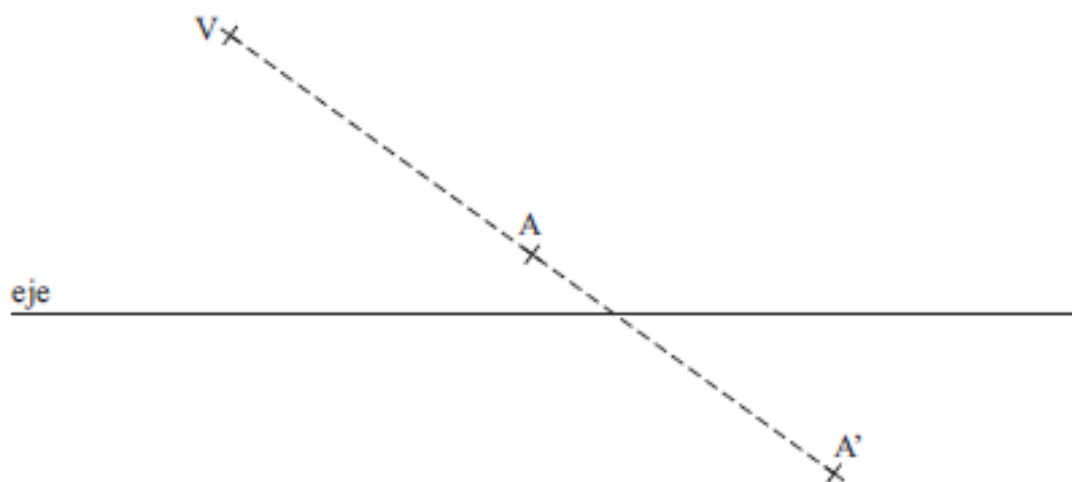
Dibuya a figura afín do cuadrilátero $ABCD$, coñecendo o eixe de afinidade "e" e o punto A'' afín de A .

Dibuja la figura afín del cuadrilátero $ABCD$, conociendo el eje de afinidad "e" y el punto A'' afín del A .



PREGUNTA 1. Resuelva este ejercicio de **GEOMETRÍA PLANA. (3,00 puntos)**

Dibuje las rectas límite de la homología dada por el eje, el vértice V y un par de puntos homólogos A y A' .



Dibuje el homólogo del punto P, conociendo las figuras homólogas ABC y A'B'C'.

PREGUNTA 2. Resuelva este ejercicio de **GEOMETRÍA PLANA**
Dibuje el homólogo del punto P, conociendo las figuras homólogas ABC y A'B'C'.

(3)

