
Probas de acceso a ciclos formativos de grao medio

CMPS003

Ciencias sociais

Parte sociolingüística



1. Formato da proba

Formato

- A proba consta de vinte cuestións tipo test.
- As cuestións tipo test teñen tres posibles respostas das que soamente unha é correcta.

Puntuación

- 0,50 puntos por cuestión tipo test correctamente contestada.
- Cada cuestión tipo test incorrecta restará 0,10 puntos.
- Polas respostas en branco non se descontará puntuación.
- No caso de marcar máis dunha resposta por pregunta considerarase como unha resposta en branco.

Materiais e instrumentos que se poden empregar durante a proba

- Bolígrafo con tinta negra ou azul.

Duración

- Este exercicio terá unha duración máxima de 50 minutos.



2. Exercicio

1. Cal é un dos principais gases responsables do efecto invernadoiro?

¿Cual es uno de los principales gases responsables del efecto invernadero?

- A** Dióxido de carbono.
Dióxido de carbono.
- B** Nitróxeno.
Nitrógeno.
- C** Osíxeno.
Oxígeno.

2. Cal das seguintes comarcas galegas se atopa na provincia da Coruña?

¿Cuál de las siguientes comarcas gallegas se encuentra en la provincia de A Coruña?

- A** O Salnés.
- B** Deza.
- C** Arzúa.

3. Cales das características propostas son distintivas da pintura barroca?

¿Cuáles de las características propuestas son distintivas de la pintura barroca?

- A** Simetría e equilibrio.
Simetría y equilibrio.
- B** Dramatismo e dinamismo.
Dramatismo y dinamismo.
- C** Minimalismo e simplicidade.
Minimalismo y simplicidad.

4. Pola súa concepción onírica, a que estilo pertence a obra "A persistencia da memoria"?

Por su concepción onírica, ¿a qué estilo pertenece la obra "La persistencia de la memoria"?

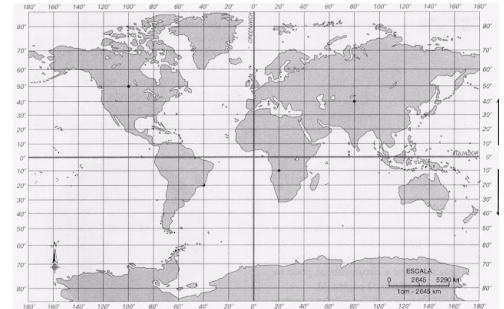
- A** Construtivista.
Constructivista.
- B** Cubista.
- C** Surrealista.



5. Que coordenada xeográfica permite localizar un punto específico na superficie terrestre de leste a oeste?

¿Qué coordenada geográfica permite localizar un punto específico en la superficie terrestre de este a oeste?

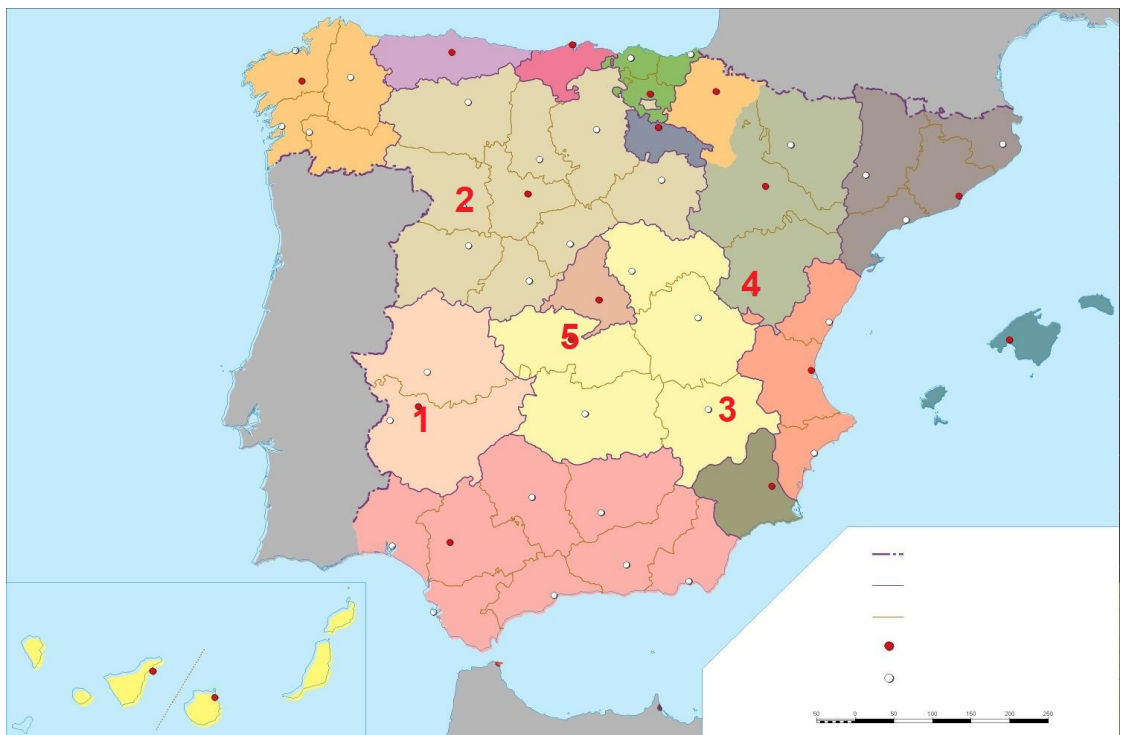
- A Lonxitude.
Longitud.
- B Altitude.
Altitud.
- C Latitude.
Latitud.



6. Identifique o nome correcto das provincias españolas numeradas no mapa:

Identifique el nombre correcto de las provincias españolas numeradas en el mapa:

- A 1) Cáceres, 2) Salamanca, 3) Cuenca, 4) Albacete, 5) Ávila.
1) Cáceres, 2) Salamanca, 3) Cuenca, 4) Albacete, 5) Ávila.
- B 1) Badaxoz, 2) Zamora, 3) Albacete, 4) Teruel, 5) Toledo.
1) Badajoz, 2) Zamora, 3) Albacete, 4) Teruel, 5) Toledo.
- C 1) Mérida, 2) Salamanca, 3) Teruel, 4) Albacete, 5) Cidade Real.
1) Mérida, 2) Salamanca, 3) Teruel, 4) Albacete, 5) Ciudad Real.





7. Como se denomina a representación gráfica das formas de relevo nun mapa?

¿Cómo se denomina la representación gráfica de las formas de relieve en un mapa?

- A** Lendas.
Leyendas.
- B** Curvas de nivel.
Curvas de nivel.
- C** Coordenadas xeográficas.
Coordenadas geográficas.

8. Cal das seguintes correntes artísticas se caracteriza pola captura da luz natural?

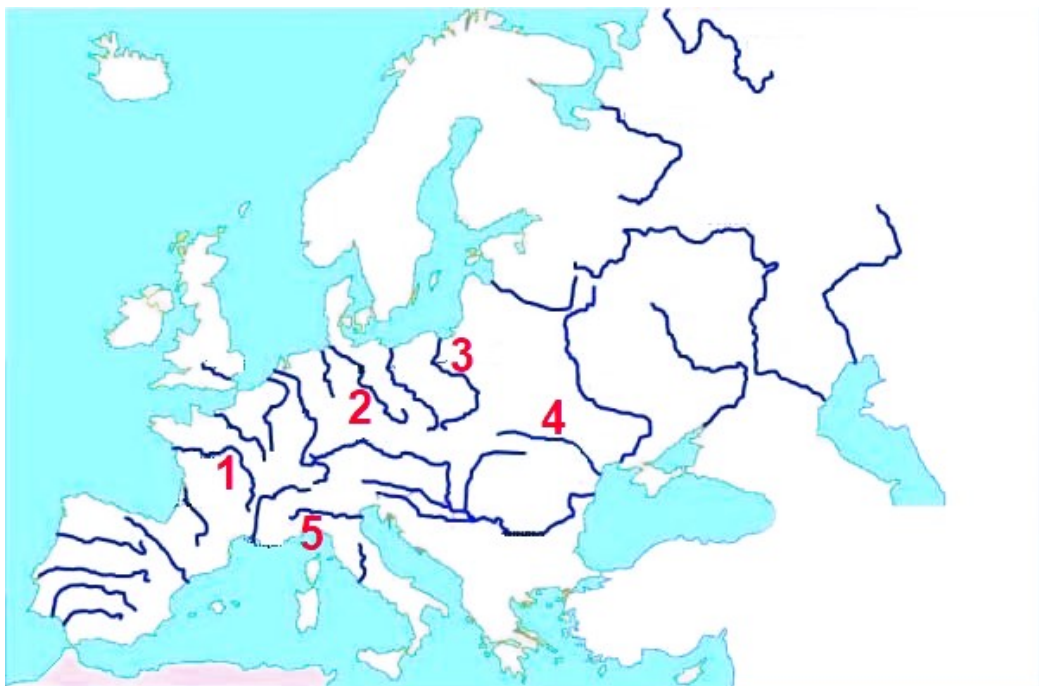
¿Cuál de las siguientes corrientes artísticas se caracteriza por la captura de la luz natural?

- A** Cubismo.
- B** Expresionismo.
- C** Impresionismo.

9. Identifique a secuencia correcta dos ríos europeos que aparecen numerados:

Identifique la secuencia correcta de los ríos europeos que aparecen numerados:

- A** 1) Loira, 2) Elba, 3) Vístula, 4) Dniéster, 5) Po.
- B** 1) Loira, 2) Rhin, 3) Vístula, 4) Volga, 5) Po.
- C** 1) Sena, 2) Rhin, 3) Don, 4) Vístula, 5) Tíber.





10. Cal foi o feito que causou o inicio da primeira guerra mundial?

¿Cuál fue el hecho que causó el inicio de la primera guerra mundial?

- A** O asasinato do arquiduque Francisco Fernando de Austria.
El asesinato del archiduque Francisco Fernando de Austria.
- B** A sinatura do Tratado de Versalles.
La firma del Tratado de Versalles.
- C** A invasión de Polonia por parte de Alemaña.
La invasión de Polonia por parte de Alemania.

11. Cal foi o efecto mais significativo da Revolución Rusa na estrutura económica do país?

¿Cuál fue el efecto mas significativo de la Revolución Rusa en la estructura económica del país?

- A** A aplicación do liberalismo económico.
La aplicación del liberalismo económico.
- B** A colectivización dos medios de produción.
La colectivización de los medios de producción.
- C** As reformas do Tsar Nicolás II.
Las reformas del Zar Nicolás II.

12. Que documento proclamou os dereitos fundamentais e as liberdades do pobo durante a Revolución Francesa?

¿Qué documento proclamó los derechos fundamentales y las libertades del pueblo durante la Revolución Francesa?

- A** O establecemento da primeira República Francesa en 1792.
El establecimiento de la primera República Francesa en 1792.
- B** Declaración dos Dereitos do Home e do Cidadán de 1789.
Declaración de Derechos del Hombre y del Ciudadano de 1789.
- C** A Declaración de Independencia de 1776.
La Declaración de Independencia de 1776.


13. En que país comenzou a chamada "Gran Depresión de 1929", que logo se propagou globalmente?

¿En qué país comenzó la llamada "Gran Depresión de 1929", que luego se propagó globalmente?

- A** Estados Unidos.
- B** Alemaña.
Alemania.
- C** Reino Unido.

14. Polo seu intento de integración da paisaxe e a perspectiva, e a utilización da temática clásica, podemos afirmar que a obra "O nacemento de Venus", de Sandro Botticelli, é un exemplo do estilo:

Por su intento de integración del paisaje y la perspectiva, y la utilización de la temática clásica, podemos afirmar que la obra "El nacimiento de Venus" de Sandro Botticelli, es un ejemplo del estilo:



- A Barroco.
- B Neoclásico.
- C Renacentista.

15. Cal das propostas se pode considerar unha característica distintiva da arte Gótica?

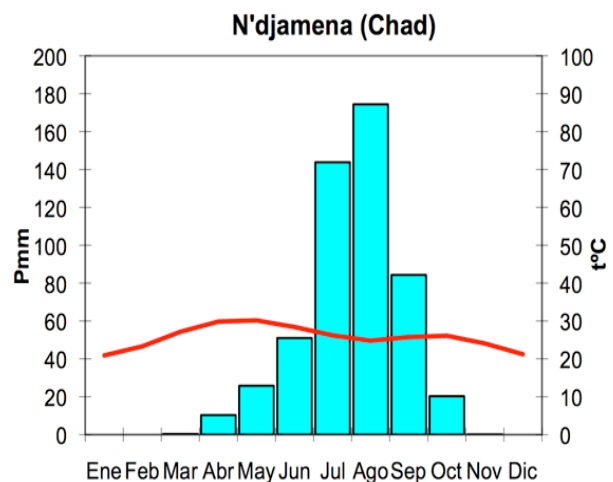
¿Cuál de las propuestas puede considerarse una característica distintiva del arte Gótico?

- A A presenza de cúpulas.
La presencia de cúpulas.
- B A presenza de bóvedas de cañón.
La presencia de bóvedas de cañón.
- C A presenza de arcos apuntados.
La presencia de arcos apuntados.

16. En función das temperaturas anuais e o réxime de precipitacións, pódese afirmar que o clima reflectido na imaxe é de tipo:

En función de las temperaturas anuales y el régimen de precipitaciones, puede afirmarse que el clima reflejado en la imagen es de tipo:

- A Tropical-seco ou semidesértico.
Tropical-seco ou semidesértico.
- B Tropical-húmido.
Tropical-húmedo.
- C Ecuatorial.



- 17.** Que ideoloxía revolucionaria se negaba a formar partidos políticos e se agrupaba só en sindicatos?

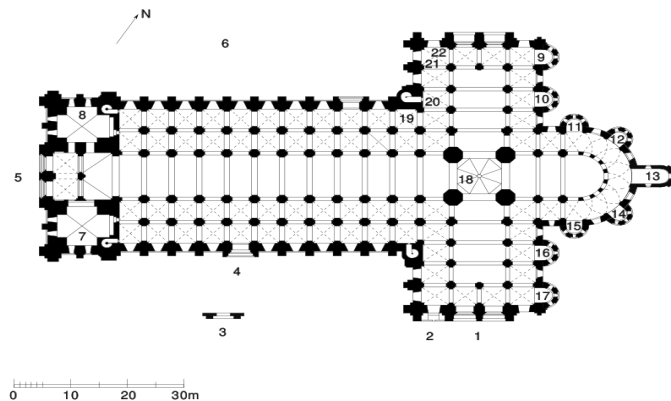
¿Qué ideología revolucionaria se negaba a formar partidos políticos y se agrupaba solamente en sindicatos?

- A** Comunismo.
- B** Anarquismo.
- C** Socialismo.

- 18.** Pola súa disposición en forma de cruz latina, con ábsida, ciborio e capelas absidiais, a planta da igrexa proposta é de estilo:

Por su disposición en forma de cruz latina, con ábside, cimborrio y capillas absidiales, a planta de la iglesia propuesta es de estilo:

- A** Románico.
- B** Mudéjar.
Mudéjar.
- C** Gótico.



- 19.** Cal das seguintes correntes oceánicas é coñecida pola súa influencia no clima de Europa occidental?

¿Cuál de las siguientes corrientes oceánicas es conocida por su influencia en el clima de Europa occidental?

- A** Corrente de Humboldt.
Corriente de Humboldt.
- B** Corrente de California.
Corriente de California.
- C** Corrente do Golfo.
Corriente del Golfo.

- 20.** De que xeito influíron os factores ideolóxicos no desenvolvemento do imperialismo do século XIX?

¿De qué manera influyeron los factores ideológicos en el desarrollo del imperialismo del siglo XIX?

- A** Promovendo a autonomía cultural dos territorios administrados.
Promoviendo la autonomía cultural de los territorios administrados.
- B** Fomentando a cooperación internacional.
Fomentando la cooperación internacional.
- C** Xustificando a superioridade moral e cultural do estado-metrópole.
Justificando la superioridad moral y cultural del estado-metrópolis.



3. Solución para as preguntas tipo test

Nº	A	B	C	
1	X			
2			X	
3		X		
4			X	
5	X			
6		X		
7		X		
8			X	
9	X			
10	X			
11		X		
12		X		
13	X			
14			X	
15			X	
16	X			
17		X		
18	X			
19			X	
20			X	
N.º de respostas correctas (C)				
N.º de respostas incorrectas (Z)				
Puntuación do test= $C \times 0,5 - Z \times 0,10$				

**Nas preguntas de test, por cada resposta incorrecta descontaranse 0,10 puntos.
As respostas en branco non descontarán puntuación.**