

ACTIVIDADES DE REPASO I












1. Relaciona os pictogramas de seguridade cos seguintes riscos químicos:

- Mortal ou tóxico por inxestión
- Pode provocar defectos xenéticos
- Provoca irritación ocular grave
- Provoca queimaduras graves na pel
- Facilita a combustión de substancias inflamables
- Tóxico para os organismos acuáticos
- Pode provocar cancro
- Pode provocar reacción alérxicas na pel
- Pode provocar síntomas de asma, alerxia ou dificultades respiratorias en caso de inhalación

2. Indica que equipo ou equipos empregarías para os seguintes casos:

- Eliminar a humidade de unha substancia
- Quitar uniformemente unha substancia a 90 °C
- Manter unha mostra a -70 °C
- Manter unha mostra a -180 °C
- Quitar uniformemente unha substancia a 130 °C
- Filtrar en condicións de vacío
- Calcinar unha mostra
- Quitar mediante unha chama directa
- Quitar e mesturar unha disolución

3. Completa a seguinte táboa

| | Nome | Función |
|---|------|---------|
|  | | |
|  | | |
|  | | |
|  | | |
|  | | |
|  | | |
|  | | |
|  | | |
|  | | |
|  | | |
|  | | |

| | | |
|---|--|--|
|  | | |
|  | | |
|  | | |
|  | | |
|  | | |
|  | | |
|  | | |
|  | | |