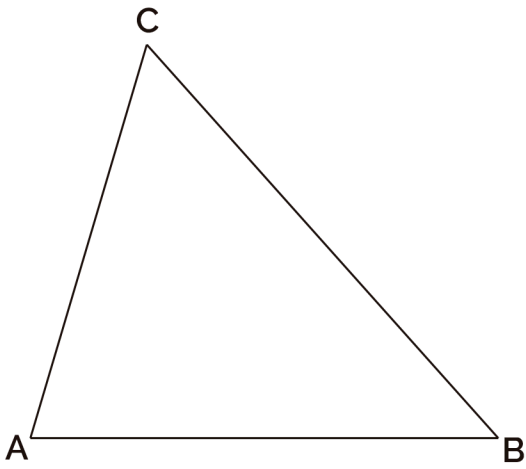


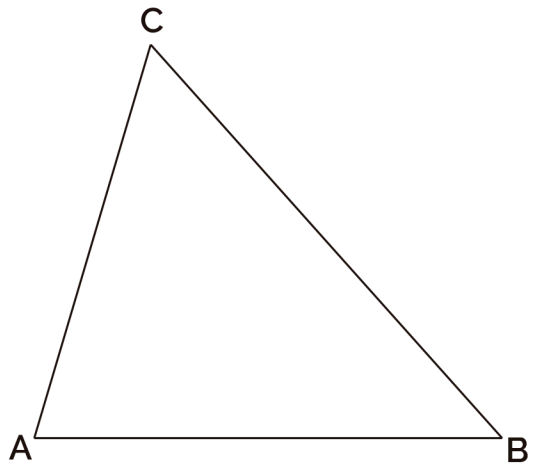
2. TRIÁNGULOS

2.1 PUNTOS Y RECTAS NOTABLES.

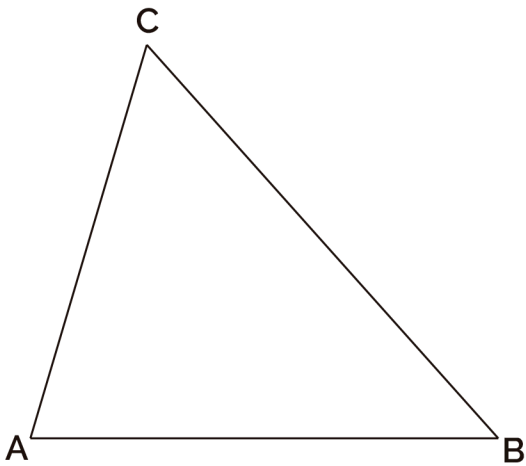
Halla el **baricentro** del triángulo ABC y su triángulo complementario.



Halla el **ortocentro** del triángulo ABC y su triángulo órtico.



Halla el **incentro** del triángulo ABC



Halla el **circuncentro** del triángulo ABC

