



XUNTA DE GALICIA

CONSELLERÍA DE EDUCACIÓN, UNIVERSIDADE
E FORMACIÓN PROFESIONAL



UNIÓN EUROPEA
Fondo Social Europeo

"O FSE inviste no teu futuro"



GOBIERNO
DE ESPAÑA

MINISTERIO
DE EDUCACIÓN
Y FORMACIÓN PROFESIONAL

Probas de acceso a ciclos formativos de grao medio

CMPS003

Ciencias sociais

Parte sociolingüística. Ciencias sociais



1. Formato da proba

Formato

- A proba consta de vinte cuestións tipo test.
- As cuestións tipo test teñen tres posibles respostas, das que soamente unha é correcta.

Puntuación

- 0,50 puntos por cuestión tipo test correctamente contestada.
- Cada cuestión tipo test incorrecta restará 0,125 puntos.
- As respostas en branco non descontarán puntuación.
- No caso de marcar máis dunha resposta por pregunta considerarase como unha resposta en branco.

Materiais e instrumentos que se poden empregar durante a proba

- Bolígrafo con tinta negra ou azul.

Duración

- Este exercicio terá unha duración máxima de 40 minutos.



2. Exercicio

1. No mapa político de Europa, identifique correctamente os países sinalados con números.

En el mapa político de Europa, identifique correctamente los países señalados con números.

A 1: Austria. 2: Suíza. 3: Eslovaquia. 4: Ucraína.

1: Austria. 2: Suiza. 3: Eslovaquia. 4: Ucrania.

B 1: Suíza. 2: Austria. 3: Eslovaquia. 4: Ucraína.

1: Suiza. 2: Austria. 3: Eslovaquia. 4: Ucrania.

C 1: Suíza. 2: Eslovaquia. 3: Austria. 4: Ucraína.

1: Suiza. 2: Eslovaquia. 3: Austria. 4: Ucrania.



2. Tradicionalmente, a historiografía coñece por Idade Moderna o período da Historia abranguido entre mediados do século XV e finais do século XVIII. Trátase dun espazo social, político e económico tamén coñecido como:

Tradicionalmente, la historiografía conoce por Edad Moderna el período de la Historia comprendido entre mediados del siglo XV y finales del siglo XVIII. Se trata de un espacio social, político y económico también conocido como:

A Pequena Idade de Xeo.

Pequeña Edad de Hielo.

B O feudalismo.

El feudalismo.

C Antigo Réxime.

Antiguo Régimen.



3. Con que sector se iniciou a Revolución Industrial en Inglaterra?

¿Con qué sector se inició la Revolución Industrial en Inglaterra?

- A** A industria téxtil.
La industria textil.
- B** O desenvolvemento do ferrocarril.
El desarrollo del ferrocarril.
- C** A siderurxia.
La siderurgia.

4. Cales son os países que conforman o Magreb?

¿Cuáles son los países que conforman el Magreb?

- A** Chad, Níxer e Marrocos.
Chad, Níger y Marruecos.
- B** Marrocos, Alxeria e Tunisia.
Marruecos, Argelia y Túnez.
- C** Alxeria, Níxer e Namibia.
Argelia, Níger y Namibia.

5. Cal das seguintes afirmacións é a correcta sobre o papel do xefe de estado español, segundo o establecido na Constitución?

¿Cuál de las siguientes afirmaciones es la correcta sobre el papel del jefe de estado español, según lo establecido en la Constitución?

- A** O Rei reina pero non goberna, ao estar supeditado á autoridade das Cortes Xerais.
El Rey reina pero no gobierna, al estar supeditado a la autoridad de las Cortes Generales.
- B** O Rei ten atribuído o poder lexislativo.
El Rey tiene atribuido el poder legislativo.
- C** O Rei ten atribuído o poder executivo.
El Rey tiene atribuido el poder ejecutivo.

6. Os túmulos e megálitos galegos, como o de Dombate (Cabana, A Coruña), corresponden ao período prehistórico coñecido como:

Los túmulos y megalitos gallegos, como el de Dombate (Cabana, A Coruña), corresponden al período prehistórico conocido como:

- A** Idade do ferro.
Edad del hierro.
- B** Paleolítico.
Paleolítico.
- C** Neolítico.
Neolítico.

7. Identifique, de leste a oeste, os accidentes xeográficos que atravesaba a liña vermella.

Identifique, de este a oeste, los accidentes geográficos que atraviesa la línea roja.



A Montes Urais, montes Cárpatos, Alpes Dináricos, montes Apeninos.

Montes Urales, montes Cárpatos, Alpes Dináricos, montes Apeninos.

B Montes Apeninos, montes Balcáns, Alpes Dináricos, montes Urais.

Montes Apeninos, montes Balcanes, Alpes Dináricos, montes Urales.

C Montes Urais, montes Cárpatos, montes Balcáns, Cáucaso.

Montes Urales, montes Cárpatos, montes Balcanes, Cáucaso.

8. O artigo 21.3 da Declaración Universal dos Dereitos Humanos afirma: “A vontade do pobo é a base da autoridade do poder político”. Identifique a frase que interpreta correctamente a expresión citada.

El artículo 21.3 de la Declaración Universal de los Derechos Humanos afirma: “La voluntad del pueblo es la base de la autoridad del poder político”. Identifique la frase que interpreta correctamente la expresión citada.

A O poder xudicial é a cúspide dos poderes do Estado.

El poder judicial es la cúspide de los poderes del Estado.

B O poder lexislativo debe consultar as leis que promulga co poder xudicial.

El poder legislativo debe consultar las leyes que promulga con el poder judicial.

C A soberanía debe residir no pobo.

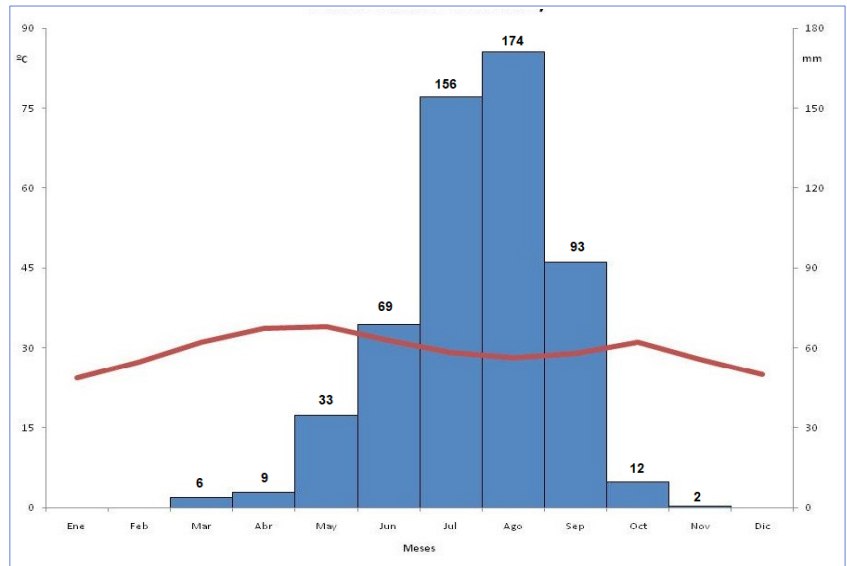
La soberanía debe residir en el pueblo.



9. Observe o climograma. Tendo en conta o índice estacional de precipitacións e a constancia nas temperaturas, trátase dun clima:

Observe el climograma.
Teniendo en cuenta el índice estacional de precipitaciones y la constancia en las temperaturas, se trata de un clima:

- A Oceánico.
- B Mediterráneo.
- C Tropical seco.



10. En que ano foi aprobado o vixente Estatuto de Autonomía de Galicia?

¿En qué año fue aprobado el vigente Estatuto de Autonomía de Galicia?

- A 1990
- B 1981
- C 1979

11. Sinale cal das seguintes institucións forma parte da Administración autonómica de Galicia.

Señale cual de las siguientes instituciones forma parte de la Administración autonómica de Galicia.

- A Parlamento de Galicia.
Parlamento de Galicia.
- B Concellos.
Ayuntamientos.
- C Deputacións provinciais.
Diputaciones provinciales.

12. Que afirmación describe mellor o que foron as “polis” gregas?

¿Qué afirmación describe mejor lo que fueron las “polis” griegas?

- A Foron cidades gregas autónomas baixo a autoridade de Roma.
Fueron ciudades griegas autónomas bajo la autoridad de Roma.
- B Foron cidades-estado independentes que xurdiron na antiga Grecia a partir do século VIII a. C.
Fueron ciudades-estado independientes que surgieron en la antigua Grecia a partir del siglo VIII a. C.
- C Foron cidades-estado independentes que xurdiron en Grecia tras a caída do imperio romano.
Fueron ciudades-estado independientes que surgieron en Grecia tras la caída del imperio romano.



13. Cal é a secuencia cronolóxica correcta dos seguintes acontecementos históricos?

¿Cuál es la secuencia cronológica correcta de los siguientes acontecimientos históricos?

A Gran depresión de 1929 – Revolución Soviética – Asasinato do arquiduque Francisco Fernando en Saraievo.

Gran depresión de 1929 – Revolución Soviética – Asesinato del archiduque Francisco Fernando en Sarajevo.

B Asasinato do arquiduque Francisco Fernando en Saraievo – Revolución Soviética – Gran depresión de 1929.

Asesinato del archiduque Francisco Fernando en Sarajevo – Revolución Soviética – Gran depresión de 1929.

C Revolución Soviética – Asasinato do arquiduque Francisco Fernando en Saraievo – Gran depresión de 1929.

Revolución Soviética – Asesinato del archiduque Francisco Fernando en Sarajevo – Gran depresión de 1929.

14. De que orde é o templo segundo a forma do capitel da columna da figura?

¿De qué orden es el templo según al forma del capitel de la columna de la figura?

A Corintio.


Corintio.

B Xónico.

Jónico.

C Dórico.

Dórico.



15. Como se denomina o sector económico que se ocupa da transformación dos recursos naturais?

¿Cómo se denomina el sector económico que se ocupa de la transformación de los recursos naturales?

A Sector terciario.

B Sector secundario.

C Sector primario.

16. Sinale a cronoloxía correcta correspondente á primeira República Española.

Señale la cronología correcta correspondiente a la primera República Española.

A 1931-1939

B 1898-1902

C 1873-1874



17. Polas súas características de admiración pola velocidade e o progreso técnico, esta obra de Umberto Boccioni encádrase no movemento artístico chamado:

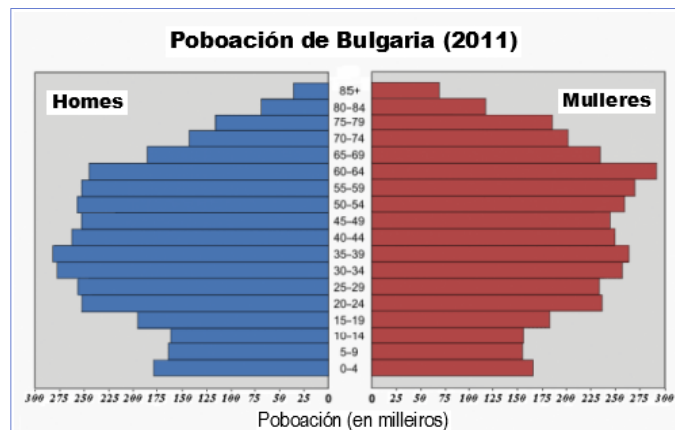
Por sus características de admiración por la velocidad y el progreso técnico, esta obra de Umberto Boccioni, se encuadra en el movimiento artístico llamado:

- A Futurismo.
- B Fauvismo.
- C Cubismo.



18. Observe a pirámide de poboación proposta e sinala a expresión que mellor se adecúe a esta realidade.

Observe la pirámide de población propuesta y señale la expresión que mejor se adecue a esta realidad.



- A Bulgaria, igual que moitos países de Europa oriental, amosa desde os anos 90 un forte incremento do seu crecemento natural debido ao aumento de oportunidades económicas trala caída dos réximes comunistas.

Bulgaria, al igual que muchos otros países de la Europa oriental, muestra desde los años 90 un fuerte incremento de su crecimiento natural debido al aumento de oportunidades económicas tras la caída de los regímenes comunistas.

- B Bulgaria, igual que os países do occidente europeo, amosa desde os anos 90 unha forte caída do seu crecemento natural debido á súa entrada na Comunidade Europea.

Bulgaria, al igual que los países del occidente europeo, muestra desde los años 90 una fuerte caída de su crecimiento natural debido a su entrada en la Comunidad Europea.

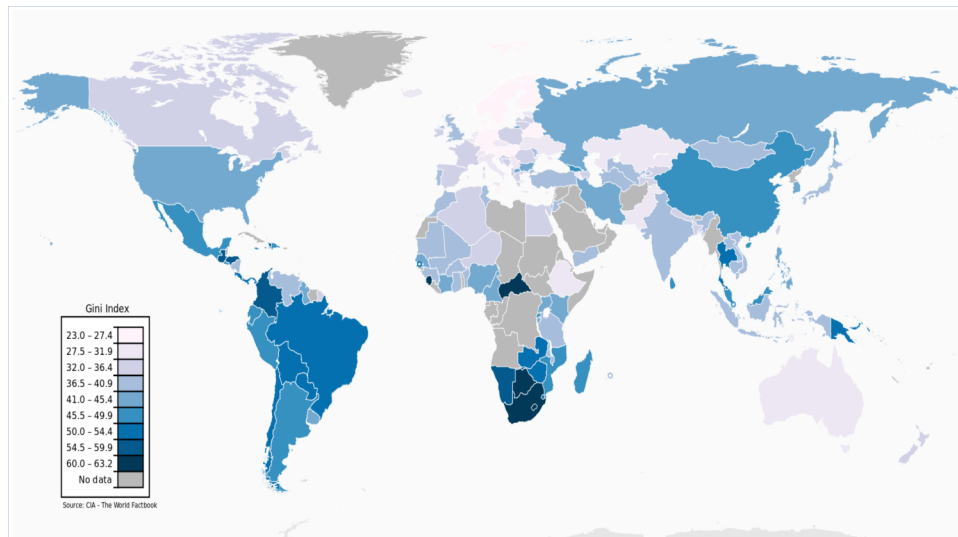
- C Bulgaria, igual que moitos outros países da Europa oriental, amosa desde os anos 90 unha forte caída do seu crecemento natural debido á falla de oportunidades económicas, que provoca unha elevada taxa de emigración.

Bulgaria, al igual que muchos otros países de la Europa oriental, muestra desde los años 90 una fuerte caída de su crecimiento natural debido a la falta de oportunidades económicas, que provoca una elevada tasa de emigración.



- 19.** O coeficiente de Gini utilízase, entre outras cousas, para medir o grao de desigualdade económica entre poboación e ingresos nun país. Canto máis alto sexa, maior desigualdade existirá. Segundo isto, escolla a expresión correcta.

El coeficiente de Gini se utiliza, entre otras cosas, para medir el grado de desigualdad económica entre población e ingresos en un país. Cuanto más alto sea, mayor desigualdad existirá. Según esto, escoja la expresión correcta.

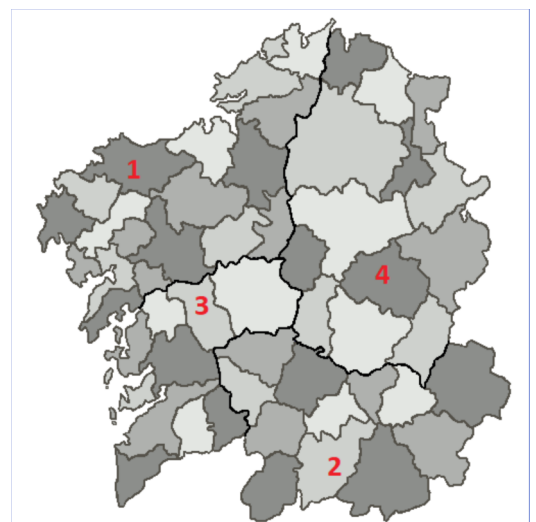


- A** As poboacións con menor desigualdade social son as que ocupan as áreas mesoclimáticas do hemisferio norte, sinaladamente Canadá e Europa occidental.
Las poblaciones con menor desigualdad social son las que ocupan las áreas mesoclimáticas del hemisferio norte, señaladamente Canadá y Europa occidental.
- B** As poboacións con menor desigualdade social son as correspondentes aos países emerxentes (BRICS): Brasil, Rusia, India, China e Suráfrica.
Las poblaciones con menor desigualdad social son las correspondientes a los países emergentes (BRICS): Brasil, Rusia, India, China y Sudáfrica.
- C** As poboacións con maior desigualdade social son as de fala angloaxona.
Las poblaciones con mayor desigualdad social son las de habla anglosajona.

- 20.** Identifique correctamente as comarcas de Galicia numeradas.

Identifique correctamente las comarcas de Galicia numeradas.

- A** 1: Terra de Soneira. 2: Verín. 3: Deza. 4: Terra de Lemos.
- B** 1: Xallas. 2: Valdeorras. 3: Ulloa. 4: Quiroga.
- C** 1: Bergantiños. 2: A Limia. 3: Terra de Montes-Tabeirós. 4: Sarria.





3. Solución para as preguntas tipo test

Nº	A	B	C	
1		X		
2			X	
3	X			
4		X		
5	X			
6			X	
7	X			
8			X	
9			X	
10		X		
11	X			
12		X		
13		X		
14		X		
15		X		
16			X	
17	X			
18			X	
19	X			
20			X	
N.º de respostas correctas (C)				
N.º de respostas incorrectas (Z)				
Puntuación do test= $C \times 0,5 - Z \times 0,125$				

Nas preguntas de test, por cada resposta incorrecta descontaranse 0,125 puntos. As respostas en branco non descontarán puntuación.