



**XUNTA DE GALICIA**  
CONSELLERÍA DE CULTURA, EDUCACIÓN  
E ORDENACIÓN UNIVERSITARIA



**UNIÓN EUROPEA**  
**Fondo Social Europeo**  
*"O FSE inviste no teu futuro"*



GOBIERNO DE ESPAÑA  
MINISTERIO DE EDUCACIÓN, CULTURA Y DEPORTE

---

Probas de acceso a ciclos formativos de grao medio

CMPS003

# Ciencias sociais

---

Parte sociolingüística. Ciencias sociais



# 1. Formato da proba

---

## Formato

- A proba consta de vinte cuestións tipo test.
- As cuestións tipo test teñen tres posibles respostas, das que soamente unha é correcta.

## Puntuación

- 0,50 puntos por cuestión tipo test correctamente contestada.
- Cada cuestión tipo test incorrecta restará 0,125 puntos.
- Polas respostas en branco non se descontará puntuación.
- No caso de marcar máis dunha resposta por pregunta considerarase como unha resposta en branco.

## Duración

- Este exercicio terá unha duración máxima de: 40 minutos.

## Materiais e instrumentos que se poden empregar durante a proba

- Bolígrafo con tinta negra ou azul.



## 2. Exercicio

### 1. Sinale cal das seguintes institucións forma parte da Administración autonómica de Galicia.

Señale cuál de las siguientes instituciones forma parte de la Administración autonómica de Galicia.

- A** Tribunal Superior de Xustiza de Galicia.  
*Tribunal Superior de Justicia de Galicia.*
- B** Real Academia Galega.  
*Real Academia Gallega.*
- C** Deputación Provincial de Pontevedra.  
*Diputación Provincial de Pontevedra.*

### 2. Sinale a afirmación historicamente correcta sobre o proceso coñecido como Revolución Industrial:

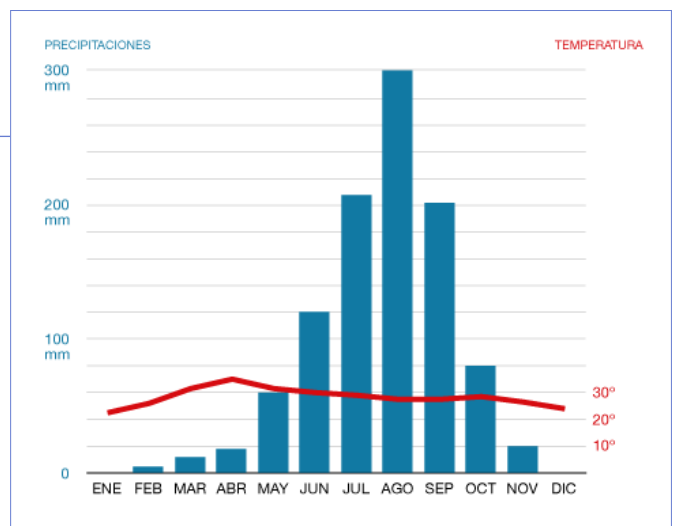
Señale la afirmación históricamente correcta sobre el proceso conocido como Revolución Industrial:

- A** Comezou en Inglaterra co desenvolvemento do sector algodoeiro.  
*Comenzó en Inglaterra con el desarrollo del sector algodonero.*
- B** Comezou en Inglaterra co desenvolvemento do sector químico.  
*Comenzó en Inglaterra con el desarrollo del sector químico.*
- C** Comezou en Inglaterra co desenvolvemento do sector metalúrxico.  
*Comenzó en Inglaterra con el desarrollo del sector metalúrgico.*

### 3. Tendo en conta o réxime anual de precipitacións e temperaturas que reflicte o climograma proposto, sinale a que tipo de clima corresponde.

Teniendo en cuenta el régimen anual de precipitaciones y temperaturas que refleja el climograma propuesto, señale a qué tipo de clima corresponde.

- A** Mediterráneo.
- B** Oceánico.
- C** Tropical con estación seca.

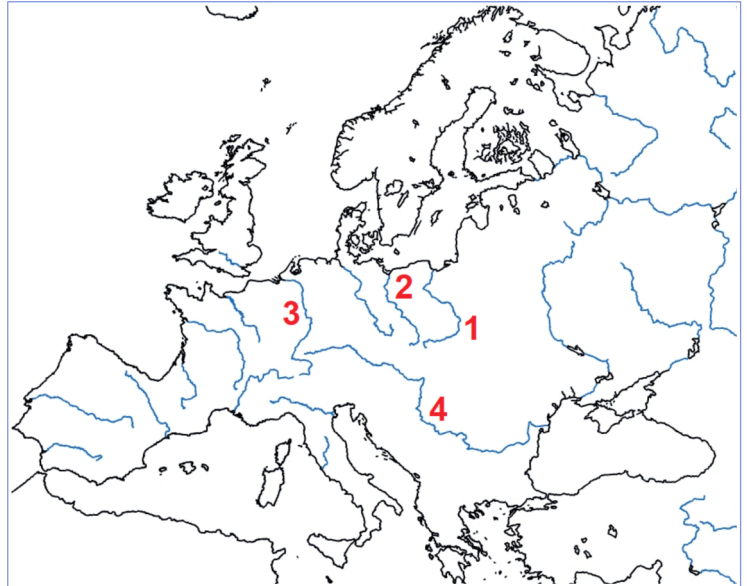




4. Identifique correctamente os ríos europeos sinalados con números.

Identifique correctamente los ríos europeos señalados con números.

- A** 1: Danubio. 2: Oder. 3: Vístula.  
4: Rin.
- B** 1: Vístula. 2: Oder. 3: Rin.  
4: Danubio.
- C** 1: Oder. 2: Vístula. 3: Rin.  
4: Danubio.



5. Sinala cal é, entre as propostas, unha tendencia pictórica característica do último Renacemento.


Señale cuál es, entre las propuestas, una tendencia pictórica característica del último Renacimiento.

- A** Expresionismo.
- B** Tenebrismo.
- C** Manierismo.

6. O uso da “pedra puída” como instrumental lítico xorde no período prehistórico coñecido como:

El uso de la “piedra pulimentada” como instrumental lítico surge en el período prehistórico conocido como:

- A** Magdaleniano.  
*Magdalenense.*
- B** Neolítico.  
*Neolítico.*
- C** Paleolítico.  
*Paleolítico.*





**7.** Cal é a secuencia cronolóxica correcta de acontecementos da Historia Contemporánea?

---

*¿Cuál es la secuencia cronológica correcta de acontecimientos de la Historia Contemporánea?*

- A** 1ª Guerra Mundial - Revolución Rusa - Guerra Fría.
- B** Revolución Rusa - 1ª Guerra Mundial - Guerra Fría.
- C** Guerra Fría - Revolución Rusa - 1ª Guerra Mundial.

**8.** O artigo 1.2 da Constitución de 1978 di: "A soberanía nacional reside no pobo español, do que emanan os poderes do Estado". Que dereito se outorga deste xeito ao pobo español?

---

*El artículo 1.2 de la Constitución de 1978 dice: "La soberanía nacional reside en el pueblo español, del que emanan los poderes del Estado". ¿Qué derecho se otorga de esta manera al pueblo español?*

- A** O dereito a non sermos discriminados por razón de sexo.  
*El derecho a no ser discriminados por razón de sexo.*
- B** O dereito a percibir un salario digno.  
*El derecho a percibir un salario digno.*
- C** O dereito a elixir os seus representantes políticos.  
*El derecho a elegir a sus representantes políticos.*

**9.** Señale a cronoloxía correcta correspondente ao Trienio Liberal, que tivo lugar en España tras o pronunciamento de Rafael de Riego.

---

*Señale la cronología correcta correspondiente al Trienio Liberal, que tuvo lugar en España tras el pronunciamiento de Rafael de Riego.*

- A** 1871-1874
- B** 1868-1870
- C** 1820-1823

**10.** Polo seu xeito innovador de pintar ao aire libre, traballando a incidencia da luz sobre a paisaxe, a obra de Claude Monet enmárcase no estilo:

---

*Por su manera innovadora de pintar al aire libre, trabajando la incidencia de la luz sobre el paisaje, la obra de Claude Monet se enmarca en el estilo:*

- A** Iluminista.
- B** Expresionista.
- C** Impresionista.





11. As características estilísticas desta catedral, coa presenza de rosetón, contrafortes, arcos apuntados, etc., indican que foi construída no estilo:

*Las características estilísticas de esta catedral, con la presencia de rosetón, contrafuertes, arcos apuntados, etc., indican que fue construida en estilo:*

- A Mudéjar.  
*Mudéjar.*
- B Renacentista.
- C Gótico.



12. Sinale a secuencia correcta dos seguintes feitos históricos.

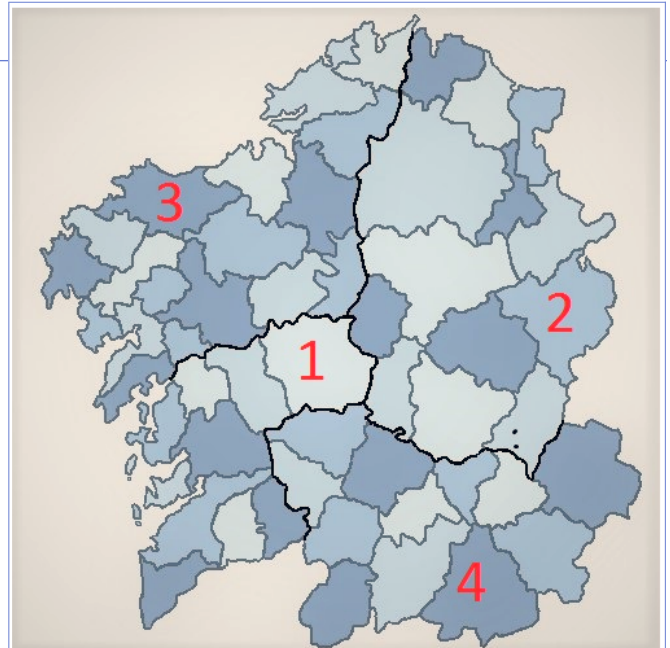
*Señale la secuencia correcta de los siguientes hechos históricos.*

- A Dieta de Worms - Concilio de Trento - Tratado de Versalles.
- B Dieta de Worms - Tratado de Versalles - Concilio de Trento.
- C Tratado de Versalles - Dieta de Worms - Concilio de Trento.

13. Identifique correctamente as comarcas de Galicia indicadas.

*Identifique correctamente las comarcas de Galicia indicadas.*

- A 1: Ancares. 2: Bergantiños.  
3: Deza. 4: Verín.
- B 1: Bergantiños. 2: Deza.  
3: Verín. 4: Ancares.
- C 1: Deza. 2: Ancares.  
3: Bergantiños. 4: Verín.





- 14.** Dentro do pensamento socialista da segunda metade do século XIX, que ideoloxía defendía a supresión de calquera forma de Estado?
- 

*Dentro del pensamiento socialista de la segunda mitad del siglo XIX, ¿qué ideología defendía la supresión de cualquier forma de Estado?*

- A** Anarquistas.
- B** Comunistas.
- C** Nihilistas.

- 15.** En que ano entraron en circulación en España os billetes e moedas de euro?
- 

*¿En qué año entraron en circulación en España los billetes y monedas de euro?*

- A** 2007
- B** 2002
- C** 1998

- 16.** Cal dos seguintes organismos internacionais dependentes da ONU está relacionado coa atención ás persoas desprazadas sen fogar?
- 

*¿Cuál de los siguientes organismos internacionales dependientes de la ONU está relacionado con la atención a las personas desplazadas sin hogar?*

- A** ACNUR.
- B** FAO.
- C** UNICEF.

- 17.** Identifique cal destas afirmacións **NON** é unha das causas da primeira Guerra Mundial.
- 

*Identifique cual de las siguientes afirmaciones **NO** es una de las causas de la primera Guerra Mundial.*

- A** A carreira imperialista.  
*La carrera imperialista.*
- B** A redacción do Tratado de Versalles.  
*La redacción del Tratado de Versalles.*
- C** A grave situación política que se vivía nos Balcáns.  
*La grave situación política que se vivía en los Balcanes.*



**18.** Sinale a frase que defina correctamente o concepto de "polis".

---

*Señale la frase que defina correctamente el concepto de "polis".*

- A** Entidades políticas propias do antigo Imperio Persa.  
*Entidades políticas propias del antiguo Imperio Persa.*
- B** O Imperio Grego antigo.  
*El Imperio Griego antiguo.*
- C** Cidades-estado gregas, que xurdiron a partir do século VIII a. C.  
*Ciudades-estado griegas, que surgieron a partir del siglo VIII a. C.*

**19.** Sinale a frase que identifica correctamente o réxime demográfico de España.

---

*Señale la frase que identifica correctamente el régimen demográfico de España.*

- A** España ten unha taxa de natalidade baixa e unha elevada esperanza de vida, o que implica un crecemento vexetativo xeralmente negativo.  
*España tiene una tasa de natalidad baja y una elevada esperanza de vida, lo que implica un crecimiento vegetativo generalmente negativo.*
- B** España ten unha taxa de natalidade alta e unha elevada esperanza de vida, o que implica un crecemento vexetativo positivo.  
*España tiene una tasa de natalidad alta y una elevada esperanza de vida, lo que implica un crecimiento vegetativo positivo.*
- C** España ten unha taxa de natalidade alta e unha baixa esperanza de vida, o que implica un crecemento vexetativo de tipo neutro.  
*España tiene una tasa de natalidad alta y una baja esperanza de vida, lo que implica un crecimiento vegetativo de tipo neutro.*

**20.** A obra escultórica de Gian Lorenzo Bernini, en composición aberta e con marcadas diagonais, é característica do estilo:

---

*La obra escultórica de Gian Lorenzo Bernini, en composición abierta y con marcadas diagonales, es característica del estilo:*

- A** Renacentista.
- B** Barroco.
- C** Manierista.







### 3. Solución para as preguntas tipo test

Nº	A	B	C	
1	X			
2	X			
3			X	
4		X		
5			X	
6		X		
7	X			
8			X	
9			X	
10			X	
11			X	
12	X			
13			X	
14	X			
15		X		
16	X			
17		X		
18			X	
19	X			
20		X		
N. de respostas correctas (C)				
N. de respostas incorrectas (Z)				
Puntuación do test= $C \times 0,5 - Z \times 0,125$				

**Nas preguntas de test, por cada resposta incorrecta descontaranse 0,125 puntos. As respostas en branco non descontarán puntuación.**