


Dibuja las semicorcheas siguiendo con el lápiz la línea punteada.

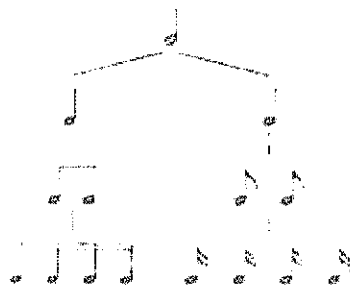


Traza el silencio de corchea siguiendo con el lápiz la línea de puntos.







Matemáticas Musicales:



Recuerda:







Por lo tanto:



-  = corcheas
-  = semicorcheas
-  = semicorcheas
-  = semicorcheas

Escribe las equivalencias, rellenando con un número cada casilla.

 = 

 = 

 = 

 = 

Une con flechas cada figura musical con su silencio.

