

0	1	2	3	4	5	6	7	8	9
10									
20									
30									
40									
50									
60									
70									
80									
90									

1. - Completa esta tabla de 100
2. - Recorta os números
3. - Mezcla despois os números
4. - Elixe 10 números
5. - Colócaos na tabla muda de 100

**IMPORTANTE:**

|| Tes que recordar:

Pandilla de  
0

Pandilla de  
1

Pandilla de ...  
2

Familia de 0

Familia de 10

Familia de 20

Familia de 30

Familia de 40

||

Repite este xogo moitos días.

# Casas das familias.

Xoga a facer as casas das familias.

Vai un exemplo por si non

recordas:

- Collo os números da familia de 20  
(21-22-23-24-25-26-27-28-29)
- Colócos na casa da plantilla



Outro exemplo con varios casinhas collos un puñado de números e colócalos na correspondente casinha.

números:  
18, 5, 3,  
24, 39, 11 etc.



En castellán os números ata o 30 escribíense xunta  
o partir de 30 separados.

5º Completa esta tabla:

2 d y 1 u	21	veintiuno
2 d y 3 u		
2 d y 5 u		
2 d y 6 u		
3 d y 2 u		
3 d y 9 u		

6º Une con flechas:

15

2 d 0 u

35

2 d 9 u

20

3 d 2 u

29

3 d 5 u

32

1 d 5 u

33

2 d 5 u

6

1 d 8 u

25

1 d 7 u


18

6 u

17

3 d 3 u





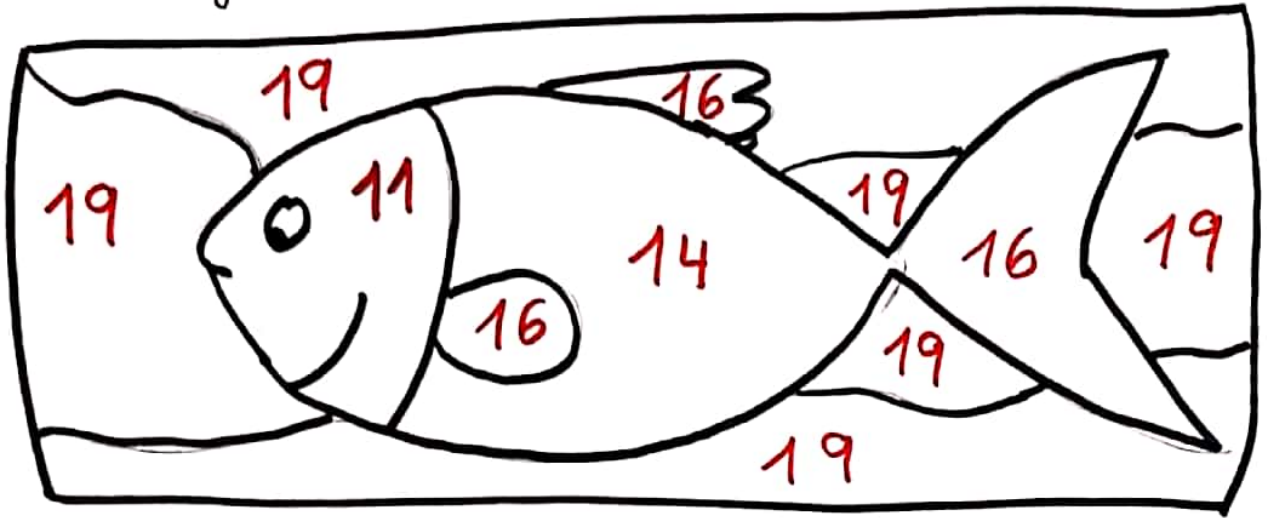
### 3º Colorea:

1 d y 1 u = amarillo

1 d y 4 u = verde

1 d y 6 u = rojo

1 d y 9 u = azul



### 4º Completa

1 d y 1 u =

1 d y 3 u =

1 d y 5 u =

1 d y 7 u =

1 d y 2 u =

1 d y 8 u =

Recordade: O grande na cabeça e o pequeno na man.

1º Lee y calcula:

$10 + 1 = \square$

$10 + 5 = \square$

$10 + 3 = \square$

$20 + 4 = \square$

$20 + 1 = \square$

$10 + 5 = \square$

$20 + 6 = \square$

$20 + 2 = \square$

$30 + 4 = \square$

$30 + 6 = \square$

2º Completa. Fijate en el ejemplo:

---

 $16 = 1d + 6u = 10 + 6$ 

---

$12 =$ 

---

$19 =$ 

---

$23 =$ 

---

$26 =$ 

---

$35 =$ 

---

$34 =$ 

---

10º Recorda

>  
maior  
mais grande

<  
menor  
mais pequeno

Fixate neste exemplo:

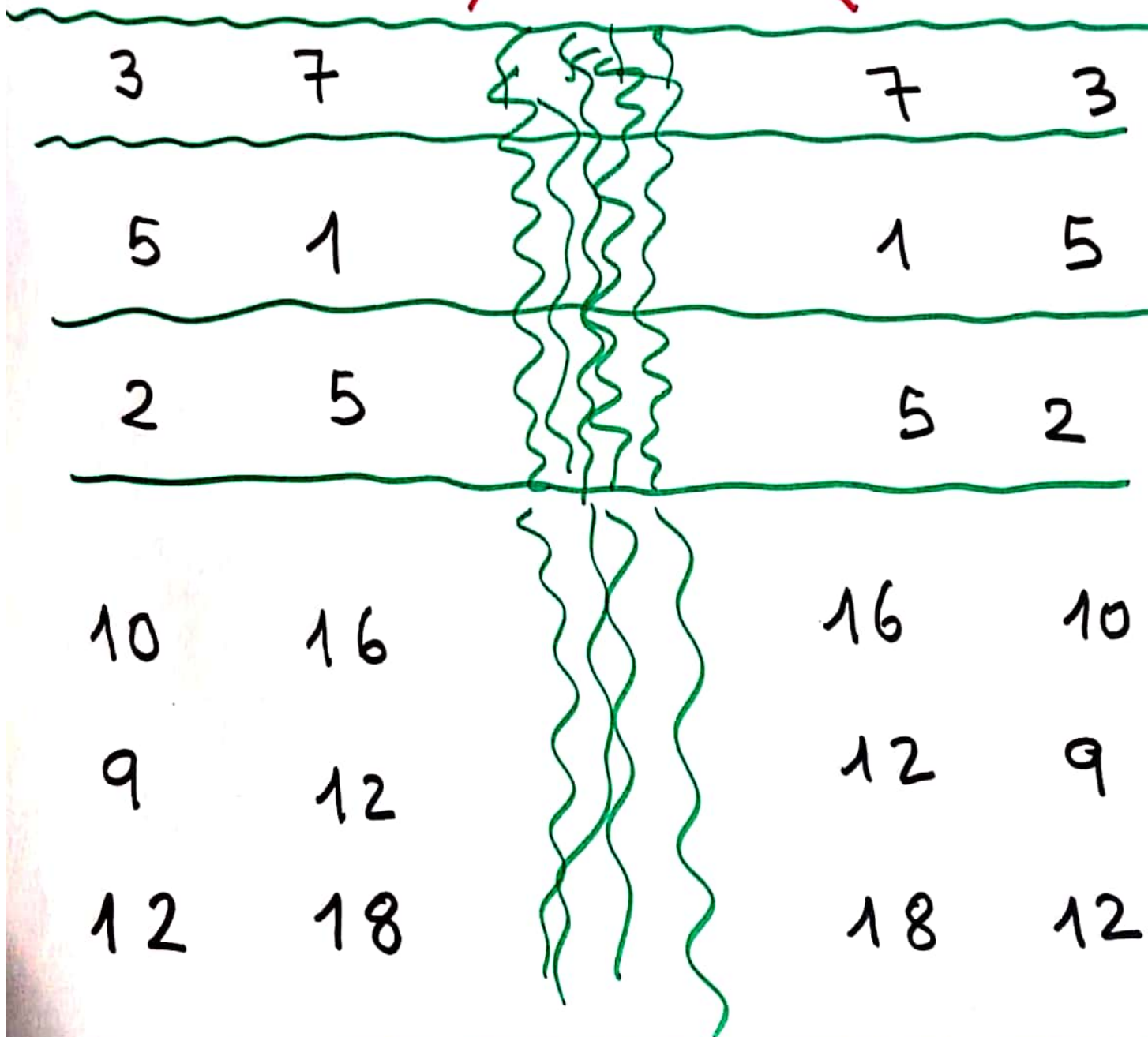
4 < 9

9 > 4

6 > 1

Coloca

> ou <






CASAS

DAS

FAMILÍAS



Foi este jogo muitas vezes.

8º) Descomponer os seguintes números:

$$25 \Rightarrow 20 + 5 \Rightarrow 2 \text{ d } 5 \text{ u}$$

$$18 \Rightarrow \Rightarrow$$

$$37 \Rightarrow \Rightarrow$$

$$31 \Rightarrow \Rightarrow$$

$$53 \Rightarrow \Rightarrow$$

$$46 \Rightarrow \Rightarrow$$

9º) Calcula:

$$1 \text{ d} = 10 \text{ u}$$

$$2 \text{ d} = 10 + 10 = 20 \text{ u}$$

$$3 \text{ d} =$$

$$4 \text{ d} =$$

$$6 \text{ d} =$$

$$8 \text{ d} =$$

$$5 \text{ d} =$$

7º Completa:

	d	u
26	2	6
35		
43		

	d	u
41		
12		
38		

	d	u
31		
17		
86		
11		

	d	u
19		
25		
53		

	d	u
61		
16		
12		

	d	u
37		
73		
33		