

NOME:

CURSO:



PRIMARIA
5ª SEMANA

15 menos nueve:

Tés 15 €, perdes 9€.
Que téis no bolsillo?



A Carreira:

Participas nunha gran carreira deportiva. Con moito esforzo vas remontando positions. Si adelantas ao segundo. En que posto estás?.


Unha de animais:

Recordas, aproximadamente (non fai falla que des o número exacto), Cantas parellas de animais meteu Moisés no Arca, antes do diluvio universal?



Froita:

A unha árbore subín onde peras había, peras non collín e peras non deixei. Cantas peras había?





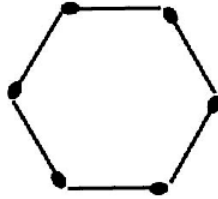
NOME:

CURSO:

E.S.O.
5ª SEMANA


Triangulos con mixtos:

Nunha catedral un artesán pregúntase cómo se poden formar catro triángulos equiláteros con estes seis mixtos.




Criaturas:

Godofredo de Bouillón ten cinco criaturas. A metade son fillas. Como é posible?



Avalón:

Avalón é unha illa cadrada rodeada por un río de 4 m. de ancho. Temos dúas táboas de 3,90 m. de longo e dalgúns cms de ancho. Como deberemos colocalas para conseguir unha ponte estable que nos permita chegar á illa?



Curiosidade matemática:

Cal é o número que, si o pos do revés, vale menos?