

NOME:


CURSO:



PRIMARIA
4ª SEMANA

Ilusións ópticas:

Pon atención e contesta, Qué ves no debuxo?.




Peluxa:

Seguindo co noso paseo por NUMERALIA atopamos a Peluxa, unha número moi coqueta á que se lle quedou esta cara ao verse no espello. Cal é a maior suma que podemos sacar dela e de cantas cifras está composta?




Os catro cadrados:

Coloca 16 palillos como indica a figura. Move só dous de modo que queden catro cadrados idénticos.



Fíxate ben:

Rodea os dous debuxos iguais:



NOME:


CURSO:



E.S.O.
4ª SEMANA

Silueta:

Mirando un libro atopei esta silueta que seguro que xa viches algunha vez. Sabes o que é?

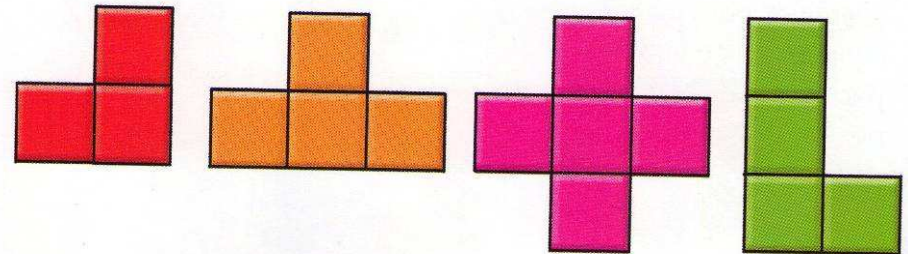


Liñas de bus:

A familia Tricotá está composta por seis irmáns: Sara, Lucía, Alberto, Eduardo, Yolanda e Roger. Para ir ao colexio usan tres liñas de bus diferentes: a liña azul, a liña vermella e a liña amarela. Os seus pais sempre lles dín que deben ir de dous en dous. Sabemos que Alberto non usa a liña vermella porque acompaña a Eduardo que non vai n aliña azul. Roger viaxa n aliña azul. Si Lucía non vai acompañada de Yolanda nin fai uso da liña azul... En qué liña de bus vai ao cole Sara?

Taboleiro cadrado:

Tes unha serie de pezas. Pensa con cal delas, repetida as veces que queiras, podes construír un taboleiro cadrado de 8x8 cadrados en cada lado. Se o prefires, mide, debuxa e/ou, recorta cada peza e verás a desposta.



O cinquillo:

Cómo podes ordear cinco 5 para que o resultado da súa unión sexa 5?

