


MATEMÁTICAS. El día y las horas.

Cangas - 28 de maio de 2020


¡¡FELICIDADES HUMBEL!! !!*Que cumplas muchos más!!*

Un día es el tiempo que tarda la Tierra en dar una vuelta completa sobre sí misma.



Un día tiene 24 horas, que se dividen en dos ciclos de 12 horas.

0 1 2 3 4 5 6 7 8 9 10 11 12 1 2 3 4 5 6 7 8 9 10 11 12



0 1 2 3 4 5 6 7 8 9 10 11 12 13 14 15 16 17 18 19 20 21 22 23 24

MADRUGADA

MAÑANA

TARDE

NOCHE



Cada hora tiene 60 minutos y cada minuto tiene 60 segundos.

Un día tiene 24 horas. En cada hora hay 60 minutos. Un minuto tiene 60 segundos.

1. Une las horas que han pasado y la hora que es.

15 horas
11 horas
22 horas
2 horas


las 11 de la mañana
las 10 de la noche
las 2 de la madrugada
las 3 de la tarde

2. Responde.

- a) ¿Cuántas horas dura la mitad de un día?
- b) ¿cuántos minutos son una hora?
- c) ¿Cuántos segundos son dos minutos?


3. Observa la agenda de Humble y completa.

- A las 9 de la _____ llega al colegio.
- Merienda a las _____ horas.
- Se ducha a las _____ de la _____.
- Duerme desde las 21 horas hasta las _____ de la mañana.



4. El autobús del colegio tarda 20 minutos en llegar a la parada de Marcos y 15 minutos más en llegar a la de Uxía. Luego tarda 10 minutos hasta el colegio.

- a) ¿Durante cuánto tiempo conduce el conductor del autobús? _____
- b) Si debe descansar cada hora, ¿cuántos minutos más puede conducir? _____



5. Escribe los minutos que un niño debe dedicar a dormir, ver la televisión y a estudiar cada día.

Un niño debe:

- Dormir 8 horas al día.
- Ver la televisión media hora.
- Estudiar 1 hora y media.

Dormir:

Ver la TV:

Estudiar:

6. Lía ve esta hora en su reloj al salir de la piscina. Si entró a las 5 de la tarde, ¿Cuánto tiempo ha estado?



7. LA TIENDA DE NOA

En la tienda de Noa los productos cambian de precio según la hora del día. Algunos productos se venden más por la mañana y otros más por la tarde. Así que, ha puesto los precios más baratos en las horas en que más vende.

	de 10 a 12 de la mañana	desde las 12 h
Refrescos	0,75 €	0,60 €
Bollos	0,80 €	0,90 €
Golosinas	0,10 €	0,05 €

a) Si fueran las 11:57 y quisieras comprar un refresco, ¿te darías prisa o esperarías a las 12:00? ¿Por qué?

b) Escribe V o F.

A. Vende más refrescos por la mañana que por la tarde. _____

B. Vende menos bollos por la tarde que por la mañana. _____

C. Vende más golosinas a partir de las 12. _____

D. Todo es más barato por la mañana que por la tarde. _____

8. EL MONOPATÍN DE IRIA

Iria quiere comprar las piezas para hacer un monopatín y compara los precios de las tiendas Sequelo y Canto da Area.

	Tabla	Ejes	Rodamientos	Ruedas	Lija	Tornillos
Sequelo	354 €	31 €	131 €	223 €	8 €	8 €
Canto da Area	349 €	21 €	143 €	245 €	12 €	6 €

- ¿En qué tienda resulta más barato el monopatín? ¿Qué diferencia hay?
- ¿Qué piezas tiene que comprar en cada tienda para conseguir el monopatín al mejor precio? ¿Cuánto costará de esta manera?
- Si un monopatín ya montado cuesta 799 €, ¿qué opción crees que eligirá? Explica la respuesta.

