

Nombre :.....N°.....

Curso **4º E.P.** Materia : **Matemáticas** Trimestre : **2º**

1.- Completa el valor que tienen las siguientes unidades de tiempo:

un cuarto de hora=.....	media hora=.....	tres cuartos de hora=.....
1 trimestre=.....	1 hora=.....	24 horas=..... día
1 semana=.....	1 minuto=.....s	1 mes de marzo=..... días
7 días.....	3600 s=.....	100 años=.....

2. -Calcula cuantos minutos son 5 h menos cuarto?

b)¿ Cuántos minutos son seis horas y cuarto?

Operaciones

Operaciones

Solución:

Solución:

3. -Calcula cuantos **segundos** son 4 h 8 min 32 s ? Operaciones



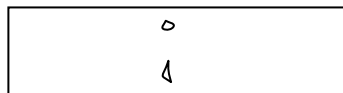
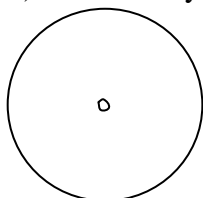
Datos

Solución:


4. - Dibuja en cada apartado dos relojes uno analógico y otro digital que indiquen las siguientes horas:


a) Las cuatro y media de la tarde

b) Las diez menos cuarto de la mañana



c) Empareja cada reloj digital con el analógico que señale la misma hora e indica al lado que hora marcan







5. -Resuelve:

$$\begin{array}{r} 2 \text{ h } 54 \text{ min} \\ + 5 \text{ h } 26 \text{ min} \\ \hline \end{array}$$

$$\begin{array}{r} 7 \text{ h } 25 \text{ min} \\ + 4 \text{ h } 45 \text{ min} \\ \hline \end{array}$$

$$\begin{array}{r} 9 \text{ h } 4 \text{ min} \\ - 2 \text{ h } 30 \text{ min} \\ \hline \end{array}$$

$$\begin{array}{r} 8 \text{ h } 23 \text{ min} \\ - 2 \text{ h } 50 \text{ min} \\ \hline \end{array}$$

6.- Coloca en vertical y calcula (recuerda: lo hacemos con números decimales):

a) 76 € 84 cts + 35 € 56 cts=

b) 85 € 12 cts - 57 € 67 cts=

7.-Cuántos minutos pasaron desde que María se levanta a las 8:10 de la mañana hasta que sale de la casa para ir a jugar a las 8:55? ¿Cuántos segundos son? **Operaciones**

Datos

Solución:

8.- Sabina quiere comprar un libro que cuesta 37 € y 35 cent, un compás que le cuesta 15 € 20 cts y una libreta que cuesta 2 € y 70 cent. En la cartera lleva un billete de 50 €, uno de 5 €, 2 monedas de 1 € y dos monedas de 50 cent. ¿Tiene dinero suficiente para comprar todo? **Operaciones**

Datos

Solución:

9.-Aldara entregó a la dependienta 1 billete de 50 € después de comprar un disfraz de princesa. Esta le entregó estos billetes y monedas.

¿Cuánto dinero le costó el disfraz?



10.- De las 6 horas 35 minutos 12 segundos que Carlos necesita para pintar una pared, ya empleó 4 horas 42 minutos 8 segundos. ¿Cuánto tiempo le falta para terminar? **Operaciones**

Datos

Solución: