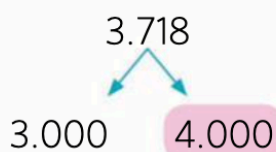


## ¡RECORDAMOS!!

Observa que 3.718 está comprendido entre 3.000 y 4.000.



Está más cerca de 4.000.



► El número 3.718 redondeado a la unidad de millar es 4.000.

Para **redondear un número a la unidad de millar** observamos entre qué unidades de millar se encuentra y elegimos la más cercana.

Observa también que 3.718 está comprendido entre 3.700 y 3.800.



Está más cerca de 3.700.




► El número 3.718 redondeado a la centena es 3.700.

Para **redondear un número a la centena** pensamos entre qué centenas se encuentra y elegimos la más cercana.

1. ¿Entre que centenas se encuentra cada número?



2. Fíjate en la capacidad de estos depósitos y completa la tabla.



12.054 ℓ

4.758 ℓ

84.699 ℓ

2.432 ℓ

capacidad del depósito	aproximación a la unidad de millar	aproximación a la centena	aproximación a la decena
12.054			

3. ¿Qué número es 17.629 redondeado a la unidad de millar? Rodea.

- A. 18.600    B. diecisiete mil    C. 1 UM + 8 DM    D. 18 UM

4. Compara estos números y escribe >, < o =.

459 ○ 495

1.758 ○ 1.785


12.587 ○ 12.587

9.759 ○ 9.800

989.560 ○ 989.559

378.421 ○ 387.421

5. Ordena el peso de estos animales de menor a mayor.



6. Observa el peso de los animales de la actividad anterior y elige la respuesta correcta.

- El peso del elefante aproximado a las unidades de millar es:  
 A. 8.000      B. 9.000      C. 8.600      D. 8.610
- El peso del rinoceronte aproximado a las decenas es:  
 A. 2.600      B. 2.500      C. 2.560      D. 2.550

7. Completa la tabla

anterior	número	posterior
	4.000	
	62.390	
	109.999	


8. ¿Entre que dos miles se encuentran el número 77.824?

¿A cuál se acerca más? .....

¿Cuál es el número 77.824 redondeado a las centenas? .....

¿Y a las decenas? .....

9. ¿Cuántos habitantes tienen aproximadamente estas ciudades? Redondea a las unidades de millar y ordénalas de mayor a menor.



10. ¿Qué dorsal lleva el ganador?



La cifra de las centenas es par y mayor que la cifra de las unidades.

11. ¿Quién tiene razón, Kenia o Luís? Razona la respuesta.



12. Un parque de atracciones tuvo un número de visitantes mayor que 50.000, y con la cifra de las decenas mayor que la de las unidades de millar. ¿Cuántos visitantes tuvo?

A. 6.987

B. 67.592

C. 75.053

D. 59.801

13. En una biblioteca hay 3.041 libros de aventuras, 3.401 de animales y 3.410 de humor. ¿Qué respuestas son correctas?

A. Hay más libros de animales que de aventuras.

B. Hay menos libros de aventuras que de humor.

C. Hay más libros de humor que de animales.

D. Hay el mismo número de libros de humor que de animales.

14. Esta tabla muestra los cuatro picos más altos de España.

montaña	altura	provincia
Aneto	3.404 metros	Huesca
Veleta	3.398 metros	Granada
Mulhacén	3.479 metros	Granada
Teide	3.718 metros	Tenerife

a) ¿En qué provincia se encuentra el pico más alto de España?.....

b) ¿Cuál es el pico más alto de la provincia de Granada? .....

c) Ordena los cuatro picos de menor a mayor

.....