

Nombre _____ Fecha _____

1 Lee y completa.



¿Cuántas frutas hay en total?

Hay _____

¿Cuántas manzanas más que peras hay?

Hay _____



¿Cuántas canicas hay en total?

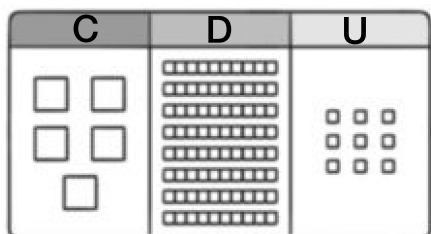
Hay _____

¿Cuántas canicas rojas más que verdes hay?

Hay _____

Nombre _____ Fecha _____

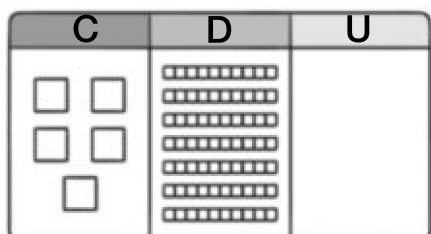
1 Completa y escribe el número representado.



$$\square C + \square D + \square U$$

$$\square + \square + \square = \square$$

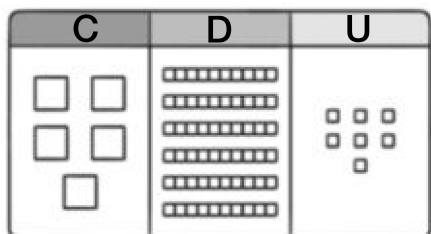
► Quinientos



$$\square C + \square D$$

$$\square + \square = \square$$

► _____



$$\square C + \square D + \square U$$

$$\square + \square + \square = \square$$

► _____


2 Escribe con un número el dato de cada noticia.

<input type="text"/> ◀	▶ <input type="text"/>
Se han fichado quinientos cuarenta y cinco jugadores.	Se han adoptado quinientos tres perros sin hogar.
=====	=====

Sumas llevando con números de tres cifras

Nombre _____ Fecha _____

1 ¿Cuántas piezas tienen? Observa y calcula.



$$\begin{array}{r} \\ 238 \\ + 143 \\ \hline \square \end{array}$$

Tienen piezas.



$$\begin{array}{r} \\ 182 \\ + 143 \\ \hline \square \end{array}$$

Tienen piezas.

2 ¿Cuántos ladrillos tienen? Observa y calcula.



$$\begin{array}{r} 190 \\ + 85 \\ \hline \square \end{array}$$

Tienen ladrillos.



$$\begin{array}{r} 209 \\ + 85 \\ \hline \square \end{array}$$

Tienen ladrillos.

Comparación de números de tres cifras

Nombre _____ Fecha _____

1 Compara y escribe el signo $<$, $>$ o $=$.

$465 \bigcirc 380$

$362 \bigcirc 342$

$194 \bigcirc 197$

$234 \bigcirc 168$

$322 \bigcirc 325$

$157 \bigcirc 157$

$285 \bigcirc 385$

$494 \bigcirc 498$

$65 \bigcirc 111$

$487 \bigcirc 388$

$125 \bigcirc 125$


$295 \bigcirc 259$



2 Busca y rodea en cada grupo de vagones.

— El número mayor.

--- El número menor.



3 Observa el dibujo y escribe cada precio.

- Objeto más barato ►
- Objeto más caro ►
- Objeto que cuesta más de 129 € y menos de 194 € ►

