



Nombre: _____ Fecha: _____

LA PALOMA

Es invierno y el viento sopla fuertemente. La calle y los parques están desiertos. Juan y Beatriz están en casa, jugando a los piratas.

Con unas sillas, han construido un barco y con un gorro de papel, unas espadas de madera y un parche en un ojo, se han disfrazado de piratas.

Al cabo de un rato, se cansaron de jugar y se asomaron por la ventana para ver el jardín. Allí, las ramas de los árboles se balanceaban movidas por el viento.

Entre la hierba, hay una paloma. Apenas se mueve. Debe estar herida. Juan y Beatriz corren a verla. Se ha caído de un árbol y se ha roto una patita.

Los niños la cogen y la llevan a su casa. Allí junto con su mamá, le lavan la herida y le vendan la patita rota.

Durante unos días, los niños la cuidan y la alimentan. Pero pronto se recupera y comienza a caminar. Entonces, le quitan la venda y la dejan volar.

PRUEBA DE COMPRENSIÓN LECTORA

1.- ¿Qué estación del año era?

- a) Primavera
- b) Invierno
- c) Otoño

2.- ¿Cómo están los parques y las calles?

- a) Llenos de gente
- b) Llenos de flores
- c) Desiertos

3.- ¿A qué juegan los niños?

- a) Al parchís
- b) A los piratas
- c) Al veo veo

4.- ¿Con qué construyen el barco?

- a) Con unas sillas
- b) Con una mesa
- c) Con una escalera



5.- ¿Qué ven los niños por la ventana?

- a) El colegio
- b) El parque
- c) El jardín

6.- ¿Dónde ven a la paloma?

- a) Sobre un árbol
- b) Entre la hierba
- c) Volando

7.- ¿Cómo se ha roto la patita la paloma?

- a) Se ha caído de un árbol
- b) Le han disparado
- c) La ha arrastrado el viento

8.- ¿Qué hacen los niños con la paloma?

- a) La dejan tirada
- b) La llevan al hospital
- c) La llevan a su casa

CONTESTA

- ¿Cómo se llaman los niños?

.....
.....
.....

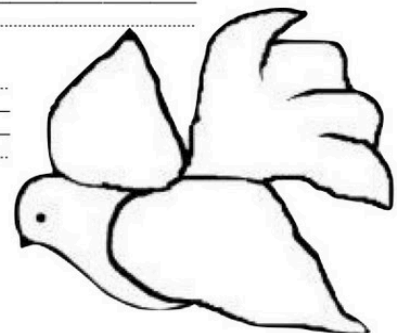
- ¿Quién les ayuda a cuidar a la paloma?

.....
.....
.....

- ¿Cómo cuidan los niños a la paloma?

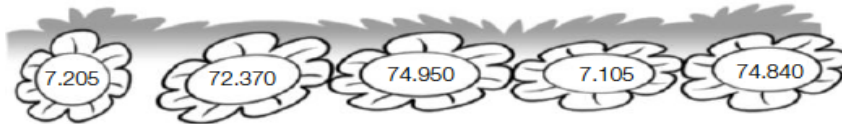
.....
.....
.....

.....
.....
.....
.....
.....
.....



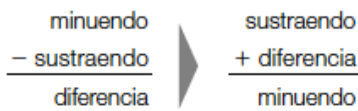
Calcula y relaciona cada suma con su resultado.

$2.784 + 3.465 + 856$
 $67.954 + 3.651 + 765$
 $67.231 + 6.930 + 789$

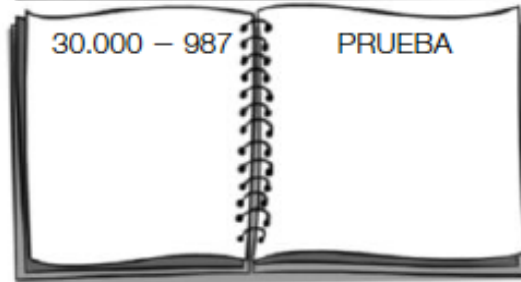
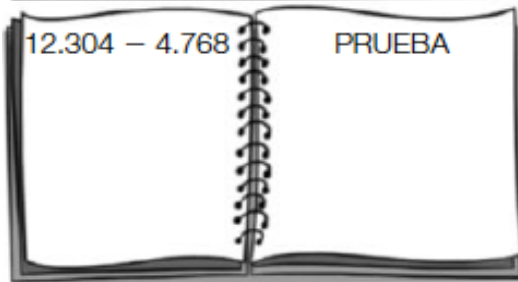
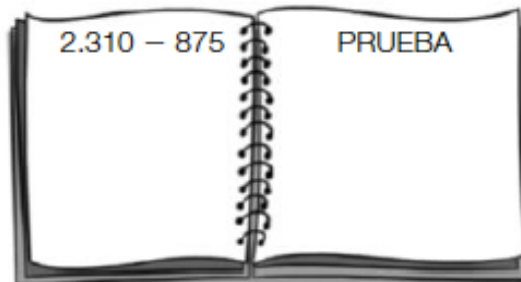
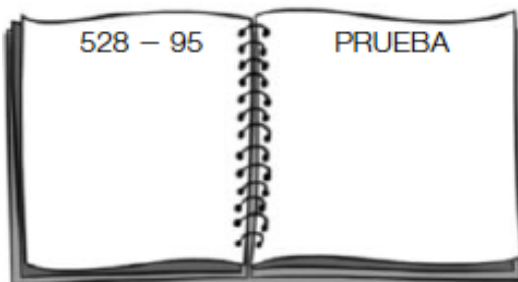


RECUERDA

Una resta está bien hecha si se cumple que: $\text{sustraendo} + \text{diferencia} = \text{minuendo}$



Calcula las restas y haz la prueba.



Resuelve.

- En una panadería había una cesta con 75 barras y otra cesta con 68 barras. Al final del día quedaron 18 barras. ¿Cuántas barras vendieron?

- Mariano tiene en su granja 75 vacas y 125 ovejas. Hoy ha vendido 15 vacas y 50 ovejas. ¿Cuántas ovejas más que vacas tiene ahora?



1. Haz las operaciones y averigua el nombre de cada pájaro.

Clave

- 5.118 ▶ azor
- 4.396 ▶ buitre
- 5.103 ▶ cuco
- 3.636 ▶ frailecillo
- 16.410 ▶ flamenco
- 12.696 ▶ lechuza
- 17.568 ▶ alimoche



3 2 8 2
× 5



4 2 3 2
× 3



8 5 3
× 6



5 6 7
× 9



2 1 9 6
× 8



6 2 8
× 7

9 0 9
× 4



Resuelve.

En un teatro, el viernes vendieron 345 entradas y el sábado vendieron el doble. ¿Cuántas entradas vendieron el sábado?

Alicia ha hecho un puzle de 150 piezas. Le han regalado otro con el triple de piezas. ¿Cuántas piezas tiene el puzle que le han regalado?