

Cálculo de divisiones

1 Calcula las divisiones.

• $12 : 2$

• $16 : 3$

• $20 : 4$

• $17 : 5$




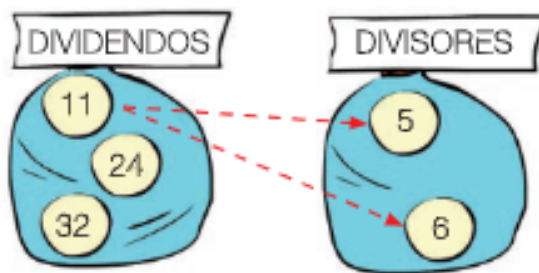
• $24 : 6$

• $25 : 7$

• $30 : 8$

• $36 : 9$

2 Calcula todas las divisiones posibles con los números dados.



3 Piensa y calcula.

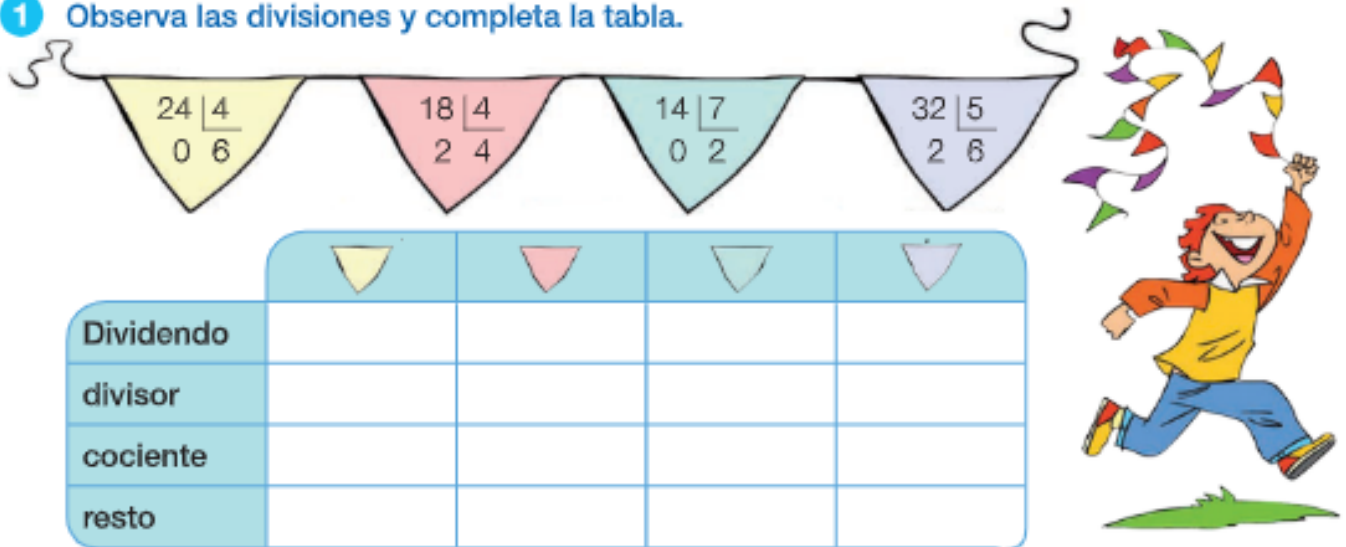
Javier divide un número mayor que 15 y menor que 20 entre 3 y obtiene una división exacta.





¿Qué número ha dividido Javier entre 3?



División exacta y división entera

1 Observa las divisiones y completa la tabla.



				
Dividendo				
divisor				
cociente				
resto				

- ¿Qué divisiones son exactas?

¿Por qué? _____

- ¿Qué divisiones son enteras?

¿Por qué? _____

2 Lee y resuelve. Ayúdate de un dibujo.

- Alberto reparte 12 pinturas en partes iguales en 3 botes. ¿Cuántas pinturas pone en cada bote? ¿Le sobran pinturas?



SOLUCIÓN _____



- Elena tiene 19 bolitas y hace 3 collares con el mismo número de bolitas cada uno. ¿Cuántas bolitas pone en cada collar? ¿Le sobran bolitas?

SOLUCIÓN _____

- Paula tenía una bolsa con bolas. Ha hecho 4 collares con 9 bolas cada uno y le han sobrado 5 bolas. ¿Cuántas bolas tenía en la bolsa?

SOLUCIÓN _____