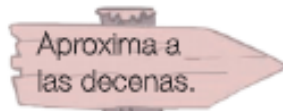


Estimación de productos

1 Estima los productos.

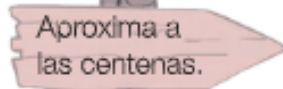


Aproxima a las decenas.

- 32×4

- 67×6

- 91×7

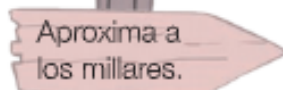


Aproxima a las centenas.

- 189×3

- 440×5

- 290×8



Aproxima a los millares.

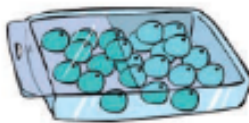
- 2.799×2

- 5.360×9

- 7.670×5

2 Observa el dibujo y calcula.


Elena hace collares con bolas de colores.



78



110



173



- ¿Cuántas bolas azules hay aproximadamente en 3 cajas?


SOLUCIÓN _____

- ¿Cuántas bolas rojas hay aproximadamente en 4 cajas?

SOLUCIÓN _____

- ¿Cuántas bolas hay aproximadamente en total en 2 cajas con bolas azules y 3 cajas con bolas verdes?

SOLUCIÓN _____



Uso de la calculadora

- 1 **Calcula. Después, comprueba los resultados con la calculadora.**

$$895 + 3.675$$

$$2.987 - 1.359$$

$$4.208 \times 6$$

- 2 **Resuelve y comprueba con la calculadora.**

- En la tabla aparece el número de habitantes de cinco pueblos.

Pueblo	Habitantes
Antalón	2.780
Campola	7.600
Jardinar	5.720
Tendemo	6.230
Villasol	9.500



¿Cuántos habitantes hay en total en Jardinar, Antalón y Villasol?

SOLUCIÓN _____

¿Cuántos habitantes hay en Campola más que en Tendemo?

SOLUCIÓN _____

- ¿Qué cuestan más: 4 bolsos, 20 libros o 9 plumas iguales?

SOLUCIÓN _____

