

Semana do 18 ao 22 de Maio.

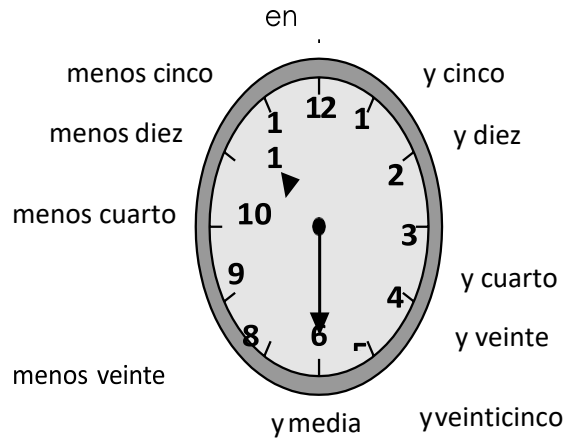
As actividades avaliáveis son o problema 2 (resuelve) de Matemáticas, a actividade 3 de Lingua Castelá e as dúas de Sociais.

MATEMÁTICAS:

RECUERDA

Observa cómo se leen las horas en un reloj de agujas.

El reloj marca las 10 y media.



En un reloj digital:

- Las horas antes del mediodía se leen igual que en los relojes de agujas.
- Las horas después del mediodía se leen: 13 14 15





Horas antes del mediodía

Horas después del mediodía
12 de la mañana

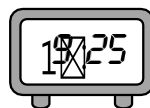


Mediodía

1 2 3 4 5 6 7 8 9 10 11 12 13 14 15 16 17 18 19 20 21 22 23 24

1 Escribe la hora que marca cada reloj.



2 Escribe de dos formas la hora que marca cada reloj.



La 1 y cuarto o
las 13 y quince



RECUERDA


- 1 hora $\hat{=}$ 60 minutos
1 h $\hat{=}$ 60 min

- 1 minuto $\hat{=}$ 60 segundos
1 min $\hat{=}$ 60s

1 Expresa en la unidad que se indica.



- 2 h
- 3 h
- 2 h y 35 min
- 3 h y 25 min



- 4 min
- 8 min
- 3 min y 18 s
- 4 min y 26 s

2 Resuelve.

- Daniel dio un paseo a caballo de 2 horas y 35 minutos.
¿Cuántos minutos duró el paseo?

- Teresa ha grabado una canción de 2 minutos y 35 segundos de duración y otra canción de 145 segundos.

¿Cuántos segundos dura una canción más que la otra?

- Gustavo comenzó su clase de pintura a las 17:30 y terminó a las 18:15.
¿Cuántos segundos duró la clase?



LENGUA CASTELLANA

Sinónimos y antónimos:

1 Escribe una palabra sinónima de cada una de estas:





automóvil



cabello

aula

2 Escribe el antónimo de cada palabra destacada.

recta contaminado desconocido entretenido vacío ancha

una calle estrecha ▶ _____

un aire puro ▶ _____

un vaso lleno ▶ _____

un escritor famoso ▶ _____

una raya torcida ▶ _____

un libro aburrido ▶ _____

3 Elige un sinónimo y un antónimo para cada palabra.

veloz encantador sencillo sosegado

intranquilo difícil antipático lento

• fácil $\begin{matrix} \nearrow \\ \searrow \end{matrix}$ _____

• rápido $\begin{matrix} \nearrow \\ \searrow \end{matrix}$ _____

• tranquilo $\begin{matrix} \nearrow \\ \searrow \end{matrix}$ _____

• simpático $\begin{matrix} \nearrow \\ \searrow \end{matrix}$ _____

4 Copia sustituyendo la palabra subrayada por un sinónimo y la destacada en negrita por un antónimo.

Los alumnos se mostraron muy perezosos.

CIENCIAS SOCIAIS

A auga e as rochas:

1. Responde ás seguintes preguntas.

a) Que tipos de augas distinguimos segundo o lugar no que se atopan?

b) Que tipos de augas distinguimos segundo a cantidade de sal que posúan?

c) Escribe e define os tipos de augas continentais que coñeces.

d) Define evaporación

e) Que é a condensación?

2. Anota o nome dos océanos do planeta en orde de maior a menor tamaño