

CIENCIAS DA NATUREZA

1 Que características comparten todos os seres vivos? Marca.

Nacen.

Aliméntanse.

Reprodúcense.

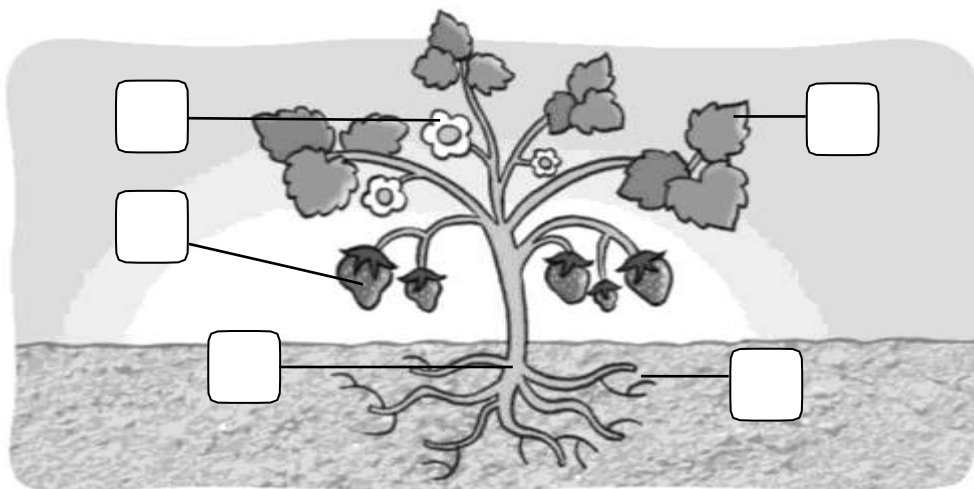
Teñen ás e plumas.

Corren pola terra.


Morren.

2 Observa a planta e escribe o número que corresponda.

- 1. raíz
- 2. talo
- 3. folla
- 4. flor
- 5. froito



3 Colorea os animais que viven no bosque.



● Le como se alimentan estes animais e completa.

carnívoro

herbívoros

omnívoros



O xabaril come todo tipo de alimentos. É un animal



A cebra aliméntase de plantas. É un

animal



A aguia aliméntase da carne doutros animais.

É un animal

5 Le e une.

Os animais ovíparos •

• nacen do ventre da súa nai.

Os animais vivíparos •

• nacen de ovos.

6 Escribe nomes de animais.

domésticos

salvaxes

LINGUA GALEGA

NOME _____ DATA _____

1 Escribe separando en sílabas.

cinto

armario

bolboreta



--	--

--	--	--

--	--	--	--

2 Escribe oracións coas palabras propostas.

nésperas

froiteiro

Alberte



pexegos

Brais

cesta



3 Que é? Escribe.



4 Copia tres pratos e elabora

RESTAURANTE O OGRO FELIZ

Croquetas de cuncha de caracol.

Grilos crocantes gratinados

Uñas en salsa de flores.

Tentáculos de polbo azucrados.

Plumas de avestruz fritidas.



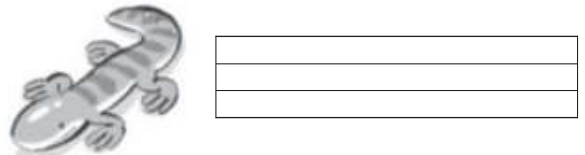

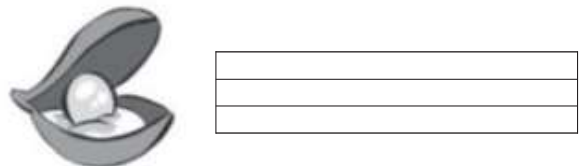



1.º ▶

2.º ▶

3.º ▶

5 Completa con o ou a.



CIENCIAS SOCIAIS

Nome _____ Data _____

1 Arrodea en cada caso o obxecto que está cheo de aire.



2 Pensa e completa.

ceos

vapor

A auga, ao quecer, transfórmase en _____

A auga, ao arrefriar, convértese en _____

3 Observa o tempo que vai e completa.



É un día _____

Vai _____



É un día _____

Vai _____

4 Escribe costa ou interior en cada paisaxe.






5 Escribe onde corresponda.

rio

serra

bosque

mar



6 Escribe o nome dos puntos cardinais.

norte
sur
leste
oeste



MATEMÁTICAS

Nombre _____ Fecha _____

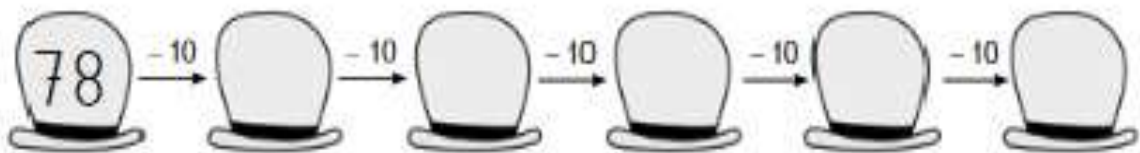
1 Lee los números y completa.

sesenta y tres ▶ ▶ decenas y unidades

sesenta y seis ▶ ▶ decenas y unidades

setenta y nueve ▶ ▶ decenas y unidades

2 Resta y completa la serie.



3 Calcula las restas.

D	U
1	9
-	9
<hr/>	
<input type="text"/>	<input type="text"/>

D	U
2	6
-	5
<hr/>	
<input type="text"/>	<input type="text"/>

D	U
4	7
-	14
<hr/>	
<input type="text"/>	<input type="text"/>

D	U
6	6
-	21
<hr/>	
<input type="text"/>	<input type="text"/>

D	U
3	7
-	36
<hr/>	
<input type="text"/>	<input type="text"/>

D	U
4	4
-	20
<hr/>	
<input type="text"/>	<input type="text"/>

D	U
5	5
-	32
<hr/>	
<input type="text"/>	<input type="text"/>


D	U
7	9
-	59
<hr/>	
<input type="text"/>	<input type="text"/>

4 Colorea.

El número mayor



El número menor



5 Compara los números, completa y escribe $>$ o $<$.

62 es que 79.

62 \circ 79

76 es que 59.


76 \circ 59

6 Resuelve.

Paula tiene 27 gusanos de seda y Adolfo tiene 12 menos que Paula. ¿Cuántos gusanos tiene Adolfo?

Paula \blacktriangleright

Adolfo \blacktriangleright \ominus



Solución \blacktriangleright

Lengua Castellana

1 Primero, lee. Luego, numera las escenas en orden.


Guillermo salió de su casa un domingo.

Enseguida, encontró un gato que le bufó.

Luego, vio una golondrina que hacía su nido.

Más tarde, Guillermo se encontró unas gafas
y las recogió.

Como Guillermo era muy responsable, buscó
a la dueña de las gafas y se las entregó.



PLÁSTICA

PIENSA DURANTE UN RATITO EN ALGO QUE TE HACE MUY FELIZ.
DESPUÉS ESCRÍBELO Y HAZ UN DIBUJO SUPERCHULO.

Me lo puedes enviar a mi correo electrónico.