

Luns 1 de xuño do 2020

### **Matemáticas**

- Seguimos repasando matemáticas. Ya sabéis que aquellos que no tenéis impresora en casa podéis hacer las actividades en la libreta de cuadrícula. Al final de este documento tenéis las actividades. ¡Adelante!

### **Lingua Galega**

- Comprensión lectora: "Un achado inesperado" (páxina 160 e 161).  
Lectura en voz alta do texto, facendo fincapé nas palabras que aparecen en cor vermella e buscando os seu significado no dicionario que aparecen nas páxinas 197, 197, 198 e 199.  
- Facer as actividades da páxina 162.



### **Ciencias Sociais**

- Lectura das páxinas 104 e 105.


Tal e como se di no exercicio 1 da páxina 104, podedes xogar coa vosa familia a representar os movementos da Terra.













# Restas llevando

1 En cada resta, fijate en las unidades y rodea. Después, calcula.


	La cifra mayor	$\begin{array}{r} 32 \\ - 16 \\ \hline \end{array}$	$\begin{array}{r} 48 \\ - 31 \\ \hline \end{array}$	$\begin{array}{r} 50 \\ - 27 \\ \hline \end{array}$	$\begin{array}{r} 76 \\ - 8 \\ \hline \end{array}$
	La cifra menor	<input type="text"/>	<input type="text"/>	<input type="text"/>	<input type="text"/>

2 Observa la clave y calcula.



 - 	 - 	 - 
<input type="text"/>	<input type="text"/>	<input type="text"/>
 - 	 - 	 - 
<input type="text"/>	<input type="text"/>	<input type="text"/>

3 Inventa una resta llevando cuyo minuendo sea mayor que 54 y resuélvela.




4 Piensa y resuelve.

- Ramón tiene 72 años y su hermana Julia tiene 65 años.  
¿Cuántos años tiene Ramón más que Julia?

DATOS  y

OPERACIÓN




SOLUCIÓN

- Begoña tenía 95 €. Ha comprado un abrigo.  
¿Cuánto dinero le ha sobrado?



DATOS  y

OPERACIÓN




SOLUCIÓN

- Sara marcó el año pasado 45 goles y Pedro marcó 27 goles.  
¿Cuántos goles marcó Sara más que Pedro?

DATOS  y

OPERACIÓN



SOLUCIÓN