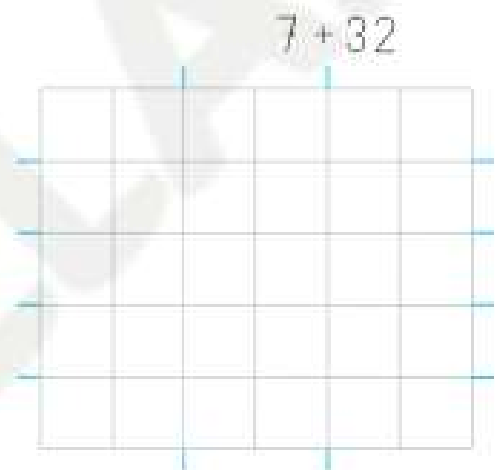

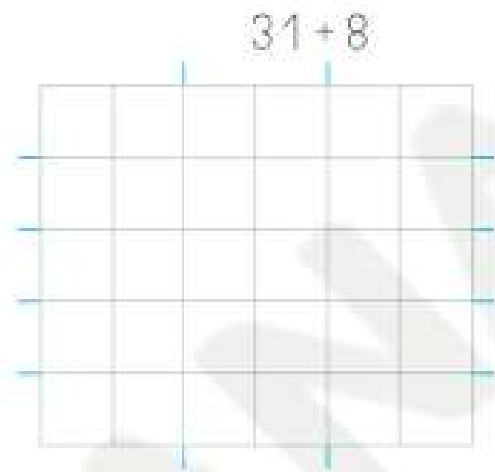
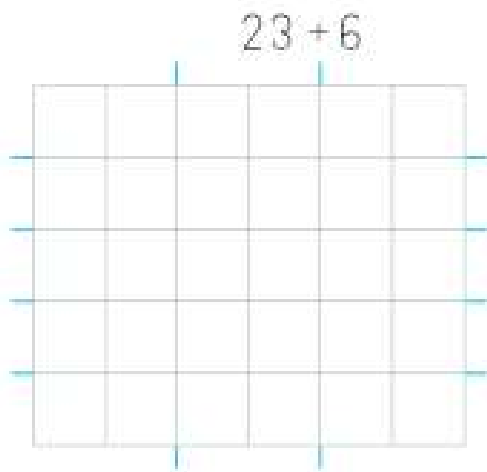
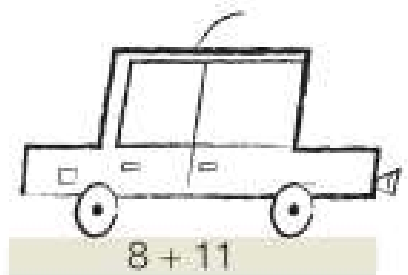



3 *Calcula.*



Busca los resultados en las sumas anteriores
y colorea los coches.




FICHA 5


Nombre _____ Fecha _____

Cálculo mental

$20 + 30$	$70 + 10$	$20 + 20$
$50 + 40$	$60 + 30$	$60 + 20$
$40 + 40$	$10 + 50$	$30 + 40$

¡Mira qué fácil!
 $2 + 3 = 5$
 $20 + 30 = 50$



	$70 - 60$	$90 - 10$	$30 - 30$
$7 - 6 = 1$	$80 - 40$	$40 - 20$	$60 - 40$
$70 - 60 = 10$	$50 - 10$	$10 - 10$	$90 - 20$

1 Completa las series.

Resta 10. ▶

80					
----	--	--	--	--	--

Suma 20. ▶

10				
----	--	--	--	--

2 Presta atención y calcula.

	+20	+10	+10	-20	+10	-20	-10
30							

4 Observa y completa.

En una cesta había 60 moras.
Nos hemos comido 20 moras.
¿Cuántas moras quedan?



Calcula $60 - 20$.

Para restar decenas,
subimos casillas en
la tabla numérica.

0	1	2	3	4	5	6	7	8	9
10	11	12	13	14	15	16	17	18	19
20	21	22	23	24	25	26	27	28	29
30	31	32	33	34	35	36	37	38	39
40	41	42	43	44	45	46	47	48	49
50	51	52	53	54	55	56	57	58	59
60	61	62	63	64	65	66	67	68	69
70	71	72	73	74	75	76	77	78	79
80	81	82	83	84	85	86	87	88	89
90	91	92	93	94	95	96	97	98	99

$$60 - 20 = \boxed{40}$$

Quedan moras.

5 Utiliza tu tabla numérica y calcula.

$70 - 60 = \boxed{}$

$90 - 70 = \boxed{}$

$50 - 20 = \boxed{}$

$40 - 20 = \boxed{}$

$30 - 30 = \boxed{}$

$70 - 10 = \boxed{}$

6 Calcula y colorea las soluciones en la tabla de arriba.

 $38 - 20$

 $26 - 10$

 $33 - 20$

 $29 - 10$

 $48 - 10$

 $34 - 10$