


FICHA 21. La familia del 90

Nombre _____ Fecha _____

- 90 ▶ noventa
- 91 ▶ noventa y uno
- 92 ▶ noventa y dos
- 93 ▶ noventa y tres
- 94 ▶ noventa y cuatro
- 95 ▶ noventa y cinco
- 96 ▶ noventa y seis
- 97 ▶ noventa y siete
- 98 ▶ noventa y ocho
- 99 ▶ noventa y nueve

0	1	2	3	4	5	6	7	8	9
10	11	12	13	14	15	16	17	18	19
20	21	22	23	24	25	26	27	28	29
30	31	32	33	34	35	36	37	38	39
40	41	42	43	44	45	46	47	48	49
50	51	52	53	54	55	56	57	58	59
60	61	62	63	64	65	66	67	68	69
70	71	72	73	74	75	76	77	78	79
80	81	82	83	84	85	86	87	88	89
90	91	92	93	94	95	96	97	98	99

1 Escribe números anteriores y posteriores.

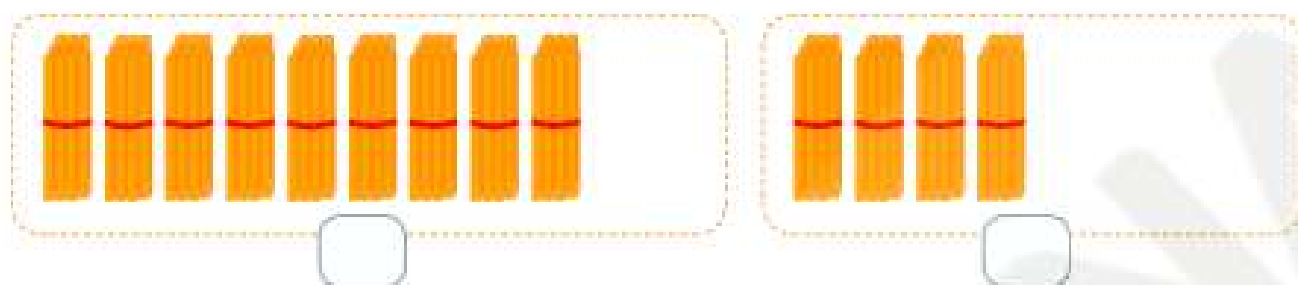


2 Ordena de mayor a menor y escribe el signo < o >.

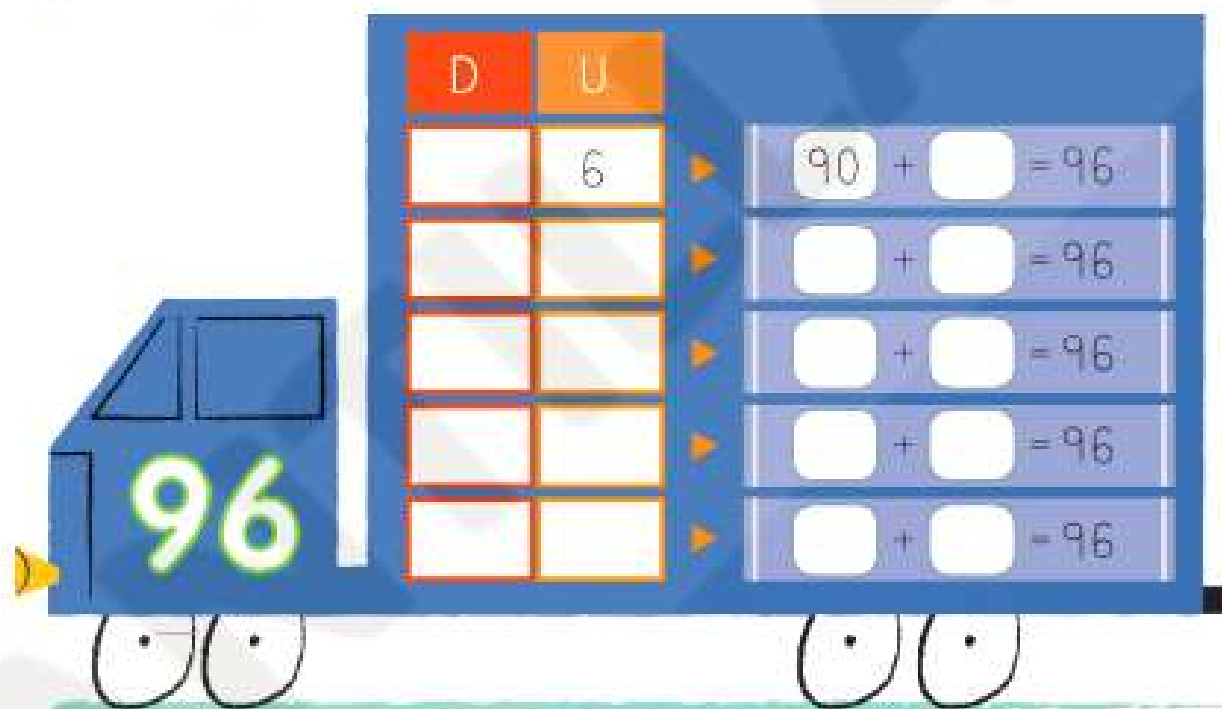
94 90 97 91 99

□ ○ □ ○ □ ○ □ ○ □

- 3 Cuenta las decenas y dibuja las unidades que quieras. Después, escribe el número que has formado.



- 4 Utiliza las barritas y descompón el número del camión de formas diferentes.



- 5 Fíjate en las flechas y completa la serie.



FICHA 22. Los números hasta el 99

Nombre _____ Fecha _____

1 Lee y escribe el número del dorsal de cada niño y niña.


54

70

39

7

- El dorsal de Ana tiene 7 unidades.
- En el dorsal de Juan la cifra de las decenas es un 5.
- El dorsal de Pedro tiene 7 decenas.
- En el dorsal de Paula la cifra de las unidades es un 9.



Ana



Juan



Pedro



Paula

2 Recuerda la tabla numérica y completa.

					55				
							67		
		71							
			93						