

## Conocemos las figuras planas



Triángulo



Círculo



Rectángulo



Cuadrado

1 Colorea según se indica. Después, cuenta y completa.



2







2 Continúa las series.



2. ¿Qué formas geométricas hay en la máscara maya? Marca y escribe su nombre.



 \_\_\_\_\_   \_\_\_\_\_

 \_\_\_\_\_   \_\_\_\_\_