

# Preparamos una fiesta

Prueba

Nombre \_\_\_\_\_

Apellidos \_\_\_\_\_

Curso 2.º Grupo \_\_\_\_\_ Fecha \_\_\_\_\_

EJERCICIOS

COMPETENCIA  
MATEMÁTICA

3

## 1 Calcula mentalmente.

$20 + 5 = \square$

$30 - 9 = \square$

$40 + 3 = \square$

$60 - 4 = \square$

$80 + 6 = \square$

$70 - 2 = \square$

$90 + 7 = \square$

$50 - 1 = \square$

## 2 Calcula las siguientes sumas:

$$\begin{array}{r} 75 \\ + 15 \\ \hline \square \end{array}$$

$$\begin{array}{r} 271 \\ + 125 \\ \hline \square \end{array}$$

$$\begin{array}{r} 76 \\ + 65 \\ \hline \square \end{array}$$

## 3 Calcula las siguientes restas:

$$\begin{array}{r} 136 \\ - 87 \\ \hline \square \end{array}$$

$$\begin{array}{r} 195 \\ - 107 \\ \hline \square \end{array}$$

$$\begin{array}{r} 307 \\ - 117 \\ \hline \square \end{array}$$

Nombre \_\_\_\_\_


Curso **2.º**

Apellidos \_\_\_\_\_


Grupo \_\_\_\_\_

**4** Haz los siguientes cálculos:

2 centenas y 2 decenas más 9 decenas y 2 unidades.



2 centenas y 4 unidades menos 3 decenas y 5 unidades.



**5** Representa en los relojes las siguientes horas:

Las tres.



Las dos y media.



**6** Juan tiene cita con el dentista a las cuatro y media. Una hora y media más tarde ha quedado con María.  
¿A qué hora ha quedado con María?

Nombre \_\_\_\_\_


Curso **2.º**

Apellidos \_\_\_\_\_

Grupo \_\_\_\_\_


**7** Los amigos de Eric han inflado 3 decenas de globos. Si han explotado 7 globos, ¿cuántos quedan?

- 3 decenas de globos son  globos.



- Escribe la solución:

**8** Alexis recoge 19 vasos vacíos y María 18 vasos. ¿Cuántos han recogido entre los dos?



- Escribe la solución: