

*Ordena estas cantidades de menor a mayor*

594	495	549	459	599	544
-----	-----	-----	-----	-----	-----

*Respuesta:*

--	--	--	--	--	--

*Calcula:*

$$\begin{array}{r} 566 \\ - 132 \\ \hline \end{array}$$

$$\begin{array}{r} 634 \\ - 234 \\ \hline \end{array}$$

$$\begin{array}{r} 488 \\ - 167 \\ \hline \end{array}$$

*Anteriores y posteriores:*

_____	666	_____	_____	200	_____
_____	768	_____	_____	990	_____
_____	994	_____	_____	780	_____
_____	222	_____	_____	450	_____

*Escribe con letras:*

999: \_\_\_\_\_

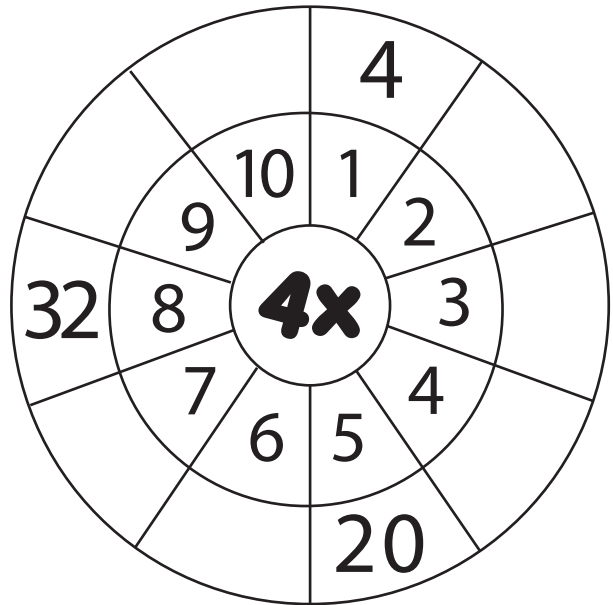
333: \_\_\_\_\_

888: \_\_\_\_\_

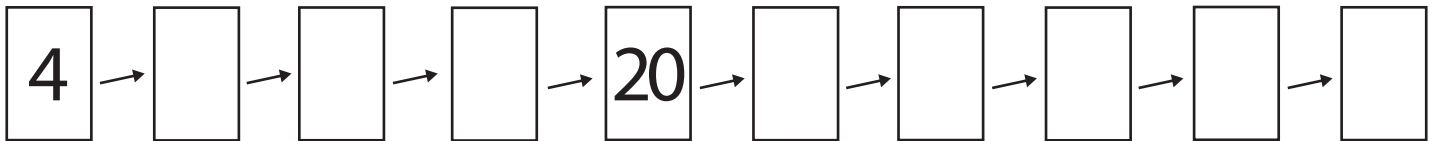
# Tabla del




Completa la rueda.



Completa la secuencia de los multiples del 4.



Colorea los multiples del 4.



Resuelve las operaciones.

- $4 \times 6 = \underline{\hspace{2cm}}$
- $4 \times 2 = \underline{\hspace{2cm}}$
- $4 \times 3 = \underline{\hspace{2cm}}$
- $4 \times 9 = \underline{\hspace{2cm}}$
- $4 \times 1 = \underline{\hspace{2cm}}$
- $4 \times 5 = \underline{\hspace{2cm}}$
- $4 \times 8 = \underline{\hspace{2cm}}$
- $4 \times 4 = \underline{\hspace{2cm}}$
- $4 \times 7 = \underline{\hspace{2cm}}$
- $4 \times 10 = \underline{\hspace{2cm}}$