

24 = 2 decenas y 4 unidades

63 = 6 decenas y unidades

45 = y

86 = y

17 = y

19 = y

15 = y

36 = y

53 = y

66 = y

58 = y

99 = y



Ordenamos de **mayor a menor** estos números

25, 42, 64 \Rightarrow 64 > 42 > 25

Ahora, ordena tú estos números de **mayor a menor**

82, 69, 48, 24, 35, 92, 65, 49, 72

43, 62, 16, 35, 93, 99, 58, 75, 84

Cálculo mental**Cálculo mental****Cálculo mental**

$6 - 0 = \dots$

$9 - 9 = \dots$

$8 - 7 = \dots$

$7 - 5 = \dots$

$4 - 1 = \dots$

$5 - 2 = \dots$

$10 - 2 = \dots$

$8 - 1 = \dots$

$7 - 3 = \dots$

$9 - 1 = \dots$

$9 - 3 = \dots$

$10 - 5 = \dots$

$21 - 1 = \dots$

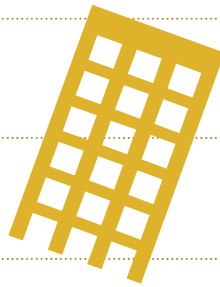
$14 - 7 = \dots$

$23 - 20 = \dots$

$16 - 4 = \dots$

$11 - 5 = \dots$

$9 - 7 = \dots$



$6 - 3 = \dots$

$3 - 1 = \dots$

$9 - 0 = \dots$

$12 - 0 = \dots$

$15 - 1 = \dots$

$17 - 1 = \dots$

$70 - 30 = \dots$

$70 - 50 = \dots$

$80 - 40 = \dots$

$90 - 50 = \dots$

$90 - 10 = \dots$

$10 - 3 = \dots$

$14 - 4 = \dots$

$60 - 20 = \dots$


$30 - 30 = \dots$

$12 - 1 = \dots$

$18 - 2 = \dots$



Repasamos todo lo que sabes.



Completa las tablas.

	3	2	5	7	1	6	8	0	4	9
+1	4									

	3	2	5	7	1	6	8	0	4	9
+2	5									

	3	2	5	7	1	6	8	0	4	9
+10	13									

	3	2	5	7	1	6	8	0	4	9
+9	12									

	7	5	9	2	6	3	8	10	4	1
+3	10									

	8	5	7	10	6	4	1	2	3	9
+4	12									

	5									
+10	15	16	12	18	13	20	17	14	19	11

	10									
+9	19	13	12	18	14	10	17	11	15	16

Nombre _____ Fecha _____

1 Completa y escribe cómo se lee cada número.



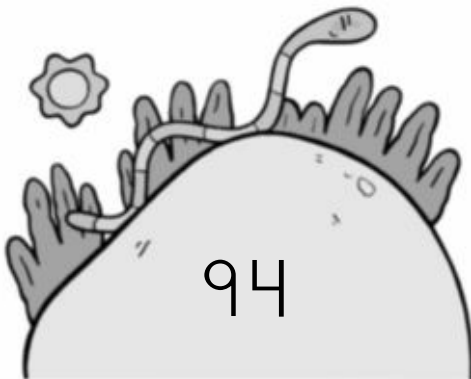
$$\square + \square = \square$$

\square decenas y \square unidades



$$\square + \square = \square$$

\square decenas y \square unidades



$$\square + \square = \square$$

\square decenas y \square unidades

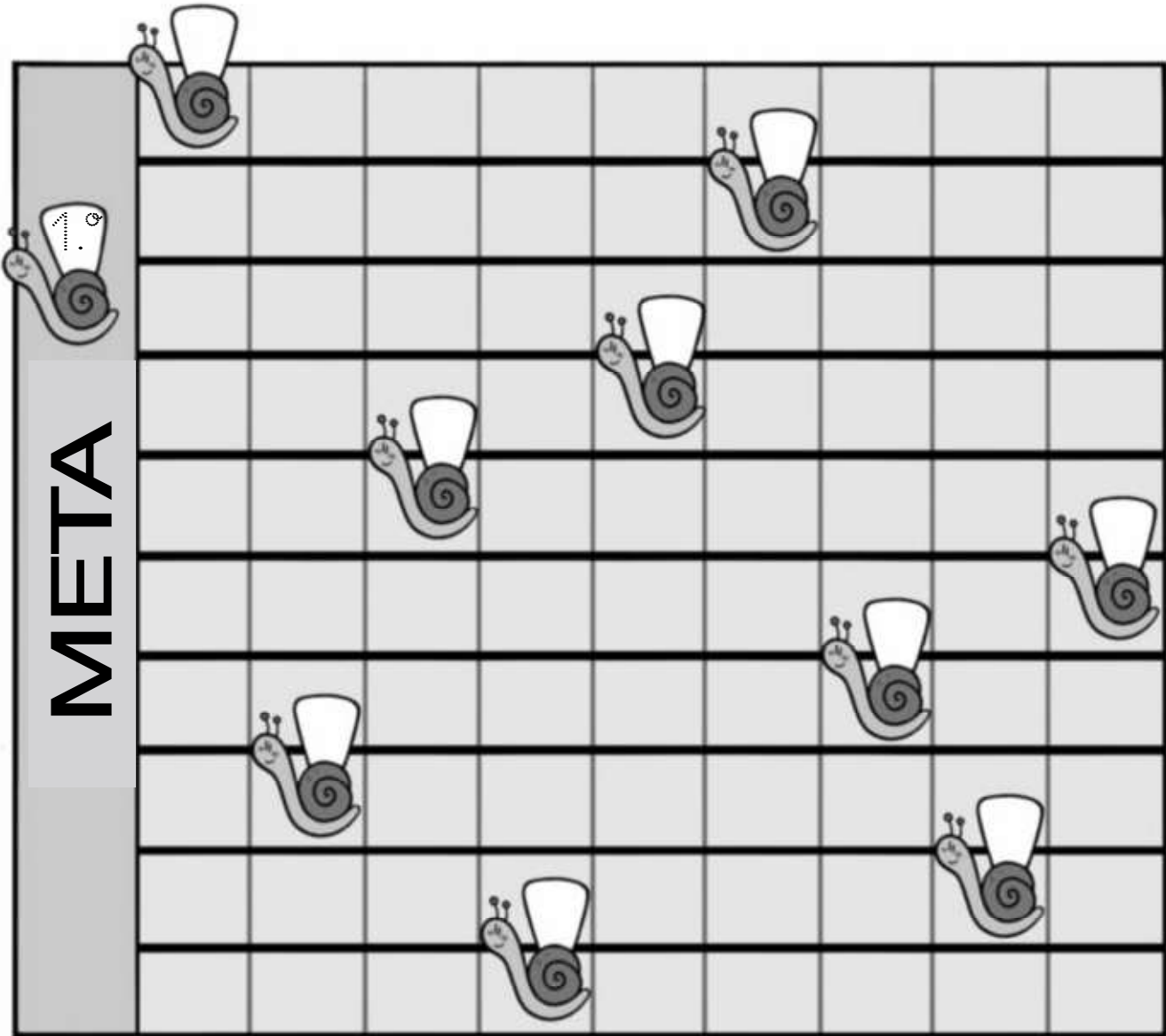


$$\square + \square = \square$$

\square decenas y \square unidades

Nombre _____ Fecha _____

1 ¿Qué puesto ocupa cada caracol? Observa la carrera y escribe el ordinal que corresponda.



► Ahora, escribe con letra qué puesto ocupan estos caracoles.

