

Nome \_\_\_\_\_ Data \_\_\_\_\_

## A contaminación da auga

Algúns ríos e mares están contaminados, é dicir, conteñen substancias que son moi perigosas para os animais que viven neles ou que utilizan as súas augas para beber.

Isto é debido a que as fábricas verten aos ríos produtos que os ensucian. Tamén as persoas contaminamos a auga ao tirar lixo nela.

Os seres vivos necesitamos auga limpa para vivir. Que a vida continúe no noso planeta depende de nós.



**1** Que significa contaminar a auga? Escribe.


**2** Explica o que ocorrería se non houbera auga na Terra.


Nome \_\_\_\_\_ Data \_\_\_\_\_

1 En que orde realizas as comidas do día? Escribe.

merenda

cea

almorzo

xantar

1. \_\_\_\_\_

2. \_\_\_\_\_

3. \_\_\_\_\_


4. \_\_\_\_\_

2 Risca o alimento que sobra en cada grupo.

Leite e derivados



manteiga



kiwi


iogur



Legumes e cereais



garavanzos



espaguetes



salchichas

Carnes e peixes



sardiñas


leite



polo



Verduras e froitas



pan



plátanos



leituga

Nome \_\_\_\_\_ Data \_\_\_\_\_

**1** Elixe un animal e completa o cartel.



polo aire

as aletas

nadar.



pola terra

as patas

voar.



pola auga

as ás

andar.

0 \_\_\_\_\_ desprázase \_\_\_\_\_  
 e utiliza \_\_\_\_\_ para \_\_\_\_\_

**2** Escribe os nomes destes animais e resolve a clave.

víbora  
sapo



8	5	4	1



2	3		7	6	

Os animais que nacen de ovos son...

1	2	3	4	5	6	7	8

Nome \_\_\_\_\_ Data \_\_\_\_\_

**1** Fai parellas e rodéaaas da mesma cor.



papá



avó



irmán



tía



avoa



irmá



mamá



tío

**2** Completa o encrucillado.

cociña

salón

aseo

dormitorio

