





**1. Relaciona as dúas columnas mediante frechas.**

- |                  |   |   |  |
|------------------|---|---|--|
| Pireneos         | • | • | Separan o val do Texo e o do Guadiana. |
| Sistema Central  | • | • | Áchase no arquipélago canario.         |
| Montes de León   | • | • | Separan España de Francia.             |
| Montes de Toledo | • | • | Separa as submesetas norte e sur.      |
| Teide            | • | • | Separan a Meseta de Galicia.           |

**2. Relaciona cada forma do relevo costeiro co debuxo que corresponde.**

	1	2	3	4
a) Praia				
b) Cantil				
c) Golfo				
d) Cabo				

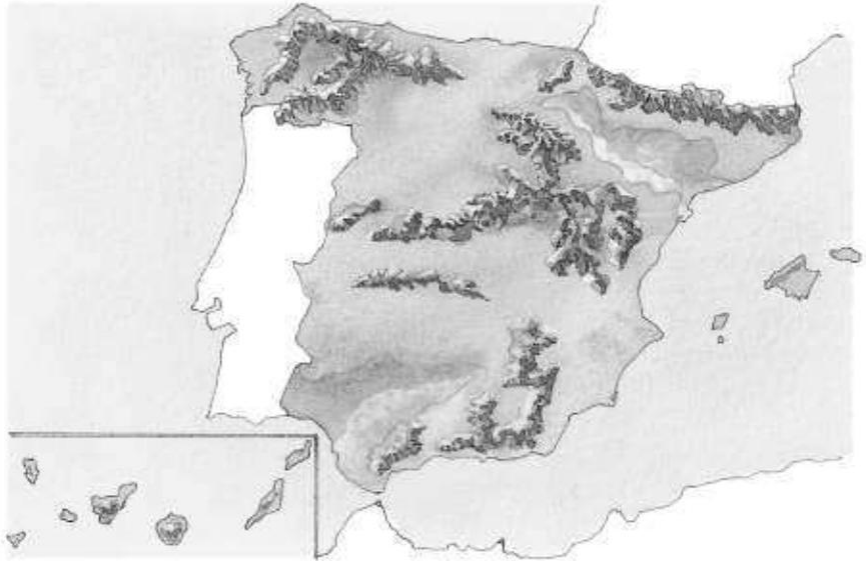
**3. Nesta descrición das costas españolas caeron algunhas palabras que quedaron amontoadas. Colócaas no lugar correcto para completar as oracións.**

- A costa ..... esténdese desde a desembocadura do río Bidasoa, no límite con Francia ata a punta de ....., en Galicia.
- A costa ..... de Galicia abarca desde a punta de Estaca de Bares ata a desembocadura do río Miño, no límite con ....., e a costa atlántica de ..... desde a desembocadura do río Guadiana, no límite con Portugal ata a .....
- A costa ..... esténdese desde a ..... ata o límite con Francia, e inclúe tamén as costas de ..... e as .....

Punta de Tarifa	Ceuta e Melilla	Estaca de Bares	Punta de Tarifa	Portugal	Atlántica
Andalucía	Mediterránea	Cantábrica	Illas Baleares		

**4. Escribe sobre este mapa da Península Ibérica os números dos seguintes elementos onde corresponda.**

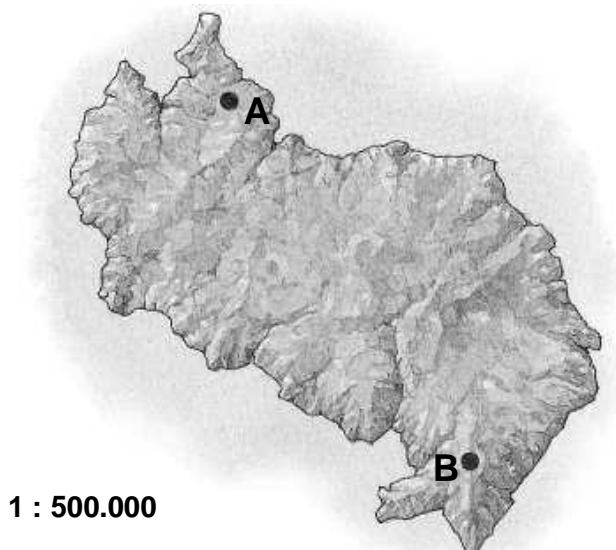
1. Depresión do Guadalquivir
2. Depresión do Ebro
3. Sistema Central
4. Cordilleira Cantábrica
5. Sistemas Béticos
6. Serra Tramuntana
7. Montes de Toledo
8. Sistema Ibérico
9. Macizo Galaico
10. Teide
11. Montes Vascos
12. Pireneos



**5. Relaciona mediante frechas las dos columnas.**

- |                    |   |                    |
|--------------------|---|--------------------|
| Costa atlántica    | • | • Cabo de Gata     |
| Costa mediterránea | • | • Cabo de Fisterra |
| Costa cantábrica   | • | • Delta do Ebro    |
|                    |   | • Golfo de Biscaia |
|                    |   | • Baía de Cádiz    |
|                    |   | • Cabo de Peñas    |

**6.- Observa a escala do mapa e calcula a distancia que hai entre os puntos A e B.**



Distancia en cm:

Distancia en km:

## 7.- Completa e coloreá

- a) De azul, os países fundadores da CEE en 1957: .....
- .....
- b) En vermello, os que entraron en 1973: .....
- c) En marrón o que o fixo en 1981: .....
- d) En verde os que o fixeron en 1986: .....
- e) De laranxa, as incorporacións do 1995: .....
- f) De rosa, os novos países do 2004: .....
- .....
- g) En amarelo a incorporación de 2007: .....
- h) E, de morado, o país que entrou en 2013: .....



## 8.- Responde

Que moeda común teñen gran parte dos países da UE? .....

Con que nome se coñece á CEE dende 1992? .....

Como se chama o tratado co que comezou a historia da UE? .....

Cantos países forman parte, actualmente, da UE? .....