



Nombre: _____ Fecha: _____

MÚSICA, FRACCIONES Y PORCENTAJES


Teniendo en cuenta que cada parte de un compás tiene una duración igual a una negra, en un compás cuatro por cuatro, ¿qué fracción de compás ocupan las siguientes figuras? ¿Qué porcentaje del mismo suponen? Haz las subdivisiones que sean necesarias y colorea la parte correspondiente.

		<u>Fracción</u>	<u>%</u>	
 Compás 4 por 4	Redonda:			
	Blanca con puntillo:			
	Blanca:			
	Negra			
	Corchea:			
	Semicorchea:			

Haz lo mismo en un compás tres por cuatro.

		<u>Fracción</u>	<u>%</u>	
 Compás 3 por 4	Redonda:			
	Blanca con puntillo:			
	Blanca:			
	Negra			
	Corchea:			
	Semicorchea:			

Haz lo mismo con un compás dos por cuatro.

		<u>Fracción</u>	<u>%</u>	
 Compás 2 por 4	Redonda:			
	Blanca con puntillo:			
	Blanca:			
	Negra			
	Corchea:			
	Semicorchea:			