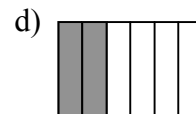




FRACCIONES

1.- ¿Qué fracción de cada rectángulo está coloreada?



2.- Indica cuáles de las siguientes fracciones tiene el mismo numerador

$2/7$, $1/7$, $5/8$, $2/3$, $3/6$, $2/5$

3.- Representa en un rectángulo y escribe cada una de estas fracciones

dos sextos; cuatro séptimos; tres cuartos; un octavo

4.- Ordena estas fracciones de menor a mayor (ayúdate con un dibujo)

$2/7$, $1/7$, $5/8$, $2/3$

5.- Busca la pareja de las fracciones de un cuadrado en el otro cuadrado para que completen la unidad. ¿Hay alguna fracción que no tenga pareja?

$1/3$	$1/8$	$3/7$
$6/9$	$3/4$	$4/9$
	$2/5$	

$1/4$	$4/7$	$2/3$
$3/5$	$5/9$	$7/8$
	$2/9$	

6.- Cuatro amigas han calculado los $4/5$ de 40. ¿Cuál de ellas lo ha hecho bien?

Inmaculada:	$40 : 4 = 10$	y	$10 \times 5 = 50$
Eva:	$40 - 4 = 36$	y	$36 + 5 = 41$
Mercedes:	$40 : 5 = 8$	y	$8 \times 4 = 32$
Esperanza:	$40 - 5 = 35$	y	$35 + 4 = 39$