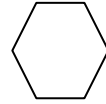
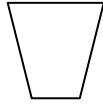

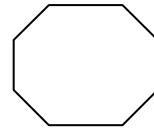
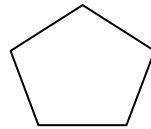
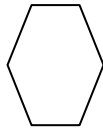
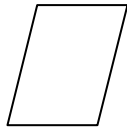
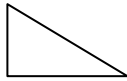


Nombre: _____ Fecha: _____

1- Colorea las figuras que sean polígonos



2.- Dibuja las diagonales de estos polígonos



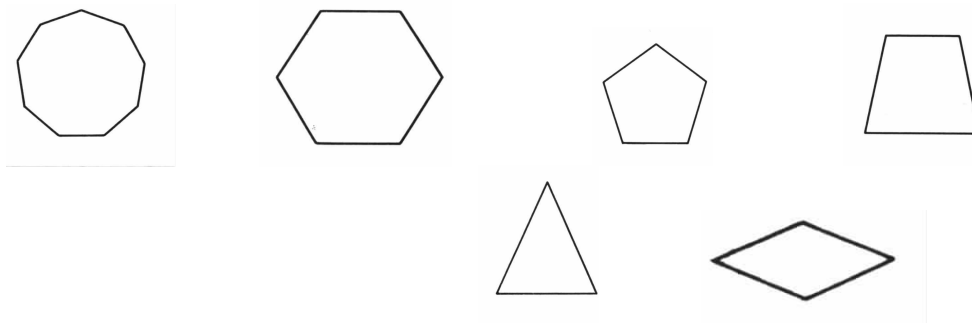
3.- Completa la tabla

	Nº de lados	Nº de ángulos	Nº de vértices	Nº de diagonales
Pentágono				
Heptágono				
Triángulo				
Octógono				
Cuadrilátero				

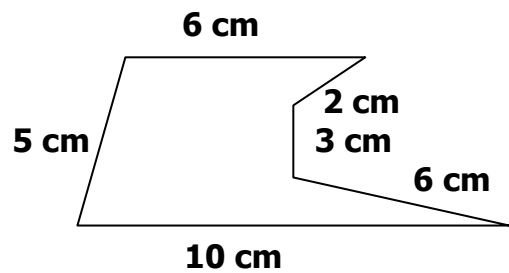
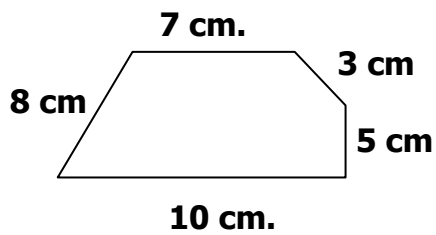
4.- Completa el cuadro

Dibujo del polígono				
Nombre				
Nº de vértices				
Nº de lados				
Nº de diagonales				




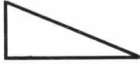
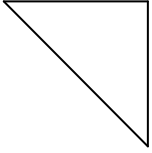
5.- Colorea los polígonos regulares y escribe su nombre



6.- Calcula el perímetro de estos polígonos



7.- Escribe el nombre de estos triángulos según sus lados y sus ángulos

8.- Colorea los lados que sean paralelos



9.- Señala en estos cuadriláteros los ángulos rectos y las diagonales



10.- Traza con el compás una circunferencia de 3 cm. de radio y señala sus elementos

11.- Nombra cinco objetos que sean círculos