

UNIDAD 3


Matemáticas


AR


Nombre y apellidos:

Curso: Fecha:

5 Calcula de dos maneras distintas.

a) $(5 + 6) \times 3$ 

b) $6 \times (2 + 4)$ 

c) $5 \times (8 + 2)$ 

6 Realiza las siguientes multiplicaciones.

$$\begin{array}{r} 236 \\ \times 5 \\ \hline \end{array}$$

$$\begin{array}{r} 352 \\ \times 6 \\ \hline \end{array}$$

$$\begin{array}{r} 457 \\ \times 3 \\ \hline \end{array}$$

$$\begin{array}{r} 639 \\ \times 2 \\ \hline \end{array}$$

$$\begin{array}{r} 467 \\ \times 8 \\ \hline \end{array}$$

7 Si un día tiene 24 horas, ¿cuántas horas hay en siete días?

.....

8 Cada página de un libro tiene 35 líneas. ¿Cuántas líneas tienen nueve páginas?

.....