

UNIDAD 14

Matemáticas

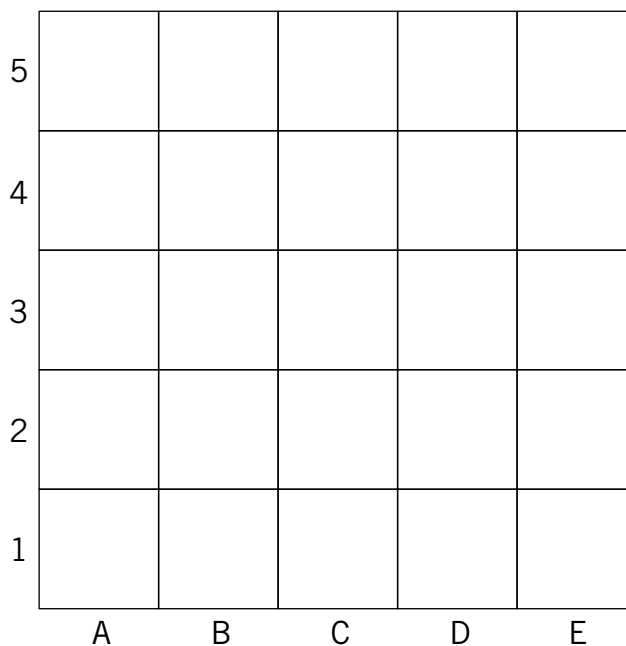
AR

Nombre y apellidos:

Curso: Fecha:

4 Colorea de verde las casillas que se indican.

(A, 5), (A, 4), (B, 4), (B, 3), (C, 3), (C, 2), (D, 2), (D, 1), (E, 1).



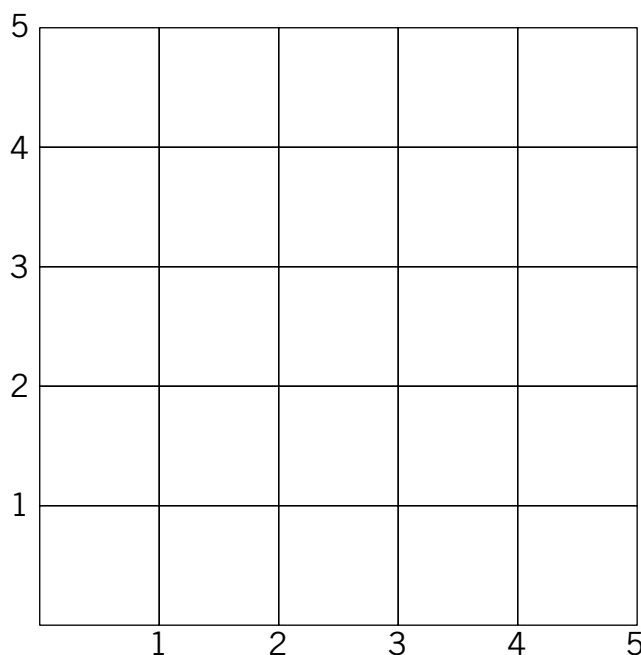
5 Observa el plano cuadrado y señala en él los puntos.

A → (1, 3)

B → (3, 4)

C → (4, 2)

D → (5, 3)



UNIDAD 14

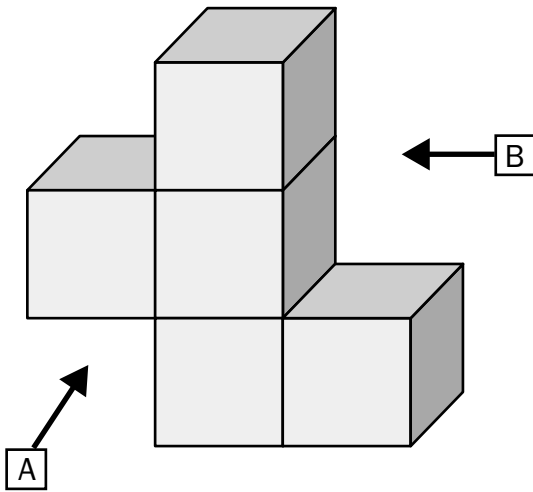
Matemáticas

AA

Nombre y apellidos:

Curso: Fecha:

- 1 Dibuja las vistas de este objeto desde la posición que señala cada flecha:



VISTA DESDE A

VISTA DESDE B

- 2 Haz un croquis a mano alzada del plano de tu casa y representa en él la cocina, el salón, los dormitorios y el o los baños.

