

# UNIDAD 12

## Matemáticas

AR

Nombre y apellidos: .....

Curso: ..... Fecha: .....

1 Encuentra tres regularidades entre los números de estas tarjetas:

345

642

741

148

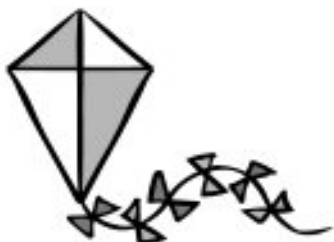
345

.....

.....

.....

2 Escribe alguna regularidad de cada figura.

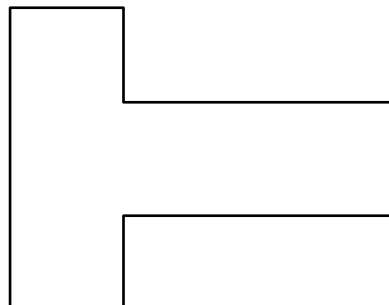



Cometa: .....

Disco de sierra: .....

Bufanda: .....

3 Pinta del mismo color los ángulos que sean iguales en cada figura. Haz lo mismo con los lados.



# UNIDAD 12

## Matemáticas

AR

Nombre y apellidos: .....

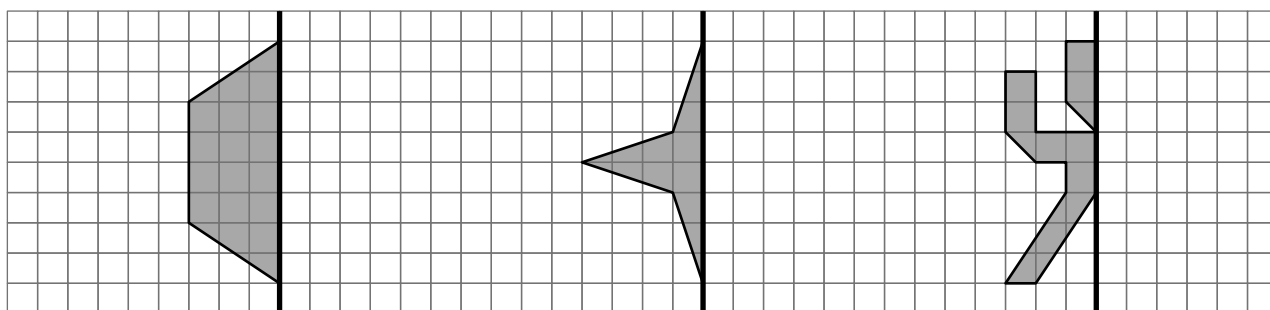
Curso: ..... Fecha: .....

- 4 ¿Cuáles de estas figuras tienen eje de simetría? Dibuja el eje, en las figuras que lo tengan:



Tienen eje de simetría: .....

- 5 Completa la mitad que falta para que cada figura sea simétrica respecto de la línea negra.



- 6 Dibuja la figura simétrica respecto de la línea azul.

