

Unidad 2. Cromos repetidos

Nombre: _____ Curso: _____ Fecha: _____

Contenidos previos

1. Completa con los números que faltan.

0	1	2	3	4			7	8	9
	11			14	15			18	
20		22		24		26	27		29
		32		34		36	37		39
40		42			45			48	
	51		53			56			
		62		64	65		67		69
	71			74		76		78	
80		82	83		85				89
	91			94		96		98	

2. Calcula las siguientes operaciones.


$$\begin{array}{r} 81 \\ + 14 \\ \hline \square \end{array}$$

$$\begin{array}{r} 98 \\ - 11 \\ \hline \square \end{array}$$

$$\begin{array}{r} 25 \\ + 43 \\ \hline \square \end{array}$$

$$\begin{array}{r} 75 \\ - 24 \\ \hline \square \end{array}$$

3. Ordena de menor a mayor los resultados de las operaciones anteriores.

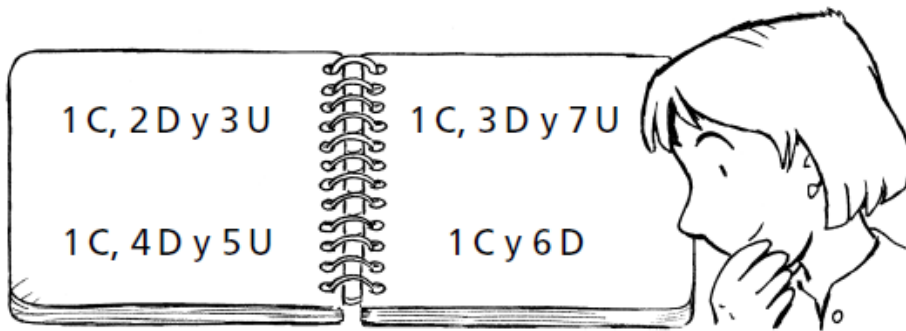


Unidad 2. Cromos repetidos

Nombre: _____ Curso: _____ Fecha: _____

Números del 100 al 199

4. Escribe con cifras y con letra los números de estas hojas.



.....

.....

.....

.....

5. Completa la tabla.

Descomposición	C	D	U	Se lee
100 + 20 + 6			
	1	5	8
				ciento noventa y cinco

Unidad 2. Cromos repetidos

Nombre: _____ Curso: _____ Fecha: _____

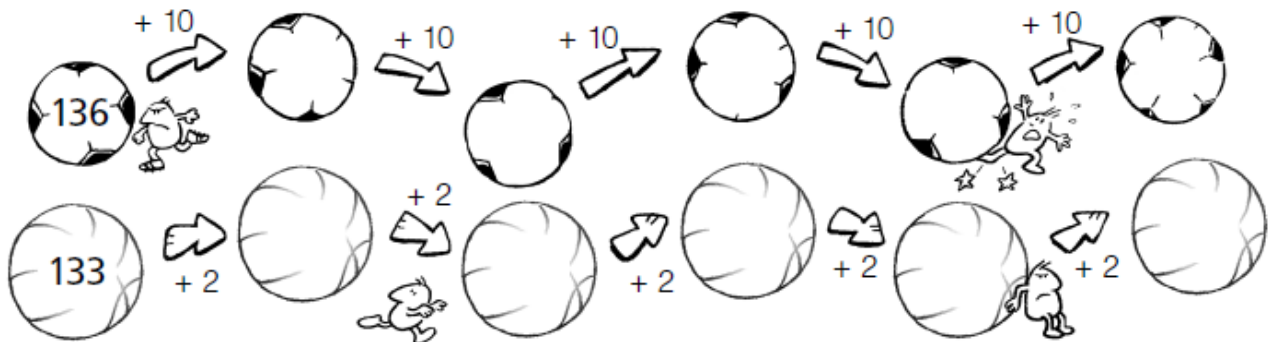
Números pares e impares

6. Escribe en cada caso cuatro números de tres cifras.

pares →

impares →

7. Continúa estas series de números y contesta.



- ¿Qué tipo de números aparecen en la primera serie?

.....
.....

- ¿Y en la segunda?

.....
.....

Unidad 2. Cromos repetidos

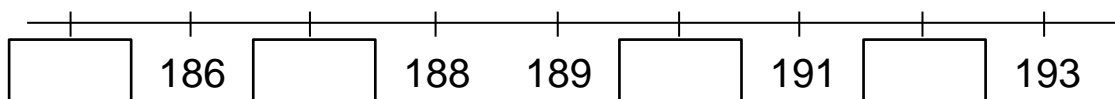
Nombre: _____ Curso: _____ Fecha: _____

Anterior y posterior

8. Completa la tabla.

inmediatamente anterior		inmediatamente posterior
	156	
		113
	160	
		171
180		

9. Observa la recta numérica, completa los números que faltan y contesta.



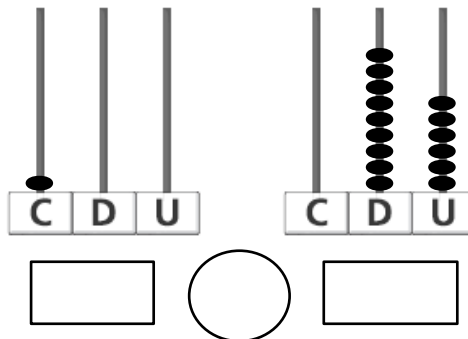
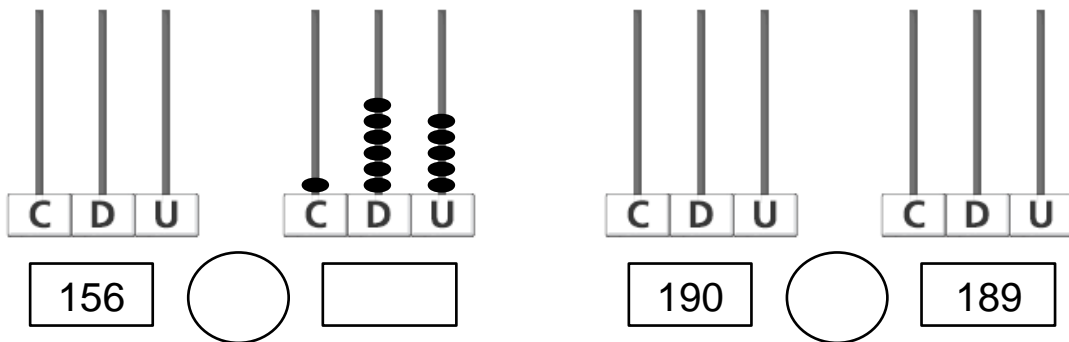
- ¿Qué número es el inmediatamente anterior a 188?
- ¿Qué número es el inmediatamente posterior a 189?
- ¿Qué número es el siguiente a 192?

Unidad 2. Cromos repetidos

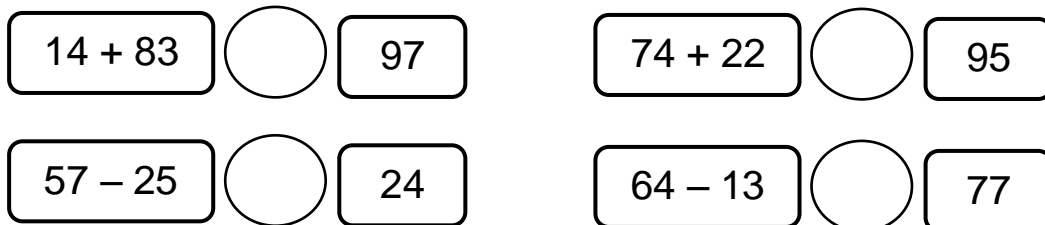
Nombre: _____ Curso: _____ Fecha: _____

Comparación de números

10. Completa los ábacos y compara los siguientes números.



11. Calcula y completa con los símbolos $<$, $=$ o $>$.



Unidad 2. Cromos repetidos

Nombre: _____ Curso: _____ Fecha: _____

Suma con llevadas

12. Realiza las siguientes sumas.

$$\begin{array}{r} \bigcirc \\ 35 \\ 45 \\ + 24 \\ \hline \square \end{array}$$

$$\begin{array}{r} \bigcirc \\ 28 \\ 4 \\ + 23 \\ \hline \square \end{array}$$

$$\begin{array}{r} \bigcirc \\ 41 \\ 19 \\ + 33 \\ \hline \square \end{array}$$

$$\begin{array}{r} \bigcirc \\ 15 \\ 16 \\ + 28 \\ \hline \square \end{array}$$

$$\begin{array}{r} \bigcirc \\ 54 \\ 12 \\ + 37 \\ \hline \square \end{array}$$

13. Rodea las sumas de la actividad anterior cuyo resultado sea mayor que 100.

Unidad 2. Cromos repetidos

Nombre: _____ Curso: _____ Fecha: _____

Suma sin llevadas

14. Une con flechas y ordena los pasos que seguirías para hacer una suma.

primero

Sumo las centenas.

segundo

Sumo las decenas.

tercero

Coloco los sumandos y sumo las unidades.

15. Los siguientes sumandos están mal colocados. Escríbelos debajo correctamente y calcula el resultado.

$$\begin{array}{r} \textcircled{+} \quad \boxed{23} \\ \quad \boxed{134} \\ \hline \boxed{} \end{array}$$

$$\begin{array}{r} \textcircled{+} \quad \boxed{145} \\ \quad \boxed{11} \\ \hline \boxed{} \end{array}$$

$$\begin{array}{r} \textcircled{+} \quad \boxed{157} \\ \quad \boxed{22} \\ \hline \boxed{} \end{array}$$

$$\begin{array}{r} \textcircled{+} \quad \boxed{} \\ \quad \boxed{} \\ \hline \boxed{} \end{array}$$

$$\begin{array}{r} \textcircled{+} \quad \boxed{} \\ \quad \boxed{} \\ \hline \boxed{} \end{array}$$

$$\begin{array}{r} \textcircled{+} \quad \boxed{} \\ \quad \boxed{} \\ \hline \boxed{} \end{array}$$

Unidad 2. Cromos repetidos

Nombre: _____ Curso: _____ Fecha: _____

Suma con llevadas

16. Calcula las siguientes sumas y colorea los resultados menores que 150.

$\begin{array}{r} \text{○} \\ 35 \\ + 129 \\ \hline \square \end{array}$	$\begin{array}{r} \text{○} \\ 142 \\ + 48 \\ \hline \square \end{array}$	$\begin{array}{r} \text{○} \\ 156 \\ + 39 \\ \hline \square \end{array}$	$\begin{array}{r} \text{○} \\ 147 \\ + 18 \\ \hline \square \end{array}$
--	--	--	--

17. Une con flechas cada suma con su resultado.

$152 + 38$	181
$126 + 16$	172
$17 + 164$	190
$4 + 168$	142
$142 + 49$	191

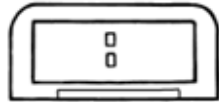
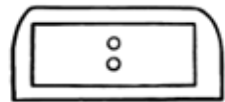
Unidad 2. Cromos repetidos

Nombre: _____ Curso: _____ Fecha: _____


El reloj y la hora

18. Completa con letra o dibuja las horas que faltan en cada reloj.


Son las ocho y media →



Son las dos y cuarto →



19. Une con flechas los relojes que marcan la misma hora.



Unidad 2. Cromos repetidos

Nombre: _____ Curso: _____ Fecha: _____

Posiciones de rectas. El punto

20. Lee y contesta.

- ¿Qué diferencia hay entre las rectas paralelas y las rectas secantes?

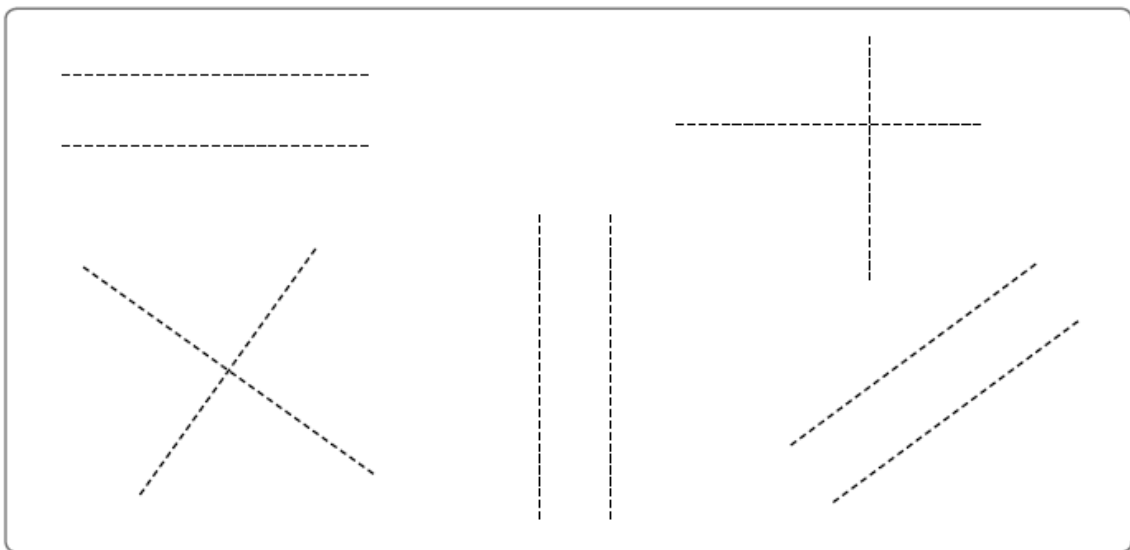
.....
.....

.....
.....

- ¿Dos rectas paralelas pueden ser perpendiculares?

.....
.....

21. Repasa con azul las líneas paralelas y con rojo las perpendiculares.



Unidad 2. Cromos repetidos

Nombre: _____ Curso: _____ Fecha: _____

¡Sin problemas!

Subraya la pregunta que puedes responder a partir del dibujo y resuelve.



22. Luis acaba de salir para ir a su clase de guitarra.

- ¿A qué hora volverá?
- ¿A qué hora se ha marchado?
- ¿Cuántos amigos hay en su clase?

Solución:

23. El cumpleaños de Luis fue hace 5 días.

- ¿Cuántos años cumplió Luis?
- ¿Cuántos amigos fueron a su fiesta de cumpleaños?
- ¿Qué día fue su cumpleaños?

Solución:

Unidad 2. Cromos repetidos

Nombre: _____ Curso: _____ Fecha: _____

Conquista PISApolis

24. ¿Cuál es el resultado de estas operaciones? Rodea la respuesta correcta.

- 171
- 161
- 181

$145 + 26$

$154 + 17$

$118 + 53$

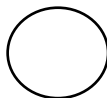
25. ¿Qué número es el inmediatamente anterior a este?
Subraya la respuesta correcta.

- 131
- 119
- 129

130

26. Compara los siguientes números y subraya la opción correcta.

148



184

- mayor que
- menor que
- igual que

Unidad 2. Cromos repetidos

Nombre: _____ Curso: _____ Fecha: _____

¿Te acuerdas?

27. Une con flechas.

un año

una semana

el mes siguiente a abril

el mes anterior a agosto

el día anterior al sábado

7 días

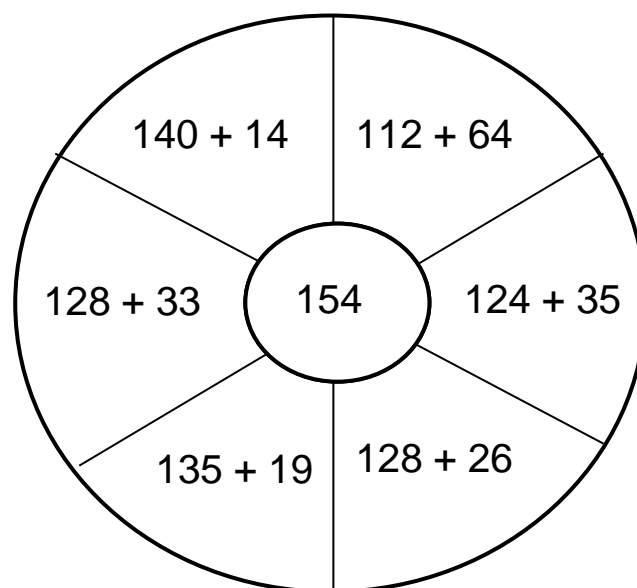
12 meses

julio

viernes

mayo

28. Colorea las operaciones que tengan como solución el número central.



Unidad 2. Cromos repetidos

Nombre: _____ Curso: _____ Fecha: _____

¿Te acuerdas?

29. Completa la tabla, escribiendo con letra el número que corresponda.

inmediatamente anterior		inmediatamente posterior
.....	122
.....	99
.....	150
.....	189

Cálculo mental

30. Calcula mentalmente y completa.

$$\boxed{19} - \boxed{10} = \boxed{}$$

$$\boxed{54} + \boxed{10} = \boxed{}$$

$$\boxed{10} + \boxed{33} = \boxed{}$$

$$\boxed{85} - \boxed{10} = \boxed{}$$

$$\boxed{54} - \boxed{10} = \boxed{}$$

$$\boxed{10} + \boxed{65} = \boxed{}$$

31. Calcula mentalmente y une con flechas.

$$\boxed{73 - 10}$$

$$\boxed{52 + 10}$$

$$\boxed{84 + 10}$$

$$\boxed{18 - 10}$$

$$\boxed{45 - 10}$$

62

94

8

63

35