





Unidad 0. Vuelta al cole

Nombre: _____ Curso: _____ Fecha: _____

Unidades y decenas

1. Completa los ábacos.



2. Une cada número con su descomposición.

- cincuenta y dos
- 4 D y 7 U
- noventa y tres
- 1 D y 8 U
- treinta y cuatro

- dieciocho
- 9 D y 3 U
- 5 D y 2 U
- 3 D y 4 U
- cuarenta y siete

Unidad 0. Vuelta al cole

Nombre: _____ Curso: _____ Fecha: _____

Números del 0 al 99

3. Completa la tabla.

Número	D	U	Se lee
31		
	4	7
			ochenta y dos
10		

4. Rodea en cada caso el número que se indica.

El mayor

16 23
 40 13

El mayor

65 18
 79 84

El menor

56 82
 21 35

El menor

5 36
 10 41

Unidad 0. Vuelta al cole

Nombre: _____ Curso: _____ Fecha: _____

Sumas y restas sencillas

5. Calcula estas sumas.

$$\begin{array}{r} 4 \\ + 1 \\ \hline \square \end{array}$$

$$\begin{array}{r} 6 \\ + 5 \\ \hline \square \end{array}$$

$$\begin{array}{r} 18 \\ + 6 \\ \hline \square \end{array}$$

$$\begin{array}{r} 14 \\ + 4 \\ \hline \square \end{array}$$

6. En la actividad anterior, rodea los resultados mayores que 2 decenas.

7. Calcula las siguientes restas.

$$\begin{array}{r} 7 \\ - 2 \\ \hline \square \end{array}$$

$$\begin{array}{r} 8 \\ - 2 \\ \hline \square \end{array}$$

$$\begin{array}{r} 17 \\ - 4 \\ \hline \square \end{array}$$

$$\begin{array}{r} 19 \\ - 13 \\ \hline \square \end{array}$$

8. Rodea los resultados impares de la actividad anterior.