

Unidad 4. Vamos a ganar

Nombre: _____ Curso: _____ Fecha: _____

1. Han puesto un circo al lado de la casa de Nerea. El miércoles vendieron 314 entradas y regalaron 334; el jueves vendieron 371 y regalaron 256; el viernes vendieron 392 y regalaron 121, y el sábado vendieron 385.

Escribe todos los números de entradas vendidas y regaladas que sean mayores que 300.

2. Completa esta tabla con el número de entradas vendidas en el circo que han puesto al lado de la casa de Nerea.

- Miércoles →314 entradas
- Jueves →371 entradas
- Viernes →392 entradas
- Sábado →385 entradas

Número	C	D	U	Se lee

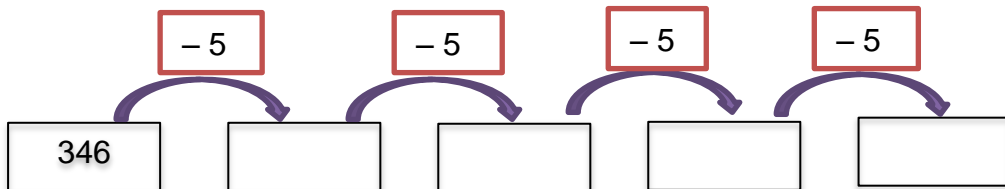
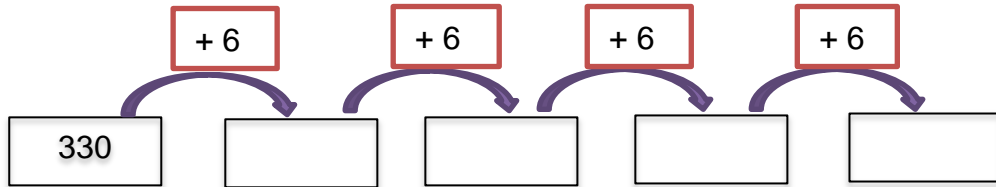
3. Une con flechas según corresponda.

345	•	•	300 + 20 + 1
321	•	•	300 + 50 + 7
378	•	•	300 + 70 + 8
357	•	•	300 + 40 + 5

Unidad 4. Vamos a ganar

Nombre: _____ Curso: _____ Fecha: _____

4. Continúa estas series.



5. El pueblo de Mario está una distancia de 312 km. Si ha recorrido 138 km.
¿Cuánto le falta por llegar?

• Escribe las siguientes restas en vertical y calcula el resultado. Después, rodea la resta que corresponda con la operación que hay que calcular para resolver el problema.

$$\begin{array}{r} 312 - 122 \\ \hline \square \\ - \square \\ \hline \square \end{array}$$

$$\begin{array}{r} 345 - 138 \\ \hline \square \\ - \square \\ \hline \square \end{array}$$

$$\begin{array}{r} 312 - 138 \\ \hline \square \\ - \square \\ \hline \square \end{array}$$

$$\begin{array}{r} 332 - 228 \\ \hline \square \\ - \square \\ \hline \square \end{array}$$

Unidad 4. Vamos a ganar

Nombre: _____ Curso: _____ Fecha: _____

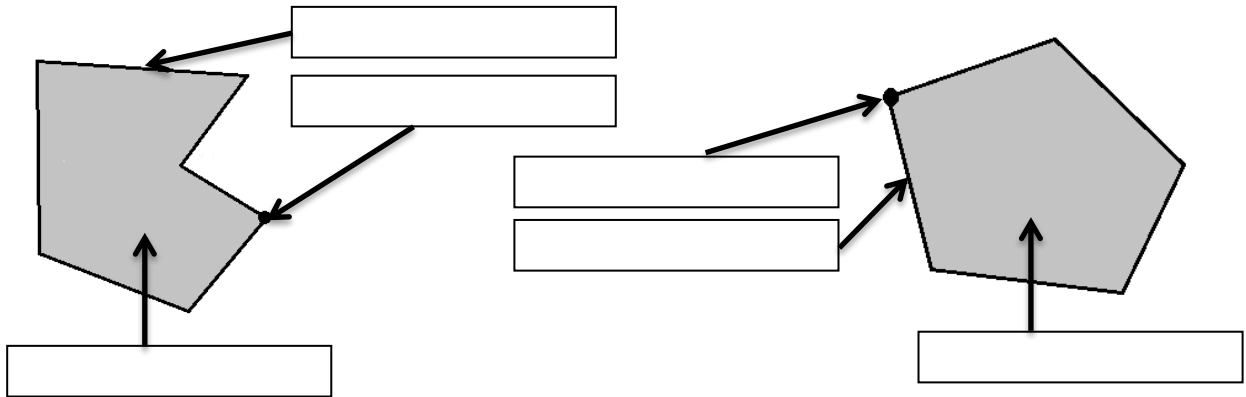
6. Completa con las palabras de las etiquetas.

Vértice

Lado

Pentágono

Hexágono

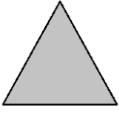

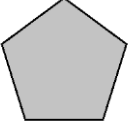
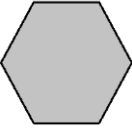


¿Qué es un polígono?

Unidad 4. Vamos a ganar

Nombre: _____ Curso: _____ Fecha: _____

7. Completa esta tabla.

Polígono	Número de lados	Número de vértices	Se nombra
			
			
			
			

8. Relaciona con flechas según corresponda.

$341 + 10$ •

$223 - 10$ •

$334 + 10$ •

$278 - 10$ •

$377 + 10$ •

•

•

•

•

•

Unidad 4. Vamos a ganar

Nombre: _____ Curso: _____ Fecha: _____

9. Gloria estuvo el domingo en el zoo viendo los animales. Observa el dibujo y después completa la tabla.

	Recuento	Número de animales
Osos		
Pingüinos		
Focas		



10. Lee la información y completa.

Mónica tiene 5 canicas amarillas, 8 canicas verdes, 3 canicas rojas y 4 canicas azules.

	Recuento	Número de canicas
Amarillas		
Verdes		
Rojas		
Azules		

- ¿De qué color tiene el mayor número de canicas?

- ¿De qué color hay 4 canicas?

- ¿De qué color tiene el menor número de canicas?

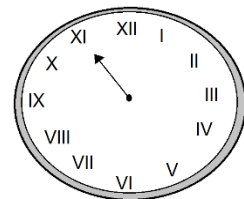
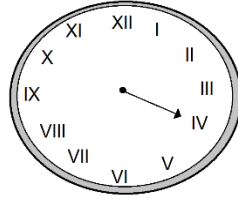
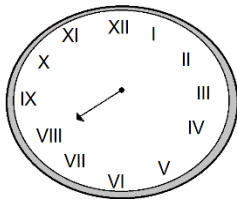
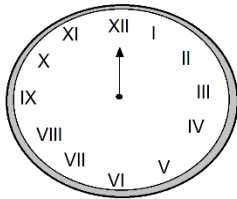
Unidad 4. Vamos a ganar

Nombre: _____ Curso: _____ Fecha: _____

11. En un autobús viajan 25 personas. Si se bajan 3 en la parada, ¿cuántas personas quedan en el autobús?

Lee atentamente el enunciado, identifica la pregunta y calcula la solución.

12. A Luis le han regalado un reloj con numeración romana. Escribe en número, la hora que marca la aguja de cada reloj.



13. Los romanos durante muchos años ocuparon España y construyeron puentes, acueductos, anfiteatros... En muchos de estos monumentos utilizaron números romanos.

Busca cuatro imágenes de construcciones romanas en España en las que haya números romanos. Pégalas y escribe en qué lugar están.
