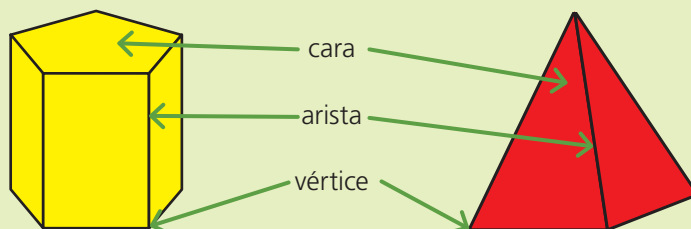


# Ampliación

## ➔ POLIEDROS Y SUS ELEMENTOS

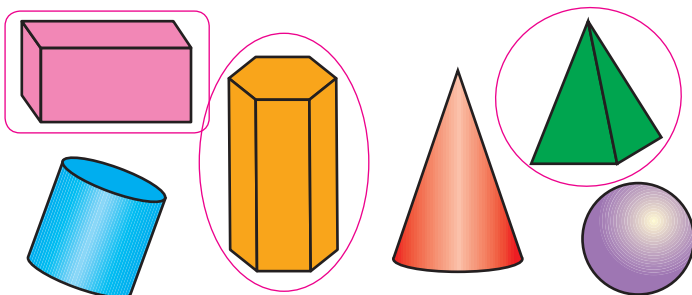
Los **poliedros** son cuerpos geométricos cuyas caras son polígonos, como el prisma y la pirámide.

- Elementos de un poliedro




### ► Actividades

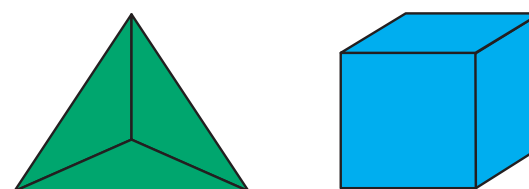
1. Rodea los poliedros de entre los siguientes cuerpos geométricos y razona tu elección. **Respuesta libre.**



2. Busca los elementos de los poliedros en la siguiente sopa de letras.



3. Observa los siguientes poliedros y contesta a las preguntas.



- ¿Cuántas caras tienen? **4 caras, 6 caras**
- ¿Cuántos vértices? **4 vértices, 8 vértices**
- ¿Cuántas aristas? **6 aristas, 12 aristas**
- ¿Qué forma tienen las caras? **triángulos, cuadrados**

4. Dibuja tres objetos de la vida cotidiana que tengan forma de poliedro.

**Respuesta libre.**

### Contenidos

Poliedros y sus elementos básicos: vértices, caras y aristas

### Criterios de evaluación

1. Conocer las características de los poliedros e identificarlos en el entorno inmediato.

### Estándares de aprendizaje evaluables

- 1.1 Reconoce e identifica en el entorno escolar y familiar objetos con forma de poliedro y los describe utilizando un vocabulario básico.

### Competencias clave IIMM

