


Unidad 10. El mago

Nombre: _____ Curso: _____ Fecha: _____

El cuádruple





$$4 \times 7 = 28$$

El cuádruple de 7 es 28.

El **cuádruple** de un número se calcula multiplicándolo **por 4**.

1. Dibuja el cuádruple de los siguientes objetos.



Unidad 10. El mago

Nombre: _____ Curso: _____ Fecha: _____

El cuádruple

2. Completa las siguientes frases.

• El cuádruple de 3 es , porque × = .

• El cuádruple de 5 es , porque × = .

• 16 es el cuádruple de , porque × = .

• 36 es el cuádruple de , porque × = .

3. Laura tiene cuatro amigas a las que quiere regalarles una bolsa de pulseras como la suya. La bolsa de pulseras de Laura tiene 7 pulseras. ¿Cuántas pulseras tiene que comprar?

Solución:

Unidad 10. El mago

Nombre: _____ Curso: _____ Fecha: _____

Multiplicación con llevadas

Multiplico 3 por las unidades y coloco la decena.

$$\begin{array}{r} 46 \\ \times 3 \\ \hline 18 \end{array}$$

Multiplico por 3 las decenas y sumo la que me he llevado.

$$\begin{array}{r} 46 \\ \times 3 \\ \hline 138 \end{array}$$

4. Calcula las siguientes multiplicaciones.

$$\begin{array}{r} 72 \\ \times 6 \\ \hline \bigcirc \end{array}$$

$$\begin{array}{r} 25 \\ \times 4 \\ \hline \bigcirc \end{array}$$

$$\begin{array}{r} 36 \\ \times 8 \\ \hline \bigcirc \end{array}$$

5. Andrés recorre todos los días 7 km. ¿Cuántos kilómetros recorre en dos semanas?

Solución: