

Unidad 3. La hora del baño

Nombre: _____ Curso: _____ Fecha: _____

Números ordinales del 21.º al 30.º

21.º vigésimo primero

26.º vigésimo sexto

22.º vigésimo segundo

27.º vigésimo séptimo

23.º vigésimo tercero

28.º vigésimo octavo

24.º vigésimo cuarto

29.º vigésimo noveno

25.º vigésimo quinto

30.º trigésimo

1. Escribe con letra el ordinal inmediatamente anterior y siguiente al dado.

<input type="text"/>	← 23.º →	<input type="text"/>
<input type="text"/>	← 26.º →	<input type="text"/>
<input type="text"/>	← 29.º →	<input type="text"/>

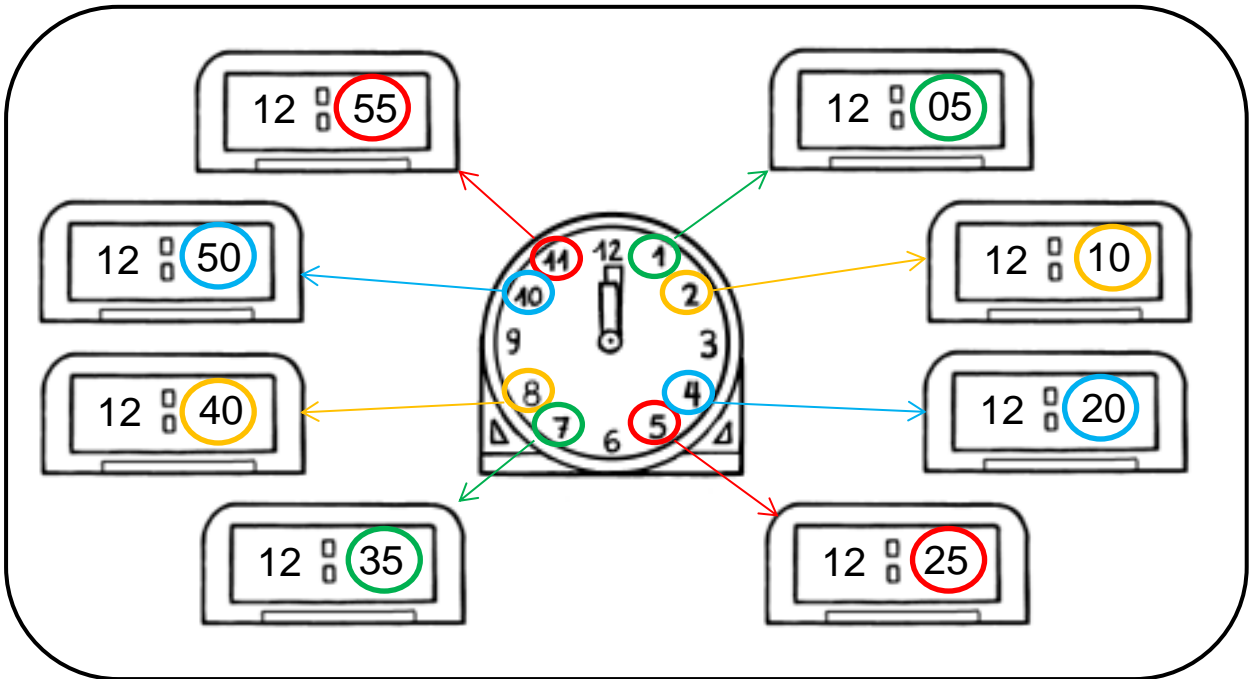
2. Javier va último en una carrera donde participan veintiún atletas. ¿Qué lugar ocupa?

.....

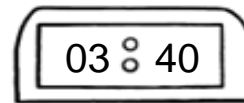
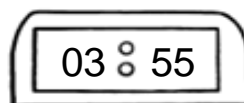
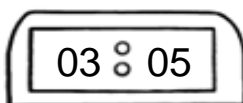
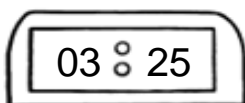


Unidad 3. La hora del baño

Nombre: _____ Curso: _____ Fecha: _____

La hora y los minutos




3. Une con flechas cada reloj analógico con el digital que tenga la misma hora.



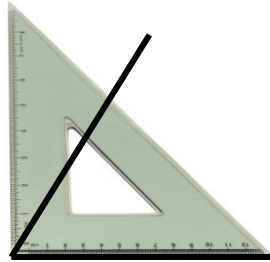
Unidad 3. La hora del baño

Nombre: _____ Curso: _____ Fecha: _____

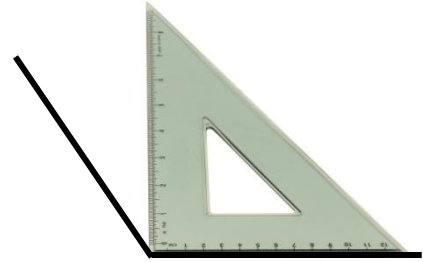
Ángulos



Ángulo recto

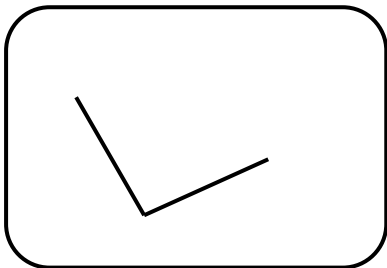


Ángulo agudo
Menor que uno recto

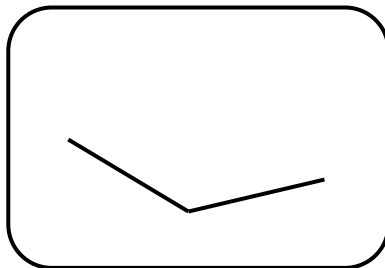


Ángulo obtuso
Mayor que uno recto

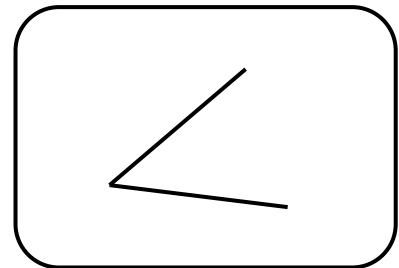
4. Utilizando tu escuadra, clasifica los siguientes ángulos en agudo, recto u obtuso.



.....
.....



.....
.....



.....
.....

5. Observa a tu alrededor y escribe un objeto que tengan un ángulo agudo y otro que tenga un ángulo obtuso.

.....
.....
.....
.....