

ADIVINA LA EDAD




Me llamo Adrián
y tengo 5 años
más que Luis

Me llamo Luis y
tengo 8 años
menos que Pepe




Yo soy Pepe y
tengo 15 años.



Me llamo Pedro y
tengo 3 años más
que Adrián
¿Cuántos años
tengo?

ADIVINA LA EDAD



Me llamo María y
ayer cumplí 61
años.



Yo soy Elisa y
nací 20 años
más tarde que
María.

Mi nombre es
Rosa, y tengo 12
años menos que
Elisa.




Me llamo Ana y
tengo 7 años
menos que Rosa.
¿Cuántos años
tengo?



ADIVINA EL PESO




El león
Simeón pesa
190 kilos



La jirafa
Tocamaña pesa
550 kilos más
que la gorila




La gorila
Petronila pesa
30 kilos
menos que el
león



La cebra Lenebra
pesa 350 kilos
menos que la jirafa.
¿Cuánto pesa la
cebra Lenebra?

ADIVINA EL PESO



Soy Óscar y peso 71 kilos



Me llamo Sandra y peso 12 kilos más que Eva

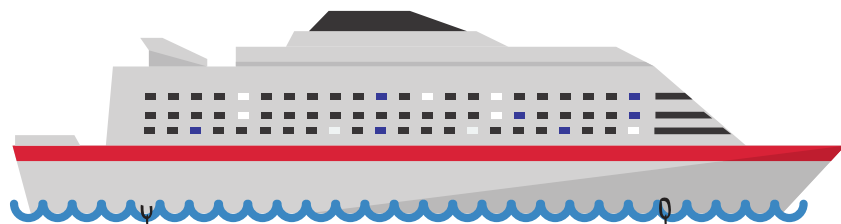


Me llamo Eva y peso 13 kilos menos que Óscar



Mi nombre es Lucas y peso 23 kilos más que Sandra.
¿Cuántos kilos peso?

ADIVINA EL LARGO



Este gran crucero mide 220 metros de largo



Si le quitas 195 metros al crucero, tendrás la medida de este barco pirata




Este enorme barco de carga mide 120 metros más que el barco pirata



Este barquito mide 128 metros menos que el barco de carga. ¿Cuánto mide este pequeño barco?


ADIVINA EL ALTO




ÁRBOL 1



ÁRBOL 2



ÁRBOL 3



ÁRBOL 4

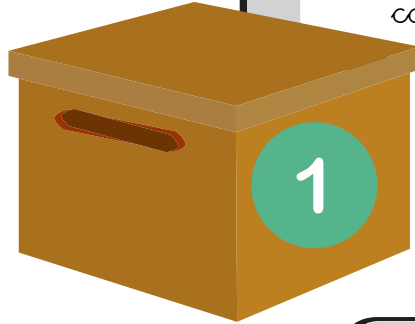
El árbol 2 mide 5 metros menos que el árbol 3

El árbol 3 mide 7 metros menos que el árbol 1

El árbol 1 mide 18 metros de alto

El árbol 4 mide 19 metros más que el árbol 1. ¿Cuánto mide el árbol 4?

ADIVINA CUÁNTOS HAY



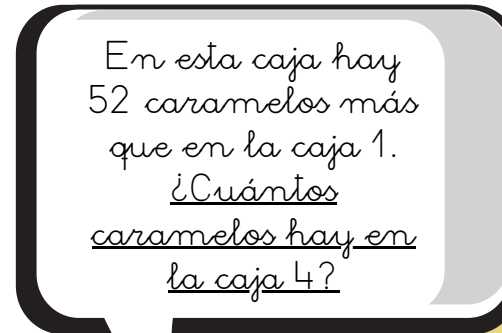
En esta caja hay
211 caramelos
menos que en la
caja 3



En esta caja hay
300 caramelos



En esta caja hay
35 caramelos
menos que en la
caja 2



En esta caja hay
52 caramelos más
que en la caja 1.
¿Cuántos
caramelos hay en
la caja 4?

ADIVINA CUÁNTOS TIENE

En mi armario tengo 13 pares de zapatos



ANTONIO



En mi armario tengo el doble de zapatos que Antonio



LUCÍA



En mi armario tengo 7 pares de zapatos menos que Lucía



LIDIA



En mi armario tengo 5 pares de zapatos más que Lidia. ¿Cuántos pares tengo?



MARCOS

