






































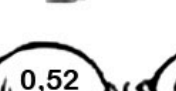
































### TANTO POR CIENTO

Encuentra el mosquito que se va a comer la rana siguiendo el camino que te marcan los tantos por ciento.



- 10% de 30    20% de 50    30% de 120    40% de 50  
 50% de 50    15% de 320    15% de 560  
 25% de 400    16% 370    50% de 120  
 12% de 510    24% de 400    2% de 46  
 5% de 75    15% de 300    40% de 30  
 75% de 84    12% de 675  
 25% de 900

 5	 8	 4	 3	 7	 6	 2
 15	 11	 36	 10	 18	 15	 19
 48	 25	 20	 21	 28,5	 22	 0,5
 84	 30	 7	 8,5	 33	 39	 21
 100	 59,2	 60	 61,2	 96	 0,92	 55
 52,5	 47	 51	 70	 0,52	 3,75	 8,1
 72	 58	 0,25	 63	 12	 45	 99
 124	 9,6	 41	 81	 220	 52	 77
 88	 3,6	 6,3	 225	 50	 4,8	 49
						

## SOLUCIONES

