




1. COMPLETA el cuadro.

UNIDADES DE SUPERFICIE

	Nombre de la unidad	Símbolo	Equivalencia en m ²
Múltiplos	Kilómetro cuadrado Hectómetro cuadrado Decámetro cuadrado		
Unidad	Metro cuadrado		
Submúltiplos	decímetro cuadrado centímetro cuadrado milímetro cuadrado		

2. COMPLETA los cuadros.

m²	cm²		m²	mm²		Km²	m²
2,5			4,1			3,85	
13,64			9,51			0,02	
30			7			9	
							

3. CONVIERTE.

- A) 5 Km² a m² = 2 × _____ =
- B) 12 m² a cm² = _____ =
- C) 10 hm² a m² = _____ =
- D) 12 000 m² a Km² = _____ =
- E) 50 000 m² a hm² = _____ =
- F) 8 Km² a m² = _____ =
- G) 4 620 cm² a m² = _____ =
- H) 2,75 hm² a m² = _____ =
- I) 5,76 cm² a mm² = _____ =
- J) 3,5 m² a dm² = _____ =